



GOVERNO DO ESTADO DO AMAPÁ
SECRETARIA DE ESTADO DA ADMINISTRAÇÃO
(EDITAL Nº 001/2022)
EDUCAÇÃO

PROFESSOR DA EDUCAÇÃO BÁSICA E PROFISSIONAL
HISTÓRIA
TIPO 1 – BRANCA



SUA PROVA

- Além deste caderno contendo **60 (sessenta)** questões objetivas e **1 (uma)** questão discursiva, você receberá do fiscal de prova o cartão-resposta e uma folha de textos destinada à resposta definitiva da questão discursiva.



TEMPO

- Você dispõe de **4 (quatro) horas** para a realização da prova, já incluído o tempo para a marcação do cartão-resposta e preenchimento da folha de textos definitivos.
- **2 (duas) horas** após o início da prova é possível retirar-se da sala, sem levar o caderno de prova.
- A partir dos **30 minutos** anteriores ao término da prova é possível retirar-se da sala **levando o caderno de provas**.



NÃO SERÁ PERMITIDO

- Qualquer tipo de comunicação entre os candidatos durante a aplicação da prova.
- Anotar informações relativas às respostas em qualquer outro meio que não seja o caderno de prova.
- Levantar da cadeira sem autorização do fiscal de sala.
- Usar o sanitário ao término da prova, após deixar a sala.



INFORMAÇÕES GERAIS

- Verifique se seu caderno de provas está completo, sem repetição de questões ou falhas. Caso contrário, notifique imediatamente o fiscal da sala, para que sejam tomadas as devidas providências.
- Confira seus dados pessoais, especialmente nome, número de inscrição e documento de identidade e leia atentamente as instruções para preencher o cartão-resposta e a folha de textos definitivos.
- Use somente caneta esferográfica, fabricada em material transparente, com tinta preta ou azul.
- Assine seu nome apenas no(s) espaço(s) reservado(s).
- Confira seu cargo, cor e tipo do caderno de provas. Caso tenha recebido caderno de cargo ou cor ou tipo **diferente** do impresso em seu cartão-resposta, o fiscal deve ser **obrigatoriamente** informado para o devido registro na ata da sala.
- Reserve tempo suficiente para o preenchimento do seu cartão-resposta e da folha de textos definitivos. O preenchimento é de sua responsabilidade e **não** será permitida a troca do cartão-resposta e da folha de textos definitivos em caso de erro do candidato.
- Para fins de avaliação, serão levadas em consideração apenas as marcações realizadas no cartão-resposta e na folha de textos definitivos.
- A FGV coletará as impressões digitais dos candidatos na lista de presença.
- Os candidatos serão submetidos ao sistema de detecção de metais quando do ingresso e da saída de sanitários durante a realização das provas.
- **Boa sorte!**

Língua Portuguesa

1

Uma das marcas da textualidade é a coerência. Entre as frases abaixo, assinale aquela que se mostra **incoerente**.

- (A) O caminho que desce e o caminho que sobe são os mesmos.
- (B) Há coisas que são tão sérias, que você tem que rir delas.
- (C) Se o mundo fosse bom, o dono morava nele.
- (D) Eu não creio em Deus, mas tenho medo dele.
- (E) O problema com as crianças é que elas não são retornáveis.

2

Nas frases abaixo, foi empregada a preposição COM, com valor nocional.

Assinale a frase cujo valor semântico da preposição está corretamente indicado.

- (A) Ler um livro, para mim, é ausentar-me com o autor / modo.
- (B) O livro é um pássaro com mais de cem asas para voar / companhia.
- (C) Decidi sair do jogo enquanto estou com a bola, em vez de esperar que ela me escape / estado.
- (D) Quando você possuiu um livro com mente e espírito, você enriqueceu / tempo.
- (E) Fotografe com a cabeça e não só com a câmera: seja repórter 24h por dia / matéria.

3

Entre as opções abaixo, assinale aquela em que o aumentativo sublinhado perdeu o valor de aumentativo, designando uma outra realidade.

- (A) O entregador tocou a campainha e ficou esperando no portão.
- (B) O fazendeiro tinha um cachorrão para vigiar a plantação.
- (C) O panelão da feijoada já estava sobre o fogão.
- (D) O apartamento tinha um varandão na frente.
- (E) Na parte de trás, havia um terrenão para o plantio de frutas.

4

Todas as frases abaixo foram reescritas após um deslocamento de termos, com a finalidade de criar-se um pleonasma.

Assinale a opção em que essa modificação foi feita de forma adequada.

- (A) Quem não está comigo está contra mim / Está contra mim aquele que não está comigo.
- (B) Aceite meu conselho. Eu não o uso mesmo / Meu conselho, aceite-o. Eu não o uso mesmo.
- (C) Os amigos são como os táxis, quando faz mau tempo, escasseiam / Escasseiam os amigos quando faz mau tempo, como os táxis.
- (D) A amizade é um comércio desinteressado entre amigos / A amizade, entre amigos, é um comércio desinteressado.
- (E) Escreva na areia as falhas de teu amigo / As falhas de teu amigo, escreva-lhes na areia.

5

Assinale a frase em que a troca de posição dos termos sublinhados **modifica** o sentido original da frase.

- (A) As principais ameaças nessa vida são as pessoas que querem mudar tudo.
- (B) A dificuldade reside não nas novas ideias, mas em escapar das velhas.
- (C) A mais curta distância entre dois pontos está sob construção.
- (D) Trabalho duro e uma atitude apropriada preparam você para os golpes de sorte.
- (E) O preço da liberdade é a eterna vigilância.

6

Assinale a frase abaixo que exemplifica uma interrogação direta e não uma interrogação indireta ou retórica.

- (A) Quem pode orgulhar-se de nunca se ter enganado?
- (B) Já não te disse isso antes?
- (C) Quem virá à festa?
- (D) O senhor pode andar mais depressa?
- (E) Você pode me dar licença?

7

Em todas as opções abaixo há uma oração reduzida de infinitivo, que foi modificada, respectivamente, para uma oração desenvolvida e, a seguir, para uma estrutura nominal.

Assinale a opção em que houve **erro** numa dessas modificações.

- (A) Poucas palavras têm o poder de “meu” para afastar as pessoas / Poucas palavras têm o poder de “meu” para que afaste as pessoas / Poucas palavras têm o poder de “meu” para o afastamento das pessoas.
- (B) Algumas pessoas estão vivas apenas porque é ilegal matá-las / Algumas pessoas estão vivas apenas porque é ilegal que as matem / Algumas pessoas estão vivas apenas porque é ilegal a sua morte.
- (C) A boa educação consiste em ocultar o alto conceito que temos a nosso respeito / A boa educação consiste em que se oculte o alto conceito que temos a nosso respeito / A boa educação consiste no ocultamento do alto conceito que temos a nosso respeito.
- (D) Nunca acreditei em nada até ser oficialmente negado / Nunca acreditei em nada até que fosse oficialmente negado / Nunca acreditei em nada até a negação oficial.
- (E) Chamávamos de céticos aqueles que tinham ilusões diferentes das nossas sem nos preocupar em saber se eles tinham outras / Chamávamos de céticos aqueles que tinham ilusões diferentes das nossas sem que nos preocupemos em saber se eles tinham outras / Chamávamos de céticos aqueles que tinham ilusões diferentes das nossas sem a preocupação de saber se eles tinham outras.

8

Em todas as opções abaixo, há um termo ou segmento sublinhado; assinale a opção em que esse termo ou segmento **não** mostra duplicidade de sentido em referência ao conteúdo da frase.

- (A) Não há nenhum futuro em viagem no tempo.
- (B) Não ligue para os problemas da vida, pois eles não têm telefone.
- (C) O futuro é apenas outro nome para um presente que ainda não desembulhamos.
- (D) Tempo é um oceano, mas ele termina na costa.
- (E) O governo não devia preocupar-se com o meio ambiente, mas com o ambiente inteiro.

9

Na frase “Não se deliberam sentimentos; ama-se ou aborrece-se, conforme o coração quer”, as três formas do vocábulo SE são respectivamente classificadas como

- (A) pronome apassivador / indeterminador do sujeito / indeterminador do sujeito.
- (B) pronome apassivador / pronome apassivador / pronome apassivador.
- (C) indeterminador do sujeito / indeterminador do sujeito / indeterminador do sujeito.
- (D) pronome reflexivo / pronome apassivador / indeterminador do sujeito.
- (E) pronome apassivador / pronome reflexivo / pronome reflexivo.

10

Em todas as frases abaixo há comparações; assinale a opção em que a comparação estabelecida **não** está explicada.

- (A) Os homens são como os livros, muitas vezes são apreciados tarde em demasia.
- (B) Homens são como traduções. Os bonitos não são fiéis. E os fiéis não são bonitos.
- (C) Os homens mais felizes, assim como as nações mais felizes, não têm história.
- (D) Os homens, como sonho, nunca são como imaginamos.
- (E) Como Miss América, meu objetivo é trazer a paz para o mundo inteiro.

Legislação Educacional

11

Com base na Lei nº 9.394/96, de Diretrizes e Bases da Educação Nacional, as seguintes afirmativas acerca da educação básica estão corretas, **à exceção de uma**. Assinale-a.

- (A) A educação básica tem por finalidades desenvolver o educando, assegurar-lhe a formação comum indispensável para o exercício da cidadania e fornecer-lhe meios para progredir no trabalho e em estudos posteriores.
- (B) São objetivos precípuos da educação básica a alfabetização plena e a formação de leitores.
- (C) A escola poderá reclassificar os alunos tendo como base as normas curriculares gerais, exceto quando se tratar de transferências entre estabelecimentos situados no País e no exterior.
- (D) A carga horária mínima anual será de oitocentas horas para o ensino fundamental e para o ensino médio, distribuídas por um mínimo de duzentos dias de efetivo trabalho escolar, excluído o tempo reservado aos exames finais, quando houver.
- (E) Nos estabelecimentos que adotam a progressão regular por série, o regimento escolar pode admitir formas de progressão parcial, desde que preservada a sequência do currículo, observadas as normas do respectivo sistema de ensino.

12

Avalie, com base na Lei nº 9.394/96, de Diretrizes e Bases da Educação Nacional, se o ensino será ministrado, entre outros, nos seguintes princípios:

- I. Gratuidade do ensino público em estabelecimentos oficiais.
- II. Valorização do profissional da educação escolar.
- III. Valorização da experiência extraescolar.
- IV. Consideração com a diversidade étnico-racial.

Estão corretos:

- (A) I e II, apenas.
- (B) III e IV, apenas.
- (C) I, II e III, apenas.
- (D) II, III e IV, apenas.
- (E) I, II, III e IV.

13

Avalie, com base no Estatuto da Criança e do Adolescente – ECA – Lei nº 8.069/90, se as afirmativas a seguir são falsas (F) ou verdadeiras (V).

- () A Lei nº 8.069/90 dispõe sobre a proteção integral à criança e parcial ao adolescente.
- () Considera-se criança, para os efeitos da Lei nº 8.069/90, a pessoa até doze anos de idade incompletos, e adolescente aquela entre doze e dezoito anos de idade.
- () A criança e o adolescente gozam de todos os direitos fundamentais inerentes à pessoa humana.

As afirmativas são, respectivamente,

- (A) V, V e V.
- (B) F, V e V.
- (C) V, F e F.
- (D) F, V e F.
- (E) F, F e F.

14

Com base na Lei nº 9.394/96, de Diretrizes e Bases da Educação Nacional, o ensino médio, etapa final da educação básica, com duração mínima de três anos, terá as seguintes finalidades, **à exceção de uma**. Assinale-a.

- (A) A consolidação e o aprofundamento dos conhecimentos adquiridos no ensino fundamental, possibilitando o prosseguimento de estudos.
- (B) A preparação básica para o trabalho e a cidadania do educando, para continuar aprendendo, de modo a ser capaz de se adaptar com flexibilidade a novas condições de ocupação ou aperfeiçoamento posteriores.
- (C) O aprimoramento do educando como pessoa humana, incluindo a formação ética e o desenvolvimento da autonomia intelectual e do pensamento crítico.
- (D) A compreensão dos vínculos de família e dos laços de convivência humana.
- (E) A compreensão dos fundamentos científico-tecnológicos dos processos produtivos, relacionando a teoria com a prática, no ensino de cada disciplina.

15

“Art. 15. A criança e o adolescente têm direito à liberdade, ao respeito e à dignidade como pessoas humanas em processo de desenvolvimento e como sujeitos de direitos civis, humanos e sociais garantidos na Constituição e nas leis”.

(Estatuto da Criança e do Adolescente)

Avalie se o direito à liberdade compreende, entre outros, os seguintes aspectos:

- I. Ir, vir e estar, sem restrições legais ou impostas, nos logradouros públicos e espaços comunitários.
- II. Opinião e expressão.
- III. Brincar, praticar esportes e divertir-se.
- IV. Buscar refúgio, auxílio e orientação.

Estão corretos os itens:

- (A) I e II, apenas.
- (B) III e IV, apenas.
- (C) II, III e IV, apenas.
- (D) I, II e III, apenas.
- (E) I, II, III e IV.

16

De acordo com o Plano Nacional da Educação em Direitos Humanos, a educação em direitos humanos é compreendida como um processo sistemático e multidimensional que orienta a formação do sujeito de direitos, articulando as seguintes dimensões, à exceção de uma, que está errada. Assinale-a.

- (A) Apreensão de conhecimentos historicamente construídos sobre direitos humanos e a sua relação com os contextos internacional, nacional e local.
- (B) Afirmção de valores, atitudes e práticas sociais que expressem a cultura dos direitos humanos em todos os espaços da sociedade.
- (C) Formação de uma consciência cidadã capaz de se fazer presente em níveis cognitivo, social, ético e político.
- (D) Desenvolvimento de processos metodológicos exclusivistas e de construção individualizada, que usam linguagens e materiais didáticos descontextualizados.
- (E) Fortalecimento de práticas individuais e sociais que gerem ações e instrumentos em favor da promoção, da proteção e da defesa dos direitos humanos, bem como da reparação das violações.

17

Com base no Art. 3º da Lei 0949/2005, avalie se a carreira dos profissionais da educação básica da Rede Pública Estadual de Ensino objetiva:

- I. A profissionalização e valorização do servidor.
- II. A melhoria do desempenho e da qualidade dos serviços de educação prestados ao conjunto da população do Estado do Amapá.
- III. A fixação de padrões e critérios de desenvolvimento funcional para as carreiras que compõem o Quadro de Pessoal dos Profissionais da Educação Básica Pública, de modo a reconhecer a qualificação profissional.
- IV. A implementação de política de pessoal, com vistas a promover o desempenho profissional, a motivação, a qualidade da educação, a eficiência, e a valorização do servidor pelo tempo de serviço.
- V. O comprometimento do profissional da Educação Básica Pública.

Estão corretos os itens:

- (A) I, III e V, apenas.
- (B) II, IV e V, apenas.
- (C) I, II e III, apenas.
- (D) II, III e IV, apenas.
- (E) I, II, III, IV e V.

18

Avalie se a Lei 0949/2005 prevê, entre outros, os seguintes direitos especiais dos profissionais da educação:

- I. Efetiva qualificação permanente, garantida pelo Estado, mediante cursos, estágios, aperfeiçoamento, especialização e atualização técnico-pedagógica sem prejuízo da sua remuneração.
- II. Dispor no ambiente de trabalho de instalações adequadas e ter a seu alcance informações educacionais, bibliotecas atualizadas, material didático, técnico-pedagógico e outros instrumentos em quantidade suficiente e apropriada, bem como contar com assessoria pedagógica que auxilie e estimule a melhoria do seu desempenho profissional e ampliação dos seus conhecimentos.
- III. Liberdade na escolha dos conteúdos e processos didáticos de acordo com a proposta pedagógica das escolas e orientação curricular do sistema estadual de ensino.
- IV. Ser defendido pela direção do estabelecimento de ensino, se ela assim entender pertinente, quando, no regular exercício de suas atividades, for agredido moralmente no ambiente de trabalho.

Estão corretos os itens

- (A) I e II, apenas.
- (B) III e IV, apenas.
- (C) I, II e III, apenas.
- (D) II, III e IV, apenas.
- (E) I, II, III e IV.

19

Avalie, com base no Art. 37 da Lei estadual nº 0066/1993 (RJU), se as seguintes afirmativas acerca do estágio probatório estão corretas:

- I. Ao entrar em exercício, o servidor nomeado para cargo em provimento efetivo ficará sujeito a estágio probatório por período de vinte e quatro meses, durante o qual a sua aptidão e capacidade serão objeto de avaliação para desempenho do cargo.
- II. No estágio probatório, serão observados os seguintes fatores: assiduidade; disciplina; capacidade de iniciativa; produtividade; responsabilidade.
- III. O servidor não aprovado no estágio probatório será exonerado ou, se estável, reconduzido ao cargo anteriormente ocupado.

Está correto o que se afirma em

- (A) I, apenas.
- (B) I e II, apenas.
- (C) II e III, apenas.
- (D) I e III, apenas.
- (E) I, II e III.

20

De acordo com o Art. 53 da Lei estadual nº 0949/2005, que trata dos deveres especiais dos profissionais da educação, no desempenho das atividades que lhe são próprias, o profissional da educação deverá agir de modo a concorrer para os objetivos a seguir, **à exceção de um**. Assinale-o.

- (A) A diluição do sentimento de nacionalidade.
- (B) O resgate e a preservação do patrimônio cultural, artístico, popular e ambiental.
- (C) A vivência e convivência em função das ideias da comunidade.
- (D) Promover o desenvolvimento do senso crítico e da consciência política do aluno.
- (E) Respeitar o aluno como sujeito do processo educacional e comprometer-se com a eficiência de seu aprendizado.

História do Amapá

21

A região fronteira entre a Guiana Francesa e o Amapá tem um histórico marcado por disputas territoriais, que foram enfrentadas em tratados como o Provisional (1700), Utrecht (1713) e Berna (1900), com soluções diferentes a cada vez, ora optando-se pela condição de neutralidade, ora pela condição de separação.

Assinale a opção que identifica corretamente a condição do Tratado Provisional.

- (A) Condição fronteira de separação, ao redistribuir as terras à revelia dos interesses dos países litigiosos.
- (B) Condição fronteira de neutralidade, ao proibir o uso do território pelos dois países.
- (C) Condição fronteira de separação, ao estabelecer limites territoriais específicos entre os dois países.
- (D) Condição fronteira de neutralidade, ao definir as terras em disputa como área internacional.
- (E) Condição fronteira de separação, ao promover a divisão das terras por tempo de posse.

22

Leia a carta do rei de Portugal de 21 de dezembro de 1686, ao então governador do Maranhão:

“Vos valereis ao mesmo tempo dos Missionários Capuchos de Santo Antônio, que têm as Missões do Cabo do Norte, e dos Padres da Companhia de Jesus, que forem mais a propósito a este fim, avisando-os da minha parte do que devem fazer, para se conservar sem desconfiança a sujeição dos índios das Aldeias, e se tratar e ajustar com segurança e paz e amizade do Gentio que não estiver domesticado. Com o cuidado destes Missionários podereis conseguir que os Missionários franceses não adquiram a prática dos Aruazes [Aruã], e que os Índios não busquem a comunicação alheia, esquecidos da própria e natural do meu domínio”.

(Adaptado de ANDRADE E SILVA, José Justino de. *Collecção Cronologica da Legislação Portuguesa. 1683-1700*. Lisboa: Imprensa Nacional, 1859.)

Com base no texto, analise as afirmativas a seguir.

- I. A carta relata a disputa pelo controle dos súditos e das terras do Cabo Norte entre as ordens religiosas vinculadas diretamente ao papado e os representantes político-militares do império português.
- II. A carta manifesta o desejo de impedir que missionários franceses catequizassem os Aruã, uma vez que a adoção do calvinismo pelos ameríndios aumentaria sua hostilidade histórica em relação aos portugueses.
- III. A carta se refere à presença “estrangeira” como ameaça ao domínio político, econômico e religioso dos portugueses, que buscavam manter os índios em aldeamentos e estabelecer alianças com os não catequizados.

Está correto o que se afirma em

- (A) I, apenas.
- (B) II, apenas.
- (C) III, apenas.
- (D) I e III, apenas.
- (E) I, II e III.

23

Na segunda metade do século XX, o governo federal promoveu uma política de reordenamento econômico e territorial do Amapá mediante investimentos em infraestrutura.

Assinale a afirmativa que exemplifica corretamente obras estratégicas de infraestrutura que impactaram na reordenação socioespacial do Amapá.

- (A) A partir dos anos 1950, os rios foram complementados pelo transporte rodoviário: enquanto a malha hidrográfica servia para as longas distâncias, as estradas conectavam vilas e cidades.
- (B) Nos anos 1940, o governo do Amapá assinou o contrato de prospecção de manganês em Cassiporé e Calçoene com a Indústria de Comércio de Minérios (ICOMI).
- (C) Na década de 1950, foi construída a Estrada de Ferro do Amapá com o objetivo de transportar a borracha extraída na região do Cajari, ligando Mazagão ao porto de Santana.
- (D) Durante o regime militar (1964-1985), a política de integração nacional estimulou a construção das rodovias BR-156 e BR-210, como instrumentos de colonização e integração.
- (E) Na década de 1990, as usinas termoeletricas movidas a óleo diesel foram substituídas pelas hidrelétricas de Coaracy Nunes e Santo Antônio do Jari.

24

Em fins da década de 1980, o Amapá foi elevado à condição de estado membro da federação pela Constituição Federal (1988), o que gerou importantes transformações nos âmbitos político-administrativo e econômico.

As afirmativas a seguir indicam corretamente os impactos da estadualização do Amapá, **à exceção de uma**. Assinale-a.

- (A) No campo político, a representação parlamentar passou a ser de 8 vagas para a Câmara Federal e 3 para o Senado, além de ampliar o processo eleitoral para todos os níveis.
- (B) No campo econômico, a autonomia administrativa coincidiu com a descoberta de novas jazidas manganêsíferas e com a ampliação das atividades da ICOMI.
- (C) No campo político-administrativo, o Amapá adquiriu a autonomia e a capacidade de se auto-organizar e elaborar seu "Programa de Governo".
- (D) No campo das finanças públicas, o Amapá passou a arrecadar suas próprias receitas, embora continue recebendo transferências da União.
- (E) No campo do uso e ocupação das terras, ocorreram um aumento da fiscalização nacional e internacional e a implementação de legislações ambientais.

25

A Fortaleza de São José de Macapá foi tombada pelo Iphan, em 1950, em reconhecimento de sua relevância histórica e arquitetônica, sendo uma das principais edificações militares existentes no Brasil e um dos mais importantes monumentos do século XVIII.

A respeito desse patrimônio do Amapá, assinale (V) para a afirmativa verdadeira e (F) para a falsa.

- () É uma fortaleza complexa do ponto de vista da engenharia militar, com baluartes nos ângulos, fosso, redente, revelim e caminho coberto.
- () É uma fortificação que serviu como posto avançado para controlar a circulação de embarcações holandesas ou espanholas junto aos rios Negro, Solimões e Amazonas.
- () É uma grande fortificação que, a par do Real Forte do Príncipe da Beira (RO), simbolizava posse política do território, no contexto da política pombarina.

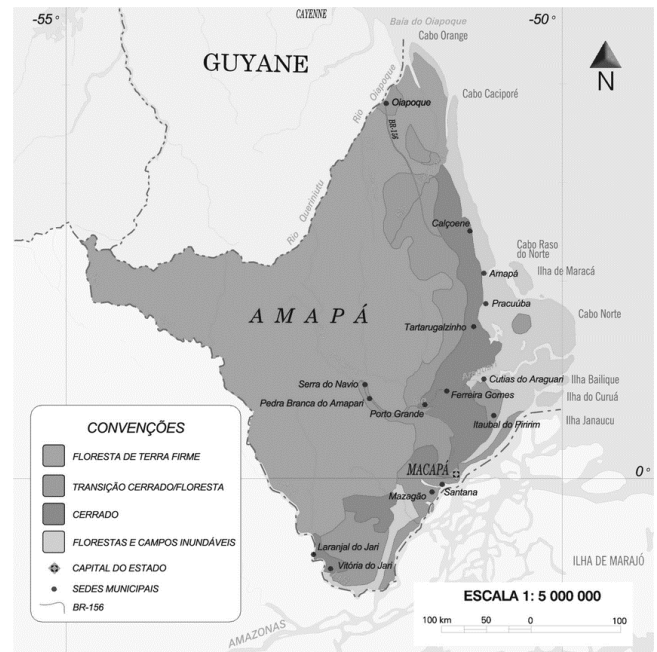
As afirmativas são, respectivamente,

- (A) V – V – F.
- (B) V – F – F.
- (C) F – V – F.
- (D) V – F – V.
- (E) V – V – V.

Geografia do Amapá

26

Mais de 70% da área do Amapá está coberta pela *floresta de terra-firme* e o estado é o que apresenta a menor taxa de desmatamento, em torno de 1%.



Sobre a floresta de terra-firme, assinale a afirmativa correta.

- (A) Caracteriza-se por ser homogênea sob o ponto de vista florístico, havendo um pequeno número de espécies por hectare.
- (B) Possui uma grande massa foliar que, através do processo de evapotranspiração, atua na manutenção do equilíbrio hídrico reinante.
- (C) Desenvolve-se em áreas que estão sujeitas a inundações periódicas, por estar situada nas planícies aluvionais que margeiam os rios.
- (D) Mostra grande densidade de árvores em que as copas frondosas formam um dossel contínuo que permite a forte insolação do solo.
- (E) Apresenta crescimento contínuo permanecendo verde durante todo o ano, mas perde as folhas durante o período mais seco, no outono.

27

Em relação aos serviços de saneamento básico no estado do Amapá, analise as afirmativas a seguir e assinale (V) para a verdadeira e (F) para a falsa.

- () A escassez de investimentos públicos tem limitado a expansão dos serviços de saneamento, o que impede que eles atendam à demanda.
- () O lançamento de esgoto doméstico sem tratamento nos cursos d'água tem agravado a poluição dos recursos hídricos, o que torna a água um veículo de doenças.
- () O uso de metais pesados nos garimpos tem contaminado os corpos d'água, o que expõe a fauna aquática e as populações ribeirinhas a graves riscos sanitários.

As afirmativas são, na ordem apresentada, respectivamente,

- (A) V – F – V.
- (B) F – V – V.
- (C) V – V – V.
- (D) V – V – F.
- (E) F – V – F.

28

Sobre as consequências ambientais do uso das áreas de *ressacas* para habitação, analise as afirmativas a seguir.

- I. Representa uma perda da biodiversidade, uma vez que se faz necessário o desmatamento de grandes áreas.
- II. Reduz a velocidade do escoamento das águas superficiais, uma vez que são feitos aterramentos para a instalação da infraestrutura urbana.
- III. Aumenta as variações da temperatura ao longo do ano, uma vez que facilita a circulação dos ventos de nordeste provenientes do oceano.

Está correto o que se afirma em

- (A) I, apenas.
- (B) I e II, apenas.
- (C) I e III, apenas.
- (D) II e III, apenas.
- (E) I, II e III.

29

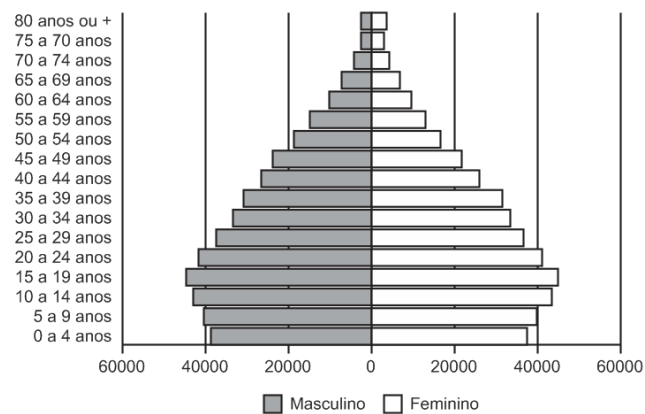
Em 2010, o Produto Interno Bruto (PIB) do estado do Amapá representava 3,5% do PIB total da Região Norte e 0,2% do PIB total do país, segundo o IPEA. Em que pese a pequena contribuição para o PIB brasileiro, a economia amapaense tem crescido acima da média nacional.

Sobre a economia do estado do Amapá, assinale a afirmativa correta.

- (A) A geração de empregos na administração pública, mediante a realização de concursos públicos, tem estimulado fluxos de migrantes mais qualificados.
- (B) A instalação da infraestrutura viária tem ampliado o mercado de trabalho fora do eixo Macapá/Santana, o que tem promovido a interiorização do povoamento.
- (C) A expansão da agricultura empresarial nas áreas de cerrado tem atraído novos investimentos, o que tem aumentado a participação da agricultura no PIB.
- (D) A ligação ao sistema integrado nacional de eletricidade permitiu a instalação de setores industriais intensivos em energia, como a metalurgia do manganês.
- (E) A ampliação das atividades terciárias superiores – comércio e transportes - dão origem a novas funções urbanas, o que tem diminuído a ação polarizante de Macapá.

30

Analise a pirâmide etária do estado do Amapá (2019), a seguir.



(Fonte: DATASUS, 2019. Adaptado)

Sobre a pirâmide etária do Amapá, assinale a afirmativa correta.

- (A) A maior longevidade feminina é explicada pelos melhores salários recebidos pelas mulheres.
- (B) O desequilíbrio entre o contingente de homens e o de mulheres sugere uma queda nas taxas de fecundidade.
- (C) A chegada dos fluxos de imigrantes diminui a expectativa de vida e justifica o pequeno contingente de jovens.
- (D) O estreitamento da base é explicado pela adoção de procedimentos antinatalistas e de planejamento familiar.
- (E) O numeroso contingente de adultos gera uma crise no mercado de trabalho devido à menor oferta de mão de obra.

Conhecimentos Específicos Fundamentos da Educação

31

A avaliação formativa vem ganhando espaço nas discussões pedagógicas, impulsionada pelo uso da tecnologia no cenário de pandemia, e pela necessidade de contribuir de modo equânime para a aprendizagem de cada aluno. Na avaliação formativa, o professor busca promover momentos de maior proximidade com cada estudante, entendendo suas necessidades específicas, seus avanços e refletindo junto com ele sobre estratégias para seguir se desenvolvendo, de acordo com o desejado. Trata-se de uma modalidade avaliativa para acolher e atender os estudantes que mais precisam, sendo fundamental para combater as desigualdades de aprendizagem que afetam, principalmente, estudantes em situações de maior vulnerabilidade.

Adaptado de <https://observatoriodeeducacao.institutounibanca.org.br/>

Com base no texto, assinale a afirmativa que identifica corretamente objetivos da avaliação formativa.

- (A) Motivar o aprendizado e premiar a eficiência.
- (B) Lidar com o erro e acelerar a assimilação de conteúdos.
- (C) Identificar e corrigir as principais falhas de conhecimento.
- (D) Classificar os rendimentos e destacar talentos individuais.
- (E) Personalizar a aprendizagem e reduzir as desigualdades.

32

Leia o fragmento a seguir sobre as características distintivas dos Direitos Humanos.

Tais direitos são _____, pois se estendem a todo gênero humano, em todo tempo e lugar.

São _____, porque seu respeito se pode exigir de qualquer pessoa, autoridade ou comunidade inteira, diferente daqueles emanados das relações contratuais, que somente podem ser exigidos de quem contratou a obrigação correspondente.

São _____, pois nenhuma pessoa ou autoridade pode atentar legitimamente contra eles, sem prejuízo das justas limitações que podem se impor a seu exercício, de acordo com as exigências do bem comum da sociedade.


São _____, pois pertencem à essência do ser humano de forma indissociável, assim não se pode renunciar, transferir ou transmitir, sob nenhum título, como ocorre com os demais direitos que são objetos de transações jurídicas.

Assinale a opção cujos itens completam corretamente as lacunas do fragmento acima.

- (A) necessários – inatos – absolutos – invioláveis.
- (B) imprescritíveis – invioláveis – absolutos – necessários.
- (C) universais – absolutos – invioláveis – inalienáveis.
- (D) congênitos – imprescritíveis – necessários – absolutos.
- (E) universais – inalienáveis – necessários – inatos.

33

Observe a charge “Justiça Injusta”.



Adaptado de <http://observacoeseducacionais.blogspot.com>

É correto afirmar que a situação ironizada na charge pode ser corrigida com base no princípio de

- (A) respeito à diversidade, pelo que entende-se justiça como distribuição uniforme de ferramentas e assistência para os mais variados tipos de pessoas.
- (B) equidade, pelo que entende-se justiça como fomento de oportunidades iguais, considerando as diferenças entre os indivíduos e suas características e necessidades.
- (C) igualdade de oportunidades, pelo que entende-se justiça como estímulo à superação das incapacidades de cada indivíduo para que todos alcancem a mesma meta.
- (D) meritocracia, pelo que entende-se justiça como oferecimento de acesso igualitário às oportunidades, de modo a corrigir as desigualdades sociais.
- (E) personalização do ensino, pelo que entende-se justiça como reconhecimento das capacidades individuais de aprendizado para selecionar os mais capazes.

34

A seleção de atividades no planejamento didático é baseada em princípios teóricos no campo da educação.

A esse respeito, leia os exemplos a seguir.

- I. Pré-avaliação dos alunos para estabelecer o ponto de partida do processo de aprendizagem e o uso de reforços/recompensas tangíveis para aumentar o rendimento.
- II. Ênfase na participação ativa dos alunos nos processos de aprendizagem e na conscientização do ato de aprender, mediante estratégias de autoavaliação, conceituação e revisão.
- III. Valorização da identificação do contexto significativo em que a competência deve ser adquirida e sucessivamente aplicada para que os alunos possam ir além das informações fornecidas.

Assinale a afirmativa que identifica corretamente os fundamentos teóricos das atividades de planejamento descritas em I, II e III, respectivamente.

- (A) Behaviorismo – Construtivismo – Cognitivism.
- (B) Construtivismo – Cognitivism – Behaviorismo.
- (C) Cognitivism – Construtivismo – Behaviorismo.
- (D) Cognitivism – Behaviorismo – Construtivismo.
- (E) Behaviorismo – Cognitivism – Construtivismo.

35

Leia o trecho a seguir, que descreve uma tendência pedagógica e seu impacto para fundamentar o currículo escolar.

O fundamento desse currículo é a seleção e redefinição dos conteúdos de ensino, de modo a atribuir-lhes um sentido prático. Ele pretende superar a preeminência dos saberes das disciplinas escolares, ao privilegiar o “como ensinar”. Nele abre-se espaço para atividades e situações concretas, a partir das quais os alunos devem desenvolver habilidades específicas.

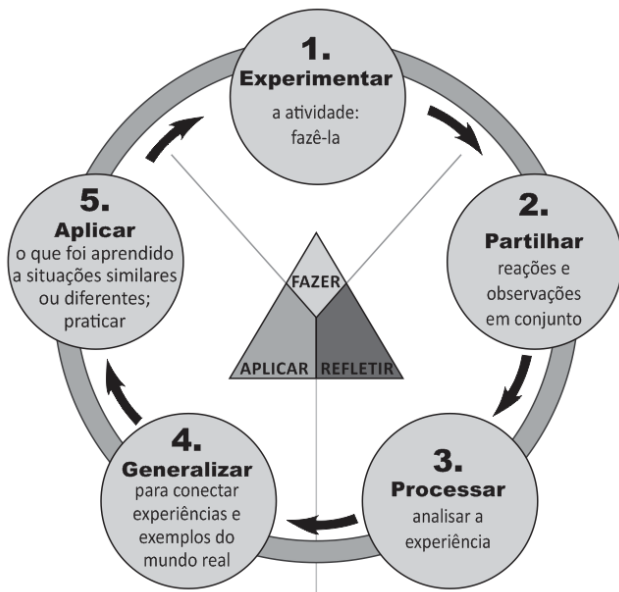
No entender de alguns educadores, esse currículo promove o encontro entre formação e emprego, mantendo-se afinado com as necessidades do mercado de trabalho.

Assinale a opção que identifica corretamente a concepção de currículo descrita acima.

- (A) Currículo idealista.
- (B) Currículo por competência.
- (C) Currículo sociocrítico.
- (D) Currículo como produção cultural.
- (E) Currículo globalizado.

36

O diagrama a seguir ilustra a relação entre experiência, inteligência e conhecimento.



Adaptado de <https://www.pedagogy4change.org/>

A respeito dessa relação, assinale a afirmativa que indica a visão pedagógica coerente com o diagrama.

- (A) A reconstrução e reorganização da experiência levam a uma maior percepção do seu sentido, habilitando as pessoas a dirigir melhor o curso das suas experiências futuras.
- (B) A capacidade de aprender depende do ensino formal e, sobretudo, do nível de competência cognitiva de que se dispõe para executar as atividades propostas.
- (C) A experiência serve para identificar os condicionamentos próprios do processo universal de aprendizagem e permite substituir respostas inadequadas por outras adequadas.
- (D) A aquisição de habilidades para fortalecer e disciplinar a mente pode ser obtida pelo uso das faculdades mentais de conceituar e esquematizar relações espaço-temporais.
- (E) A aprendizagem ocorre quando a informação é armazenada e organizada de modo significativo na memória, em um processo sequenciado de reconhecimento e assimilação.

37

Trata-se de um conceito formulado originalmente por Lev Vygotsky, na década de 1920, e serve para explicar como a aprendizagem da criança se desenvolve com a ajuda dos outros. Com esse conceito, indica-se a distância entre o nível de performance atual, determinado pela capacidade de resolver tarefas de forma independente, e o nível de performance potencial, determinado por desempenhos possíveis, com ajuda de adultos ou de colegas mais avançados ou mais experientes.

O texto refere-se ao conceito de

- (A) escrita coletiva.
- (B) situação comunicativa.
- (C) acomodação e assimilação.
- (D) estágio operatório-concreto.
- (E) zona de desenvolvimento proximal.

38

Um professor adota a metodologia da “gamificação”, usando um aplicativo que simula a vida em uma cidade. Ele separa a classe em pequenos grupos, que devem escolher o cenário – uma cidade rural, litorânea ou metrópole – e três áreas prioritárias. Os estudantes são desafiados a decidir o que é melhor para sua cidade, face aos indicadores financeiros, à média da satisfação popular e à eficácia da infraestrutura do município. Cada decisão impacta diretamente nos indicadores e abre a possibilidade de debater impostos, transportes, educação e saúde, dentre outros temas, tendo em vista os conteúdos trabalhados nas aulas de biologia, filosofia, matemática, geografia e história.

Com base no relato e considerando a “gamificação” como estratégia com objetivos pedagógicos no caso citado, assinale (V) para a afirmativa verdadeira e (F) para a falsa.

- () A “gamificação” serviu para exercitar a imaginação e estimulou os alunos a inventar cidades fictícias, sem desigualdades socioeconômicas.
- () O uso de “games” de simulação estimulou o raciocínio lógico e exercitou a capacidade de se posicionar em relação a políticas públicas, considerando seus impactos na vida coletiva.
- () A atividade desenvolveu competências socioemocionais e ligadas ao pensamento estratégico, ao engajar os alunos em uma ação de modo interativo e com responsabilidade social.

As afirmativas são, respectivamente,

- (A) V – V – F.
- (B) V – F – V.
- (C) F – V – V.
- (D) F – V – F.
- (E) V – V – V.

39

A gestão escolar, comprometida com uma educação de qualidade, exige o envolvimento e a participação da comunidade nos processos de planejamento e avaliação dos resultados alcançados, ao mesmo tempo que descentraliza as tomadas de decisão e divide responsabilidades, com intuito de envolver todos os segmentos interessados na construção coletiva das propostas de educação.

A partir do texto, analise as afirmativas a seguir a respeito da relação entre gestão escolar e compromisso com a qualidade de ensino.

- I. A verticalização da gestão escolar é uma medida administrativa que agiliza a tomada de decisão para atender com eficiência todos os envolvidos na escola.
- II. O engajamento de todos os setores na elaboração do projeto político-pedagógico, fortalece a autonomia da escola e o compromisso com a qualidade do aprendizado.
- III. A gestão democrática da escola favorece a socialização de saberes e a interação comunitária fomentando a participação coletiva para a definição da identidade da escola.

Está correto o que se afirma em:

- (A) II, apenas.
- (B) I e II, apenas.
- (C) II e III, apenas.
- (D) I e III, apenas.
- (E) I, II e III.

40

Como chamar as pessoas que têm deficiência?

Pessoas com capacidades especiais”, “pessoas com eficiências diferentes”, “pessoas com habilidades diferenciadas”, “pessoas portadoras de deficiência”, “pessoas com disfunção funcional”... Na primeira década do século XXI, a Declaração de Salamanca preconizou a expressão “pessoas com deficiência”, com a qual o valor agregado às pessoas com deficiência passou a ser o do empoderamento e o da responsabilidade de contribuir com seus talentos para mudar a sociedade rumo à inclusão de todas as pessoas, com ou sem deficiência. Os movimentos mundiais de pessoas com deficiência, incluindo os do Brasil, já fecharam a questão: *querem ser chamados de “pessoas com deficiência”, em todos os idiomas. Esse termo faz parte do texto da convenção sobre os direitos das pessoas com deficiência, adotado pela ONU em 2006, e promulgado por decreto no Brasil em 2009.*

Adaptado de SASSAKI, Romeu Kazumi.
Como chamar as pessoas que têm deficiência? (2014)

As afirmativas a seguir descrevem corretamente os princípios básicos que levaram à defesa da terminologia “pessoas com deficiência”, **à exceção de uma**. Assinale-a.

- Valorizar as diferenças e necessidades decorrentes da deficiência.
- Combater eufemismos que tentam diluir ou camuflar as diferenças.
- Defender a igualdade entre pessoas com deficiência e sem deficiência.
- Responsabilizar a sociedade pela invalidez de uma parte de seus membros.
- Reivindicar a eliminação das restrições à participação das pessoas com deficiência na vida social.

História

41

O nome Rota da Seda é uma convenção historiográfica do século XIX para designar o fluxo comercial ancestral da Eurásia. Na verdade, a Rota da Seda era um conjunto de vias comerciais, ao norte e ao sul, através das estepes, desertos, montanhas e mares, conectando desde a costa chinesa do Pacífico às costas atlânticas da Europa e da África; da Escandinávia ao Oceano Índico.

A respeito da história milenar da Rota da Seda, assinale a afirmativa correta.

- No período helenístico, a antiga Rota da Seda permitiu a difusão da cultura greco-romana no Extremo Oriente, nas pegadas do expansionismo mongólico.
- No século XIII, o empreendimento liderado por Marco Polo rendeu à cidade de Veneza o monopólio do comércio da seda, dos entrepostos do Mediterrâneo até os de Cantão.
- No século XV, os dois polos da rota da seda foram bloqueados em função da conquista de Constantinopla pelos turcos otomanos e da China Ming pelo Islã.
- No início da Época Moderna, Vasco da Gama contornou o Cabo das Tormentas, abrindo a primeira via marítima da Rota da Seda na Eurásia.
- Na atualidade, a China pretende conectar, por terra e mar, o Oriente Médio, a Europa, a África e a Ásia, com o projeto da Nova Rota da Seda, cujo lema é “um cinturão, uma rota”.

42



A expressão “Era Axial” indica um período de renovação espiritual que teria ocorrido simultaneamente nas grandes civilizações antigas do Ocidente e do Oriente, no primeiro milênio AEC. Na China, surgiram o taoísmo e o confucionismo; na Índia, o budismo; no Irã, o zoroastrismo; na Palestina, o profetismo monoteísta; e na Grécia, a filosofia.

Com base em seus conhecimentos, analise as afirmativas a seguir, sobre as grandes mudanças que ocorreram durante a Era Axial.

- Afirma-se o espaço político e intelectual da polis e, com ela, a figura do filósofo capaz de explicar conceitualmente a conexão lógica entre a esfera do divino e a da verdade.
- Afirma-se o monoteísmo na Palestina, fortalecendo uma religiosidade baseada na Lei e nos Profetas, com a valorização da responsabilidade ética do homem diante do Criador.
- Afirma-se o zoroastrismo, uma religião dualista que interpreta o universo por meio da oposição entre os princípios transcendentais do Bem e do Mal.

Está correto o que se afirma em

- II, apenas.
- I e II, apenas.
- I e III, apenas.
- II e III, apenas.
- I, II e III.

43

Em 1640, Portugal separou-se da Espanha depois de sessenta anos de união dinástica, e a monarquia Bragança defrontou-se com uma série de desafios internacionais.

As afirmativas a seguir descrevem corretamente os desafios da Restauração Portuguesa, **à exceção de uma**. Assinale-a.

- A defesa das fronteiras contra o possível ataque da Coroa de Castela, na península Ibérica.
- O reconhecimento da independência do Reino e dos direitos da dinastia ao trono, em relação à Europa.
- A reivindicação das colônias que haviam sido perdidas para a República das Províncias Unidas dos Países Baixos, na América, África e Ásia.
- A reconquista de Ormuz, Malaca e Goa, então bloqueadas pela frota holandesa, por obra da Companhia Geral do Brasil, no Índico.
- A disputa do litoral do Nordeste, sob controle da Companhia das Índias Ocidentais (WIC), na América Portuguesa.

44

Relacione os pensadores do absolutismo moderno a seus respectivos princípios teóricos.

1. Maquiavel
 2. Thomas Hobbes
 3. Jean-Bénigne Bossuet
- () “Os príncipes agem como ministros de Deus, sendo seu lugar-tenente na terra. Assim, o trono real não é o trono de um homem, mas o trono do próprio Deus”.
- () “Nos corpos políticos o poder do representante é sempre limitado, e quem estabelece seus limites é o poder soberano. Porque o poder ilimitado é soberania absoluta.”.
- () “Aqueles que, por suas virtudes, tornam-se príncipes, conquistam o principado com dificuldade, mas com facilidade o conservam; e os obstáculos que se lhes apresentam no conquistar o principado, em parte nascem das novas disposições e sistemas de governo que são forçados a introduzir para fundar o seu Estado e estabelecer a sua segurança”.

Assinale a opção que mostra a relação correta, de cima para baixo.

- (A) 3, 2 e 1.
 (B) 2, 3 e 1.
 (C) 1, 2 e 3.
 (D) 3, 1 e 2.
 (E) 1, 3 e 2.

45

Na historiografia da Revolução Francesa, o fenômeno do Terror é objeto de amplo debate. A esse respeito, leia a caracterização de François Furet.

“As circunstâncias que cercam o nascimento do Terror serviram de meio de desenvolvimento à ideologia e às práticas progressivas das instituições terroristas. Tal ideologia, presente na revolução de 1789, é anterior às instituições, e delas possui uma realidade independente, ligada à natureza da cultura revolucionária francesa mediante três itinerários de ideias: o da regeneração do homem, que faz com que a Revolução Francesa se assemelhe a uma anunciação de tipo religioso; a ideia de que a política pode tudo; e a jurisdição ilimitada atribuída à soberania.”

FURET, F. “O Terror” in *Dicionário Crítico da Revolução Francesa*. Rio de Janeiro: Nova Fronteira, 1989, pp. 157-58.

Com base no texto, assinale a afirmativa que identifica corretamente a perspectiva revisionista de Furet sobre o Terror.

- (A) O Terror é um mito criado no período termidoriano, para desacreditar o projeto igualitário de Robespierre.
- (B) As medidas extremas do Terror resultam circunstancialmente da ameaça aos ideais revolucionários dos anos de 1793-94.
- (C) O Terror tem raízes econômicas e resulta da pressão que os sans-culottes fazem na Convenção para tabelar o trigo.
- (D) A violência do Terror não é inédita, sendo um traço constitutivo da sociedade desigual do Antigo Regime.
- (E) O Terror é uma ideologia política voltada para impor a fabricação de um novo tipo de homem.

46

As afirmações a seguir descrevem corretamente conquistas da ciência no século XIX, à exceção de uma. Assinale-a.

- (A) As máquinas da Revolução Industrial levaram a pesquisas sobre as relações entre energia, calor e trabalho, constituindo o embrião conceitual da moderna termodinâmica.
- (B) A pesquisa em medicina resultou na identificação de patógenos como agentes desencadeadores de determinadas doenças como, por exemplo, a tuberculose.
- (C) Estudos no campo da química conduziram ao agrupamento e à classificação dos elementos químicos, graças às pesquisas em radioatividade e fissão nuclear.
- (D) No campo da Física, os experimentos de Michael Faraday sobre as interações elétricas e magnéticas, determinaram o princípio por trás do gerador elétrico.
- (E) A escala geológica do tempo, articulada à escala evolutiva da mutação das espécies, remodelou a percepção de uma temporalidade anterior e independente à presença da humanidade na Terra.

47

A gripe espanhola, também chamada de peste pneumônica, foi uma pandemia que atingiu o mundo em 1918-1919, provocando milhões de mortes. Segundo estimativas, 500 milhões de pessoas, um terço da população mundial da época, foram infectadas, causando a morte de 25 milhões a 50 milhões de indivíduos, mais do que a Primeira Guerra Mundial.

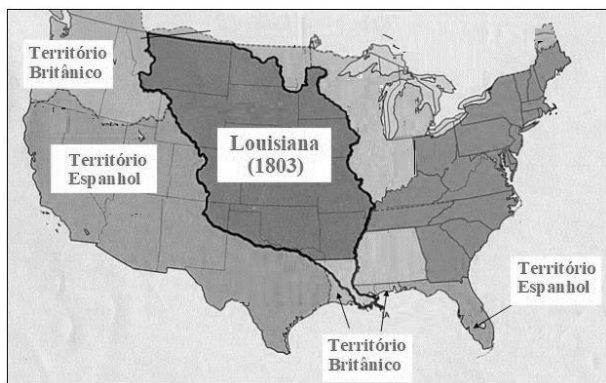
A respeito dessa epidemia e de seus impactos no Brasil, assinale (V) para a afirmativa verdadeira e (F) para a falsa.

- () A gripe infectou brasileiros a partir de 1918, no contexto das viagens marítimas motivadas pela participação do Brasil no patrulhamento do Atlântico Sul, como parte do esforço de guerra ao lado dos Aliados.
- () O Presidente Wenceslau Braz convocou o sanitarista Carlos Chagas para controlar a doença no Rio de Janeiro, e este aproveitou a crise para criar o primeiro sistema público universal de saúde na capital.
- () A gripe espanhola disseminou-se fortemente nos centros urbanos com maior concentração populacional, e a maioria de suas vítimas provinha das camadas populares e dos grupos chamados de indigentes.

As afirmativas são, de cima para baixo,

- (A) V – V – F.
 (B) V – F – V.
 (C) F – F – V.
 (D) V – F – F.
 (E) V – V – V.

48



<https://professorluizroberto.com>

A formação territorial dos Estados Unidos da América se deu em um processo rápido de expansão em direção à costa do Pacífico, envolvendo diversos expedientes e conflitos.

Assinale a opção que descreve corretamente uma etapa desse processo.

- (A) O território da Louisiana foi invadido no contexto da aliança estadunidense com a França napoleônica contra a Inglaterra, e sua anexação regulamentada pelo Congresso de Viena.
- (B) O território espanhol, atual Florida, foi reivindicado pelos colonos norte-americanos no contexto da independência, e anexado no Tratado de Paris (1783).
- (C) O Texas e a Califórnia foram anexados mediante transação comercial entre os presidentes Lopez de Santa Anna (México) e James Polk (EUA), em meados do século XIX.
- (D) Pelo Tratado do Oregon, o território homônimo foi incorporado aos Estados Unidos, através de negociação com o Reino Unido, tomando como referência o paralelo 49 N.
- (E) A expansão territorial dos EUA foi fruto da tensão entre as doutrinas Monroe e do Destino Manifesto, respectivamente crítica e impulsionadora da expansão em direção ao Pacífico.

49



Eleanor Roosevelt exhibe a impressão da Declaração Universal dos Direitos Humanos (Nova York, 1948).

Assinale a afirmativa que caracteriza corretamente a Declaração Universal dos Direitos Humanos.

- (A) É uma lei internacional vinculante que discrimina os direitos e as obrigações de todos os homens.
- (B) É um instrumento jurídico que protege as liberdades individuais no campo internacional.
- (C) É uma doutrina jurídica que classifica os direitos humanos em civis, políticos e econômicos.
- (D) É uma normativa estabelecida pelo Conselho de Segurança da ONU para apoiar os regimes democráticos.
- (E) É um documento proclamado pela Assembleia Geral da ONU para universalizar os direitos humanos.

50

Observe o grafite do Muro de Berlim que representa o beijo fraterno socialista entre presidente russo, Leonid Brezhnev, e o presidente da então Alemanha Oriental, Erich Honecker.



D. Wrubel. "Deus, ajude-me a sobreviver a este amor mortal" (1990). Grafite no Muro de Berlim.

A imagem foi concebida a partir de uma fotografia de 1979, que capturou o cumprimento amistoso tradicional entre os dois líderes socialistas, na comemoração do 30º aniversário de fundação da Alemanha Oriental.

A respeito do contexto político de construção e queda do Muro de Berlim, com base na imagem, assinale (V) para a afirmativa verdadeira e (F) para a falsa.

- () A construção do muro de Berlim se insere no contexto da Guerra Fria, como parte de uma decisão da República Democrática Alemã e da União Soviética para isolar Berlim Ocidental.
- () A comemoração do 30º aniversário da Alemanha Oriental coincide com o início do processo de abertura soviética, com a Glasnost, que resultou na queda do Muro, dez anos depois.
- () A queda do muro, em 1989, contou com a participação popular em ambos os lados da barreira, contribuindo para o fim do regime soviético.

As afirmativas são, respectivamente,

- (A) V – V – F.
- (B) F – V – V.
- (C) V – F – V.
- (D) V – F – F.
- (E) V – V – V.

51

A respeito dos projetos de integração desenvolvidos na segunda metade do século XX, leia as descrições a seguir.

- I. É um projeto de integração concebido por Argentina, Brasil, Paraguai e Uruguai em 1991. No aspecto econômico, assume o caráter de união aduaneira, mas seu fim é constituir um verdadeiro mercado comum, seguindo os objetivos estabelecidos no Tratado de Assunção.
- II. É um acordo de livre comércio planejado para ser instrumento de integração das economias dos Estados Unidos, Canadá e México. Entrou em vigor em 1994 e ajudou a consolidar o comércio regional no hemisfério norte do continente americano.

Os textos I e II caracterizam, respectivamente,

- (A) MERCOSUL e NAFTA.
- (B) BRICS e UNIÃO EUROPEIA.
- (C) UNIÃO EUROPEIA e MERCOSUL.
- (D) NAFTA e ALIANÇA DO PACÍFICO.
- (E) ALIANÇA DO PACÍFICO e BRICS.

52

Em 2014, a China ultrapassou os EUA e passou a assumir o posto de maior economia do mundo, representando 16,6% do PIB mundial. Esse crescimento é o fruto de mudanças estruturais implementadas desde a segunda metade do século XX.

A respeito do crescimento chinês, assinale a afirmativa que caracteriza corretamente uma de suas etapas.

- (A) A modernizações industrial e agrícola de Deng Xiaoping (1978-92) incentivou o intercâmbio com o mercado internacional, para obtenção de tecnologia e fortalecimento do papel da China.
- (B) A Revolução Cultural (1966-76) propôs uma adesão às bases liberais da economia de mercado, para revolucionar a estrutura arcaica de produção na China.
- (C) O Grande Salto para Frente de Mao (1958-60) aumentou a produtividade agrícola, ao implementar programas de concentração fundiária.
- (D) O ingresso da China na Organização Mundial do Comércio (2001) foi uma vitória dos setores liberais pró-Occidente, ligados a Taiwan, no Partido Comunista Chinês.
- (E) No século XXI, sob a liderança de Xi Jinping, o avanço da matriz industrialista liberal comprometeu as conquistas sociais e o projeto de erradicação da pobreza absoluta.

53

No 7 de setembro de 1822, nas margens do Ipiranga, nos arredores de São Paulo, quando Dom Pedro, herdeiro do trono português, gritou “independência ou morte”, estava exagerando. A questão, em 1822, não era certamente a “morte” e, apenas indiretamente, a “independência”.

Kenneth Maxwell apud Viagem Incompleta: a experiência brasileira. SP: Ed. SENAC, 2000, p. 186.

Considerando a situação interna e externa do Brasil em 1822, pode-se dizer que a questão era indiretamente a independência, pois

- (A) a transferência da Corte portuguesa para o Rio de Janeiro, em 1808, havia encerrado, de fato e de direito, a condição jurídica brasileira de colônia.
- (B) a abertura dos portos, em 1808, equivalia à independência econômica do Brasil, antes impossibilitada pelo regime de exclusivo colonial.
- (C) as Cortes portuguesas, em 1820, ao denunciar o status de colônia a que Portugal havia sido reduzido, preferiram conceder a liberdade política ao Brasil.
- (D) a diplomacia brasileira obtivera o reconhecimento tácito da independência junto à Inglaterra, desde os Tratados de Comércio de 1810.
- (E) a adesão do Brasil à proibição do tráfico negreiro no Atlântico Sul (1815) fortalecera a classe industrial, preocupada em criar um mercado de consumo interno.

54

Escritura de alforria e liberdade que dá Dona Joana Maria de Jesus à sua escrava mulata Rita

Saibam quantos este público instrumento de Alforria e Liberdade virem que, sendo no ano de Nascimento de Nosso Senhor Jesus Cristo de mil setecentos e noventa e um, nesta Vila de Curitiba, em casas de moradas do Capitão José de Andrada e de sua mulher Dona Joana Maria de Jesus, onde eu Tabelião fui chamado. Pela outorgante Dona Joana Maria de Jesus me foi dito, em presença das testemunhas abaixo nomeadas e assinadas, que eles, entre outros bens que possuíam, era uma mulata cativa por nome Rita, casada com um seu escravo por nome Antônio, de cujo matrimônio tem a dita mulata tido vários filhos. Por este motivo e por ela ter servido com muito amor e prontidão, eu a forrava, e como tal o fazia de hoje por diante, com obrigação somente de que os filhos que a dita mulata tiver de hoje em diante serão estes cativos, os quais ela outorgante por esta faz doação deles à sua neta Iara, filha do Alferes Antônio Xavier Pereira, a quem pertencerá e permanecerá enquanto a vida dela outorgante, e os mais que tiver dali por diante serão forros e libertos, assim como é a dita sua mãe Rita, de hoje para sempre, pois a forrava de sua muito livre vontade.

Adaptado de Arquivo do Primeiro Tabelionato de Notas de Curitiba, Livro de Notas nº 24, fl. 03 (alf. nº 6).

Com base na análise do documento e em seus conhecimentos sobre o sistema escravista brasileiro, é correto afirmar que o documento

- (A) exemplifica uma escritura em tabelionato, a única forma que os senhores luso-brasileiros tinham para libertar seus escravos.
- (B) mostra o pressuposto da inviolabilidade da vontade senhorial, elemento fundamental para a reprodução das políticas de domínio senhorial.
- (C) apresenta a percepção compartilhada, por senhores e escravos, da conquista da liberdade como obtenção de autonomia e autodomínio.
- (D) Explicita a consciência dos agentes sociais a respeito das relações de dominação baseadas na obtenção violenta da autonomia em relação ao senhor.
- (E) expressa a crise do domínio senhorial, uma vez que a ação de alforriar é consequência do ato da escrava Rita de recorrer à justiça para obter sua liberdade.

55

A “política dos governadores” foi um arranjo estabelecido entre o presidente Campos Sales (1898-1902) e os governadores e presidentes estaduais.

A respeito dos objetivos da política dos governadores, analise as afirmativas a seguir.

- I. Superar a crise política que caracterizou os primeiros governos da República, com base no comprometimento presidencial de não intervir em conflitos regionais, em troca da garantia do pleno controle do Executivo sobre o Congresso.
- II. Minimizar a influência das oposições ao Governo federal, em troca da aliança entre este e as elites dominantes nos estados, estabelecendo um novo equilíbrio entre os poderes estadual e central.
- III. Estabelecer um pacto federativo que possibilitasse superar a ordem oligárquica e patrimonialista, herança do Segundo Reinado, e inserir o Brasil na ordem política e econômica internacional.

Está correto o que se afirma em

- (A) I, apenas.
- (B) I e II, apenas.
- (C) II e III, apenas.
- (D) I e III, apenas.
- (E) I, II e III.

56

O período que sucedeu a ditadura militar e a transição democrática marcou o início de uma nova fase no período republicano brasileiro, conhecida como Nova República. Seu marco legal é a promulgação, em 1988, da nova Constituição. Desde 1989, apesar da realização de eleições periódicas e da alternância de poder entre partidos políticos, o Estado brasileiro passou por crises institucionais.

Considerando o funcionamento do presidencialismo brasileiro entre 1989 e 2018, assinale a afirmativa que caracteriza corretamente um aspecto de sua instabilidade.

- (A) Os constituintes alargaram as bases do poder executivo ao manter a possibilidade de o presidente interferir no legislativo, conservando o instrumento do decreto-lei, sobrevivências do regime anterior.
- (B) A Constituição fortaleceu o poder do Congresso Nacional, ao conferir-lhe a capacidade de vetar propostas de lei enviadas pelo executivo e editar medidas provisórias, em regime de urgência.
- (C) A carta constitucional estabeleceu os procedimentos para suspensão dos mandatos presidenciais: dos quatro Presidentes diretamente eleitos nos últimos trinta anos, apenas três concluíram seus mandatos.
- (D) Os constituintes previram mecanismos de exercício direto da democracia, como o referendo sobre a forma de Estado Republicano e o sistema de governo presidencialista, realizado em 1993.
- (E) A Constituição previu freios e contrapesos para preservar a autonomia dos poderes, como a possibilidade de o legislativo realizar Comissões Parlamentares de Inquérito e julgar as contas anuais do governo.

57


Relacione os grupos armados de resistência que atuam na geopolítica do Oriente Médio a suas respectivas características.

1. Hezbollah
 2. Hamas
 3. Organização pela Libertação da Palestina
- () Organização política e paramilitar fundamentalista islâmica predominantemente xiita.
- () Movimento islamista predominantemente sunita, de resistência palestino, com braço político e armado.
- () Organização política e paramilitar islâmica que reconhece o Estado de Israel e advoga o direito à autodeterminação dos palestinos.

Assinale a opção que mostra a relação correta, de cima para baixo.

- (A) 3, 2 e 1.
- (B) 2, 3 e 1.
- (C) 1, 2 e 3.
- (D) 3, 1 e 2.
- (E) 1, 3 e 2.

58



Manuel Castells, em Comunicação e Poder, sustenta que a mídia não é detentora do poder, mas representa o espaço em que o poder é decidido e constituído. Pode-se afirmar que, no século XXI, a *web* assumiu um papel central no desenvolvimento e amplificação de protestos e movimentos sociais, com forte impacto na vida *offline*. Trata-se da categoria sociológica de “ativismo midiático”: um tipo de ativismo digital que utiliza instrumentos tecnológicos e a Internet para organizar e difundir ações de mudança político-social.

Com base na definição contida no trecho, assinale a afirmativa que descreve corretamente ações de ativismo midiático contemporâneas.

- (A) Os Caras-Pintadas foi uma mobilização em massa de estudantes brasileiros para protestar contra a corrupção política do governo republicano, que repercutiu na rede.
- (B) Na Primavera Árabe, ativistas utilizaram a mídia social para difundir regionalmente e globalmente seus protestos contra os regimes antidemocráticos do Egito e da Tunísia, entre outros.
- (C) Ocupe Wall Street foi um movimento de tomada do centro financeiro de Nova York, em protesto contra a expansão financeira chinesa no mercado americano, cujos vídeos e tweets repercutiram mundialmente.
- (D) Na Parada do Orgulho LGBT, idealizada por simpatizantes do movimento LGBT, os ativistas protestam contra o patriarcalismo e a família nuclear burguesa, utilizando pela primeira vez o ciberativismo.
- (E) #VidasNegrasImportam foi um hashtag criado para conscientizar as sociedades americanas a respeito das desigualdades de gênero e raça que pesam sobre mulheres afrodescendentes.

59

No Novo Ensino Médio, o estudante é o foco de sua própria formação. Para isso, foram concebidos os itinerários formativos, que permitem ao educando optar pela melhor formação, segundo seu interesse de aprofundar conhecimentos.

A respeito dos eixos estruturantes dos itinerários formativos, analise as afirmativas a seguir.

- I. A investigação científica: estimula a criação de processos ou produtos que atendam às demandas sociais, a partir da ampliação do conhecimento científico para construção e criação de experimentos, modelos e protótipos
- II. A mediação e intervenção sociocultural: aborda os conhecimentos necessários para mediar conflitos, promover entendimento e implementar soluções para questões e problemas identificados na comunidade.
- III. O empreendedorismo: propõe a ampliação dos conhecimentos de diferentes áreas para a criação de empresas, instituições ou organizações voltadas ao desenvolvimento de produtos e serviços inovadores com o uso das tecnologias.

Está correto o que se afirma em

- (A) I, apenas.
- (B) I e II, apenas.
- (C) I e III, apenas.
- (D) II e III, apenas.
- (E) I, II e III.

60

O Novo Ensino Médio concebe a área de Ciências Humanas e Sociais Aplicadas, a partir de uma perspectiva articulada da Filosofia, Geografia, História e Sociologia, considerando o uso de tecnologias. Nesse sentido, é esperado que o estudante desenvolva capacidades de estabelecer diálogos entre indivíduos, grupos sociais e cidadãos em contextos diversos de nacionalidade, saber e cultura.

As afirmativas a seguir indicam orientações encarecidas pela formação escolar, **à exceção de uma**. Assinale-a.

- (A) Aceitação da alteridade.
- (B) Diálogo intercultural.
- (C) Hierarquia de valores sociais.
- (D) Engajamento cooperativo.
- (E) Conduta ética em sociedade.

Questão Discursiva – Estudo de Caso

O direito à diferença e a educação intercultural.

“Somos todos iguais ou somos todos diferentes? Queremos ser iguais ou queremos ser diferentes? Na atualidade motiva-nos muito mais, em nossa conduta, em nossas expectativas de futuro e projetos de vida compartilhada, o direito de sermos pessoal e coletivamente diferentes uns dos outros”. Esse é o principal desafio de uma educação em perspectiva intercultural.

A primeira característica da interculturalidade é a promoção deliberada da interrelação entre os diferentes grupos culturais presentes na sociedade. Nesse sentido, essa perspectiva se opõe tanto às visões que defendem a afirmação radical de identidades culturais específicas (diferencialismos), quanto às que não valorizam a explicitação da riqueza das diferenças culturais (assimilacionismos). Em contrapartida, a interculturalidade rompe com o conceito essencialista de cultura, valorizando suas raízes históricas e dinâmicas, sem fixar as pessoas em determinado padrão cultural. Uma terceira característica é a afirmação de que nas sociedades em que vivemos os processos de hibridização cultural são intensos e mobilizadores da construção de identidades abertas. Sempre que a humanidade pretendeu promover a pureza cultural e étnica, as consequências foram trágicas: genocídio, holocausto, eliminação e negação do outro. A consciência dos mecanismos de poder que permeiam as relações culturais constitui outra característica dessa perspectiva. Por serem históricas, as relações estão atravessadas por questões de poder, assimetrias, preconceitos e discriminações. Uma última característica a ser assinalada diz respeito ao fato de a interculturalidade considerar o direito à diferença, uma vez que a questão da diferença assume hoje uma importância especial e transforma-se na reivindicação de um direito: não só o direito de os diferentes a serem iguais, mas o direito de afirmar a diferença.

Adaptado de CANDAU, Vera. “Direitos humanos, educação e interculturalidade: as tensões entre igualdade e diferença”. *Revista Brasileira de Educação* v. 13 n. 37 jan./abr. 2008.

Com base no texto, responda os itens a seguir.

1. Identifique quatro características atribuídas ao conceito de interculturalidade. (2,0 pontos)
2. Explique as relações estabelecidas entre o conceito de interculturalidade e o direito à diferença. (4,0 pontos)
3. Caracterize duas medidas que podem promover uma educação para o reconhecimento do “outro”, no sentido do diálogo entre os diferentes grupos sociais e culturais do Amapá. (4,0 pontos)

1

2

3

4

5

6

7

8

9

10

11

12

13

14

15

16

17

18

19

20

21

22

23

24

25

26

27

28

29

30

Realização

