



GOVERNO DO ESTADO DO AMAPÁ
SECRETARIA DE ESTADO DA ADMINISTRAÇÃO
(EDITAL Nº 001/2022)
EDUCAÇÃO

PROFESSOR DA EDUCAÇÃO BÁSICA E PROFISSIONAL
GEOGRAFIA
TIPO 2 – VERDE



SUA PROVA

- Além deste caderno contendo **60 (sessenta)** questões objetivas e **1 (uma)** questão discursiva, você receberá do fiscal de prova o cartão-resposta e uma folha de textos destinada à resposta definitiva da questão discursiva.



TEMPO

- Você dispõe de **4 (quatro) horas** para a realização da prova, já incluído o tempo para a marcação do cartão-resposta e preenchimento da folha de textos definitivos.
- **2 (duas) horas** após o início da prova é possível retirar-se da sala, sem levar o caderno de prova.
- A partir dos **30 minutos** anteriores ao término da prova é possível retirar-se da sala **levando o caderno de provas**.



NÃO SERÁ PERMITIDO

- Qualquer tipo de comunicação entre os candidatos durante a aplicação da prova.
- Anotar informações relativas às respostas em qualquer outro meio que não seja o caderno de prova.
- Levantar da cadeira sem autorização do fiscal de sala.
- Usar o sanitário ao término da prova, após deixar a sala.



INFORMAÇÕES GERAIS

- Verifique se seu caderno de provas está completo, sem repetição de questões ou falhas. Caso contrário, notifique imediatamente o fiscal da sala, para que sejam tomadas as devidas providências.
- Confira seus dados pessoais, especialmente nome, número de inscrição e documento de identidade e leia atentamente as instruções para preencher o cartão-resposta e a folha de textos definitivos.
- Use somente caneta esferográfica, fabricada em material transparente, com tinta preta ou azul.
- Assine seu nome apenas no(s) espaço(s) reservado(s).
- Confira seu cargo, cor e tipo do caderno de provas. Caso tenha recebido caderno de cargo ou cor ou tipo **diferente** do impresso em seu cartão-resposta, o fiscal deve ser **obrigatoriamente** informado para o devido registro na ata da sala.
- Reserve tempo suficiente para o preenchimento do seu cartão-resposta e da folha de textos definitivos. O preenchimento é de sua responsabilidade e **não** será permitida a troca do cartão-resposta e da folha de textos definitivos em caso de erro do candidato.
- Para fins de avaliação, serão levadas em consideração apenas as marcações realizadas no cartão-resposta e na folha de textos definitivos.
- A FGV coletará as impressões digitais dos candidatos na lista de presença.
- Os candidatos serão submetidos ao sistema de detecção de metais quando do ingresso e da saída de sanitários durante a realização das provas.
- **Boa sorte!**

Língua Portuguesa

1

Em todas as frases abaixo há comparações; assinale a opção em que a comparação estabelecida **não** está explicada.

- (A) Os homens são como os livros, muitas vezes são apreciados tarde em demasia.
- (B) Homens são como traduções. Os bonitos não são fiéis. E os fiéis não são bonitos.
- (C) Os homens mais felizes, assim como as nações mais felizes, não têm história.
- (D) Os homens, como sonho, nunca são como imaginamos.
- (E) Como Miss América, meu objetivo é trazer a paz para o mundo inteiro.

2

Uma das marcas da textualidade é a coerência. Entre as frases abaixo, assinale aquela que se mostra **incoerente**.

- (A) O caminho que desce e o caminho que sobe são os mesmos.
- (B) Há coisas que são tão sérias, que você tem que rir delas.
- (C) Se o mundo fosse bom, o dono morava nele.
- (D) Eu não creio em Deus, mas tenho medo dele.
- (E) O problema com as crianças é que elas não são retornáveis.

3

Nas frases abaixo, foi empregada a preposição COM, com valor nocional.

Assinale a frase cujo valor semântico da preposição está corretamente indicado.

- (A) Ler um livro, para mim, é ausentar-me com o autor / modo.
- (B) O livro é um pássaro com mais de cem asas para voar / companhia.
- (C) Decidi sair do jogo enquanto estou com a bola, em vez de esperar que ela me escape / estado.
- (D) Quando você possuiu um livro com mente e espírito, você enriqueceu / tempo.
- (E) Fotografe com a cabeça e não só com a câmera: seja repórter 24h por dia / matéria.

4

Entre as opções abaixo, assinale aquela em que o aumentativo sublinhado perdeu o valor de aumentativo, designando uma outra realidade.

- (A) O entregador tocou a campainha e ficou esperando no portão.
- (B) O fazendeiro tinha um cachorrão para vigiar a plantação.
- (C) O panelão da feijoada já estava sobre o fogão.
- (D) O apartamento tinha um varandão na frente.
- (E) Na parte de trás, havia um terrenão para o plantio de frutas.

5

Todas as frases abaixo foram reescritas após um deslocamento de termos, com a finalidade de criar-se um pleonasma.

Assinale a opção em que essa modificação foi feita de forma adequada.

- (A) Quem não está comigo está contra mim / Está contra mim aquele que não está comigo.
- (B) Aceite meu conselho. Eu não o uso mesmo / Meu conselho, aceite-o. Eu não o uso mesmo.
- (C) Os amigos são como os táxis, quando faz mau tempo, escasseiam / Escasseiam os amigos quando faz mau tempo, como os táxis.
- (D) A amizade é um comércio desinteressado entre amigos / A amizade, entre amigos, é um comércio desinteressado.
- (E) Escreva na areia as falhas de teu amigo / As falhas de teu amigo, escreva-lhes na areia.

6

Assinale a frase em que a troca de posição dos termos sublinhados **modifica** o sentido original da frase.

- (A) As principais ameaças nessa vida são as pessoas que querem mudar tudo.
- (B) A dificuldade reside não nas novas ideias, mas em escapar das velhas.
- (C) A mais curta distância entre dois pontos está sob construção.
- (D) Trabalho duro e uma atitude apropriada preparam você para os golpes de sorte.
- (E) O preço da liberdade é a eterna vigilância.

7

Assinale a frase abaixo que exemplifica uma interrogação direta e não uma interrogação indireta ou retórica.

- (A) Quem pode orgulhar-se de nunca se ter enganado?
- (B) Já não te disse isso antes?
- (C) Quem virá à festa?
- (D) O senhor pode andar mais depressa?
- (E) Você pode me dar licença?

8

Em todas as opções abaixo, há um termo ou segmento sublinhado; assinale a opção em que esse termo ou segmento **não** mostra duplicidade de sentido em referência ao conteúdo da frase.

- (A) Não há nenhum futuro em viagem no tempo.
- (B) Não ligue para os problemas da vida, pois eles não têm telefone.
- (C) O futuro é apenas outro nome para um presente que ainda não desembulhamos.
- (D) Tempo é um oceano, mas ele termina na costa.
- (E) O governo não devia preocupar-se com o meio ambiente, mas com o ambiente inteiro.

9

Em todas as opções abaixo há uma oração reduzida de infinitivo, que foi modificada, respectivamente, para uma oração desenvolvida e, a seguir, para uma estrutura nominal.

Assinale a opção em que houve **erro** numa dessas modificações.

- (A) Poucas palavras têm o poder de “meu” para afastar as pessoas / Poucas palavras têm o poder de “meu” para que afaste as pessoas / Poucas palavras têm o poder de “meu” para o afastamento das pessoas.
- (B) Algumas pessoas estão vivas apenas porque é ilegal matá-las / Algumas pessoas estão vivas apenas porque é ilegal que as matem / Algumas pessoas estão vivas apenas porque é ilegal a sua morte.
- (C) A boa educação consiste em ocultar o alto conceito que temos a nosso respeito / A boa educação consiste em que se oculte o alto conceito que temos a nosso respeito / A boa educação consiste no ocultamento do alto conceito que temos a nosso respeito.
- (D) Nunca acreditei em nada até ser oficialmente negado / Nunca acreditei em nada até que fosse oficialmente negado / Nunca acreditei em nada até a negação oficial.
- (E) Chamávamos de céticos aqueles que tinham ilusões diferentes das nossas sem nos preocupar em saber se eles tinham outras / Chamávamos de céticos aqueles que tinham ilusões diferentes das nossas sem que nos preocupemos em saber se eles tinham outras / Chamávamos de céticos aqueles que tinham ilusões diferentes das nossas sem a preocupação de saber se eles tinham outras.

10

Na frase “Não se deliberam sentimentos; ama-se ou aborrece-se, conforme o coração quer”, as três formas do vocábulo SE são respectivamente classificadas como

- (A) pronome apassivador / indeterminador do sujeito / indeterminador do sujeito.
- (B) pronome apassivador / pronome apassivador / pronome apassivador.
- (C) indeterminador do sujeito / indeterminador do sujeito / indeterminador do sujeito.
- (D) pronome reflexivo / pronome apassivador / indeterminador do sujeito.
- (E) pronome apassivador / pronome reflexivo / pronome reflexivo.

Legislação Educacional

11

De acordo com o Art. 53 da Lei estadual nº 0949/2005, que trata dos deveres especiais dos profissionais da educação, no desempenho das atividades que lhe são próprias, o profissional da educação deverá agir de modo a concorrer para os objetivos a seguir, **à exceção de um**. Assinale-o.

- (A) A diluição do sentimento de nacionalidade.
- (B) O resgate e a preservação do patrimônio cultural, artístico, popular e ambiental.
- (C) A vivência e convivência em função das ideias da comunidade.
- (D) Promover o desenvolvimento do senso crítico e da consciência política do aluno.
- (E) Respeitar o aluno como sujeito do processo educacional e comprometer-se com a eficiência de seu aprendizado.

12

Com base na Lei nº 9.394/96, de Diretrizes e Bases da Educação Nacional, o ensino médio, etapa final da educação básica, com duração mínima de três anos, terá as seguintes finalidades, **à exceção de uma**. Assinale-a.

- (A) A consolidação e o aprofundamento dos conhecimentos adquiridos no ensino fundamental, possibilitando o prosseguimento de estudos.
- (B) A preparação básica para o trabalho e a cidadania do educando, para continuar aprendendo, de modo a ser capaz de se adaptar com flexibilidade a novas condições de ocupação ou aperfeiçoamento posteriores.
- (C) O aprimoramento do educando como pessoa humana, incluindo a formação ética e o desenvolvimento da autonomia intelectual e do pensamento crítico.
- (D) A compreensão dos vínculos de família e dos laços de convivência humana.
- (E) A compreensão dos fundamentos científico-tecnológicos dos processos produtivos, relacionando a teoria com a prática, no ensino de cada disciplina.

13

Avalie, com base na Lei nº 9.394/96, de Diretrizes e Bases da Educação Nacional, se o ensino será ministrado, entre outros, nos seguintes princípios:

- I. Gratuidade do ensino público em estabelecimentos oficiais.
- II. Valorização do profissional da educação escolar.
- III. Valorização da experiência extraescolar.
- IV. Consideração com a diversidade étnico-racial.

Estão corretos:

- (A) I e II, apenas.
- (B) III e IV, apenas.
- (C) I, II e III, apenas.
- (D) II, III e IV, apenas.
- (E) I, II, III e IV.

14

Com base na Lei nº 9.394/96, de Diretrizes e Bases da Educação Nacional, as seguintes afirmativas acerca da educação básica estão corretas, à exceção de uma. Assinale-a.

- (A) A educação básica tem por finalidades desenvolver o educando, assegurar-lhe a formação comum indispensável para o exercício da cidadania e fornecer-lhe meios para progredir no trabalho e em estudos posteriores.
- (B) São objetivos precípuos da educação básica a alfabetização plena e a formação de leitores.
- (C) A escola poderá reclassificar os alunos tendo como base as normas curriculares gerais, exceto quando se tratar de transferências entre estabelecimentos situados no País e no exterior.
- (D) A carga horária mínima anual será de oitocentas horas para o ensino fundamental e para o ensino médio, distribuídas por um mínimo de duzentos dias de efetivo trabalho escolar, excluído o tempo reservado aos exames finais, quando houver.
- (E) Nos estabelecimentos que adotam a progressão regular por série, o regimento escolar pode admitir formas de progressão parcial, desde que preservada a sequência do currículo, observadas as normas do respectivo sistema de ensino.

15

Avalie, com base no Estatuto da Criança e do Adolescente – ECA – Lei nº 8.069/90, se as afirmativas a seguir são falsas (F) ou verdadeiras (V).

- () A Lei nº 8.069/90 dispõe sobre a proteção integral à criança e parcial ao adolescente.
- () Considera-se criança, para os efeitos da Lei nº 8.069/90, a pessoa até doze anos de idade incompletos, e adolescente aquela entre doze e dezoito anos de idade.
- () A criança e o adolescente gozam de todos os direitos fundamentais inerentes à pessoa humana.

As afirmativas são, respectivamente,

- (A) V, V e V.
- (B) F, V e V.
- (C) V, F e F.
- (D) F, V e F.
- (E) F, F e F.

16

“Art. 15. A criança e o adolescente têm direito à liberdade, ao respeito e à dignidade como pessoas humanas em processo de desenvolvimento e como sujeitos de direitos civis, humanos e sociais garantidos na Constituição e nas leis”.

(Estatuto da Criança e do Adolescente)

Avalie se o direito à liberdade compreende, entre outros, os seguintes aspectos:

- I. Ir, vir e estar, sem restrições legais ou impostas, nos logradouros públicos e espaços comunitários.
- II. Opinião e expressão.
- III. Brincar, praticar esportes e divertir-se.
- IV. Buscar refúgio, auxílio e orientação.

Estão corretos os itens:

- (A) I e II, apenas.
- (B) III e IV, apenas.
- (C) II, III e IV, apenas.
- (D) I, II e III, apenas.
- (E) I, II, III e IV.

17

De acordo com o Plano Nacional da Educação em Direitos Humanos, a educação em direitos humanos é compreendida como um processo sistemático e multidimensional que orienta a formação do sujeito de direitos, articulando as seguintes dimensões, à exceção de uma, que está errada. Assinale-a.

- (A) Apreensão de conhecimentos historicamente construídos sobre direitos humanos e a sua relação com os contextos internacional, nacional e local.
- (B) Afirmção de valores, atitudes e práticas sociais que expressem a cultura dos direitos humanos em todos os espaços da sociedade.
- (C) Formação de uma consciência cidadã capaz de se fazer presente em níveis cognitivo, social, ético e político.
- (D) Desenvolvimento de processos metodológicos exclusivistas e de construção individualizada, que usam linguagens e materiais didáticos descontextualizados.
- (E) Fortalecimento de práticas individuais e sociais que gerem ações e instrumentos em favor da promoção, da proteção e da defesa dos direitos humanos, bem como da reparação das violações.

18

Com base no Art. 3º da Lei 0949/2005, avalie se a carreira dos profissionais da educação básica da Rede Pública Estadual de Ensino objetiva:

- I. A profissionalização e valorização do servidor.
- II. A melhoria do desempenho e da qualidade dos serviços de educação prestados ao conjunto da população do Estado do Amapá.
- III. A fixação de padrões e critérios de desenvolvimento funcional para as carreiras que compõem o Quadro de Pessoal dos Profissionais da Educação Básica Pública, de modo a reconhecer a qualificação profissional.
- IV. A implementação de política de pessoal, com vistas a promover o desempenho profissional, a motivação, a qualidade da educação, a eficiência, e a valorização do servidor pelo tempo de serviço.
- V. O comprometimento do profissional da Educação Básica Pública.

Estão corretos os itens:

- (A) I, III e V, apenas.
- (B) II, IV e V, apenas.
- (C) I, II e III, apenas.
- (D) II, III e IV, apenas.
- (E) I, II, III, IV e V.

19

Avalie se a Lei 0949/2005 prevê, entre outros, os seguintes direitos especiais dos profissionais da educação:

- I. Efetiva qualificação permanente, garantida pelo Estado, mediante cursos, estágios, aperfeiçoamento, especialização e atualização técnico-pedagógica sem prejuízo da sua remuneração.
- II. Dispor no ambiente de trabalho de instalações adequadas e ter a seu alcance informações educacionais, bibliotecas atualizadas, material didático, técnico-pedagógico e outros instrumentos em quantidade suficiente e apropriada, bem como contar com assessoria pedagógica que auxilie e estimule a melhoria do seu desempenho profissional e ampliação dos seus conhecimentos.
- III. Liberdade na escolha dos conteúdos e processos didáticos de acordo com a proposta pedagógica das escolas e orientação curricular do sistema estadual de ensino.
- IV. Ser defendido pela direção do estabelecimento de ensino, se ela assim entender pertinente, quando, no regular exercício de suas atividades, for agredido moralmente no ambiente de trabalho.

Estão corretos os itens

- (A) I e II, apenas.
- (B) III e IV, apenas.
- (C) I, II e III, apenas.
- (D) II, III e IV, apenas.
- (E) I, II, III e IV.

20

Avalie, com base no Art. 37 da Lei estadual nº 0066/1993 (RJU), se as seguintes afirmativas acerca do estágio probatório estão corretas:

- I. Ao entrar em exercício, o servidor nomeado para cargo em provimento efetivo ficará sujeito a estágio probatório por período de vinte e quatro meses, durante o qual a sua aptidão e capacidade serão objeto de avaliação para desempenho do cargo.
- II. No estágio probatório, serão observados os seguintes fatores: assiduidade; disciplina; capacidade de iniciativa; produtividade; responsabilidade.
- III. O servidor não aprovado no estágio probatório será exonerado ou, se estável, reconduzido ao cargo anteriormente ocupado.

Está correto o que se afirma em

- (A) I, apenas.
- (B) I e II, apenas.
- (C) II e III, apenas.
- (D) I e III, apenas.
- (E) I, II e III.

História do Amapá

21

A Fortaleza de São José de Macapá foi tombada pelo Iphan, em 1950, em reconhecimento de sua relevância histórica e arquitetônica, sendo uma das principais edificações militares existentes no Brasil e um dos mais importantes monumentos do século XVIII.

A respeito desse patrimônio do Amapá, assinale (V) para a afirmativa verdadeira e (F) para a falsa.

- () É uma fortaleza complexa do ponto de vista da engenharia militar, com baluartes nos ângulos, fosso, redente, revelim e caminho coberto.
- () É uma fortificação que serviu como posto avançado para controlar a circulação de embarcações holandesas ou espanholas junto aos rios Negro, Solimões e Amazonas.
- () É uma grande fortificação que, a par do Real Forte do Príncipe da Beira (RO), simbolizava posse política do território, no contexto da política pombalina.

As afirmativas são, respectivamente,

- (A) V – V – F.
- (B) V – F – F.
- (C) F – V – F.
- (D) V – F – V.
- (E) V – V – V.

22

A região fronteira entre a Guiana Francesa e o Amapá tem um histórico marcado por disputas territoriais, que foram enfrentadas em tratados como o Provisional (1700), Utrecht (1713) e Berna (1900), com soluções diferentes a cada vez, ora optando-se pela condição de neutralidade, ora pela condição de separação.

Assinale a opção que identifica corretamente a condição do Tratado Provisional.

- (A) Condição fronteira de separação, ao redistribuir as terras à revelia dos interesses dos países litigiosos.
- (B) Condição fronteira de neutralidade, ao proibir o uso do território pelos dois países.
- (C) Condição fronteira de separação, ao estabelecer limites territoriais específicos entre os dois países.
- (D) Condição fronteira de neutralidade, ao definir as terras em disputa como área internacional.
- (E) Condição fronteira de separação, ao promover a divisão das terras por tempo de posse.

23

Leia a carta do rei de Portugal de 21 de dezembro de 1686, ao então governador do Maranhão:

“Vos valereis ao mesmo tempo dos Missionários Capuchos de Santo Antônio, que têm as Missões do Cabo do Norte, e dos Padres da Companhia de Jesus, que forem mais a propósito a este fim, avisando-os da minha parte do que devem fazer, para se conservar sem desconfiança a sujeição dos índios das Aldeias, e se tratar e ajustar com segurança e paz e amizade do Gentio que não estiver domesticado. Com o cuidado destes Missionários podereis conseguir que os Missionários franceses não adquiram a prática dos Aruazes [Aruã], e que os Índios não busquem a comunicação alheia, esquecidos da própria e natural do meu domínio”.

(Adaptado de ANDRADE E SILVA, José Justino de. Collecção Cronologica da Legislação Portuguesa. 1683-1700. Lisboa: Imprensa Nacional, 1859.)

Com base no texto, analise as afirmativas a seguir.

- I. A carta relata a disputa pelo controle dos súditos e das terras do Cabo Norte entre as ordens religiosas vinculadas diretamente ao papado e os representantes político-militares do império português.
- II. A carta manifesta o desejo de impedir que missionários franceses catequizessem os Aruã, uma vez que a adoção do calvinismo pelos ameríndios aumentaria sua hostilidade histórica em relação aos portugueses.
- III. A carta se refere à presença “estrangeira” como ameaça ao domínio político, econômico e religioso dos portugueses, que buscavam manter os índios em aldeamentos e estabelecer alianças com os não catequizados.

Está correto o que se afirma em

- (A) I, apenas.
- (B) II, apenas.
- (C) III, apenas.
- (D) I e III, apenas.
- (E) I, II e III.

24

Na segunda metade do século XX, o governo federal promoveu uma política de reordenamento econômico e territorial do Amapá mediante investimentos em infraestrutura.

Assinale a afirmativa que exemplifica corretamente obras estratégicas de infraestrutura que impactaram na reordenação socioespacial do Amapá.

- (A) A partir dos anos 1950, os rios foram complementados pelo transporte rodoviário: enquanto a malha hidrográfica servia para as longas distâncias, as estradas conectavam vilas e cidades.
- (B) Nos anos 1940, o governo do Amapá assinou o contrato de prospecção de manganês em Cassiporé e Calçoene com a Indústria de Comércio de Minérios (ICOMI).
- (C) Na década de 1950, foi construída a Estrada de Ferro do Amapá com o objetivo de transportar a borracha extraída na região do Cajari, ligando Mazagão ao porto de Santana.
- (D) Durante o regime militar (1964-1985), a política de integração nacional estimulou a construção das rodovias BR-156 e BR-210, como instrumentos de colonização e integração.
- (E) Na década de 1990, as usinas termoelétricas movidas a óleo diesel foram substituídas pelas hidrelétricas de Coaracy Nunes e Santo Antônio do Jari.

25

Em fins da década de 1980, o Amapá foi elevado à condição de estado membro da federação pela Constituição Federal (1988), o que gerou importantes transformações nos âmbitos político-administrativo e econômico.

As afirmativas a seguir indicam corretamente os impactos da estadualização do Amapá, **à exceção de uma**. Assinale-a.

- (A) No campo político, a representação parlamentar passou a ser de 8 vagas para a Câmara Federal e 3 para o Senado, além de ampliar o processo eleitoral para todos os níveis.
- (B) No campo econômico, a autonomia administrativa coincidiu com a descoberta de novas jazidas manganíferas e com a ampliação das atividades da ICOMI.
- (C) No campo político-administrativo, o Amapá adquiriu a autonomia e a capacidade de se auto-organizar e elaborar seu “Programa de Governo”.
- (D) No campo das finanças públicas, o Amapá passou a arrecadar suas próprias receitas, embora continue recebendo transferências da União.
- (E) No campo do uso e ocupação das terras, ocorreram um aumento da fiscalização nacional e internacional e a implementação de legislações ambientais.

Geografia do Amapá

26

Em 2010, o Produto Interno Bruto (PIB) do estado do Amapá representava 3,5% do PIB total da Região Norte e 0,2% do PIB total do país, segundo o IPEA. Em que pese a pequena contribuição para o PIB brasileiro, a economia amapaense tem crescido acima da média nacional.

Sobre a economia do estado do Amapá, assinale a afirmativa correta.

- (A) A geração de empregos na administração pública, mediante a realização de concursos públicos, tem estimulado fluxos de migrantes mais qualificados.
- (B) A instalação da infraestrutura viária tem ampliado o mercado de trabalho fora do eixo Macapá/Santana, o que tem promovido a interiorização do povoamento.
- (C) A expansão da agricultura empresarial nas áreas de cerrado tem atraído novos investimentos, o que tem aumentado a participação da agricultura no PIB.
- (D) A ligação ao sistema integrado nacional de eletricidade permitiu a instalação de setores industriais intensivos em energia, como a metalurgia do manganês.
- (E) A ampliação das atividades terciárias superiores – comércio e transportes - dão origem a novas funções urbanas, o que tem diminuído a ação polarizante de Macapá.

Conhecimentos Específicos

Fundamentos da Educação

31

Leia o fragmento a seguir sobre as características distintivas dos Direitos Humanos.

Tais direitos são _____, pois se estendem a todo gênero humano, em todo tempo e lugar.

São _____, porque seu respeito se pode exigir de qualquer pessoa, autoridade ou comunidade inteira, diferente daqueles emanados das relações contratuais, que somente podem ser exigidos de quem contratou a obrigação correspondente.

São _____, pois nenhuma pessoa ou autoridade pode atentar legitimamente contra eles, sem prejuízo das justas limitações que podem se impor a seu exercício, de acordo com as exigências do bem comum da sociedade.

São _____, pois pertencem à essência do ser humano de forma indissociável, assim não se pode renunciar, transferir ou transmitir, sob nenhum título, como ocorre com os demais direitos que são objetos de transações jurídicas.

Assinale a opção cujos itens completam corretamente as lacunas do fragmento acima.

- (A) necessários – inatos – absolutos – invioláveis.
- (B) imprescritíveis – invioláveis – absolutos – necessários.
- (C) universais – absolutos – invioláveis – inalienáveis.
- (D) congêntos – imprescritíveis – necessários – absolutos.
- (E) universais – inalienáveis – necessários – inatos.

32

A avaliação formativa vem ganhando espaço nas discussões pedagógicas, impulsionada pelo uso da tecnologia no cenário de pandemia, e pela necessidade de contribuir de modo equânime para a aprendizagem de cada aluno. Na avaliação formativa, o professor busca promover momentos de maior proximidade com cada estudante, entendendo suas necessidades específicas, seus avanços e refletindo junto com ele sobre estratégias para seguir se desenvolvendo, de acordo com o desejado. Trata-se de uma modalidade avaliativa para acolher e atender os estudantes que mais precisam, sendo fundamental para combater as desigualdades de aprendizagem que afetam, principalmente, estudantes em situações de maior vulnerabilidade.

Adaptado de <https://observatoriodeeducacao.institutounibanco.org.br/>

Com base no texto, assinale a afirmativa que identifica corretamente objetivos da avaliação formativa.

- (A) Motivar o aprendizado e premiar a eficiência.
- (B) Lidar com o erro e acelerar a assimilação de conteúdos.
- (C) Identificar e corrigir as principais falhas de conhecimento.
- (D) Classificar os rendimentos e destacar talentos individuais.
- (E) Personalizar a aprendizagem e reduzir as desigualdades.

33

A seleção de atividades no planejamento didático é baseada em princípios teóricos no campo da educação.

A esse respeito, leia os exemplos a seguir.


- I. Pré-avaliação dos alunos para estabelecer o ponto de partida do processo de aprendizagem e o uso de reforços/recompensas tangíveis para aumentar o rendimento.
- II. Ênfase na participação ativa dos alunos nos processos de aprendizagem e na conscientização do ato de aprender, mediante estratégias de autoavaliação, conceituação e revisão.
- III. Valorização da identificação do contexto significativo em que a competência deve ser adquirida e sucessivamente aplicada para que os alunos possam ir além das informações fornecidas.

Assinale a afirmativa que identifica corretamente os fundamentos teóricos das atividades de planejamento descritas em I, II e III, respectivamente.

- (A) Behaviorismo – Construtivismo – Cognitivism.
- (B) Construtivismo – Cognitivism – Behaviorismo.
- (C) Cognitivism – Construtivismo – Behaviorismo.
- (D) Cognitivism – Behaviorismo – Construtivismo.
- (E) Behaviorismo – Cognitivism – Construtivismo.

34

Observe a charge “Justiça Injusta”.



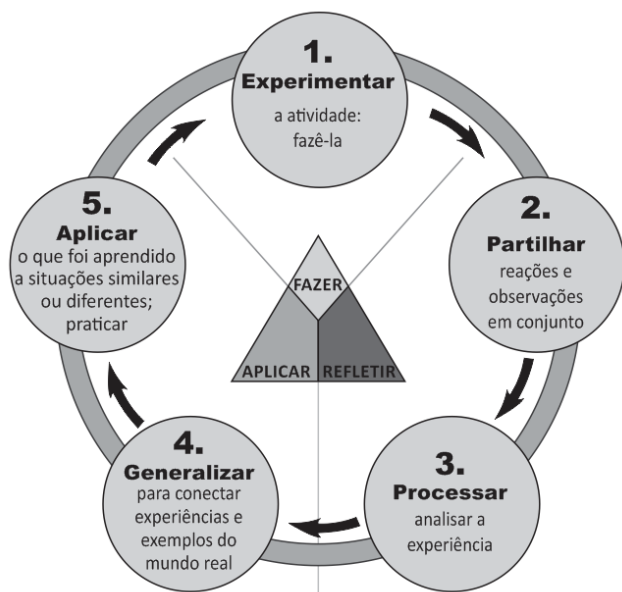
Adaptado de <http://observacoeseducacionais.blogspot.com>

É correto afirmar que a situação ironizada na charge pode ser corrigida com base no princípio de

- (A) respeito à diversidade, pelo que entende-se justiça como distribuição uniforme de ferramentas e assistência para os mais variados tipos de pessoas.
- (B) equidade, pelo que entende-se justiça como fomento de oportunidades iguais, considerando as diferenças entre os indivíduos e suas características e necessidades.
- (C) igualdade de oportunidades, pelo que entende-se justiça como estímulo à superação das incapacidades de cada indivíduo para que todos alcancem a mesma meta.
- (D) meritocracia, pelo que entende-se justiça como oferecimento de acesso igualitário às oportunidades, de modo a corrigir as desigualdades sociais.
- (E) personalização do ensino, pelo que entende-se justiça como reconhecimento das capacidades individuais de aprendizado para selecionar os mais capazes.

35

O diagrama a seguir ilustra a relação entre experiência, inteligência e conhecimento.



Adaptado de <https://www.pedagogy4change.org/>

A respeito dessa relação, assinale a afirmativa que indica a visão pedagógica coerente com o diagrama.

- (A) A reconstrução e reorganização da experiência levam a uma maior percepção do seu sentido, habilitando as pessoas a dirigir melhor o curso das suas experiências futuras.
- (B) A capacidade de aprender depende do ensino formal e, sobretudo, do nível de competência cognitiva de que se dispõe para executar as atividades propostas.
- (C) A experiência serve para identificar os condicionamentos próprios do processo universal de aprendizagem e permite substituir respostas inadequadas por outras adequadas.
- (D) A aquisição de habilidades para fortalecer e disciplinar a mente pode ser obtida pelo uso das faculdades mentais de conceituar e esquematizar relações espaço-temporais.
- (E) A aprendizagem ocorre quando a informação é armazenada e organizada de modo significativo na memória, em um processo sequenciado de reconhecimento e assimilação.

36

Leia o trecho a seguir, que descreve uma tendência pedagógica e seu impacto para fundamentar o currículo escolar.

O fundamento desse currículo é a seleção e redefinição dos conteúdos de ensino, de modo a atribuir-lhes um sentido prático. Ele pretende superar a preeminência dos saberes das disciplinas escolares, ao privilegiar o “como ensinar”. Nele abre-se espaço para atividades e situações concretas, a partir das quais os alunos devem desenvolver habilidades específicas.

No entender de alguns educadores, esse currículo promove o encontro entre formação e emprego, mantendo-se afinado com as necessidades do mercado de trabalho.

Assinale a opção que identifica corretamente a concepção de currículo descrita acima.

- (A) Currículo idealista.
- (B) Currículo por competência.
- (C) Currículo sociocrítico.
- (D) Currículo como produção cultural.
- (E) Currículo globalizado.

37

Um professor adota a metodologia da “gamificação”, usando um aplicativo que simula a vida em uma cidade. Ele separa a classe em pequenos grupos, que devem escolher o cenário – uma cidade rural, litorânea ou metrópole – e três áreas prioritárias. Os estudantes são desafiados a decidir o que é melhor para sua cidade, face aos indicadores financeiros, à média da satisfação popular e à eficácia da infraestrutura do município. Cada decisão impacta diretamente nos indicadores e abre a possibilidade de debater impostos, transportes, educação e saúde, dentre outros temas, tendo em vista os conteúdos trabalhados nas aulas de biologia, filosofia, matemática, geografia e história.

Com base no relato e considerando a “gamificação” como estratégia com objetivos pedagógicos no caso citado, assinale (V) para a afirmativa verdadeira e (F) para a falsa.

- () A “gamificação” serviu para exercitar a imaginação e estimulou os alunos a inventar cidades fictícias, sem desigualdades socioeconômicas.
- () O uso de “games” de simulação estimulou o raciocínio lógico e exercitou a capacidade de se posicionar em relação a políticas públicas, considerando seus impactos na vida coletiva.
- () A atividade desenvolveu competências socioemocionais e ligadas ao pensamento estratégico, ao engajar os alunos em uma ação de modo interativo e com responsabilidade social.

As afirmativas são, respectivamente,

- (A) V – V – F.
- (B) V – F – V.
- (C) F – V – V.
- (D) F – V – F.
- (E) V – V – V.

38

Trata-se de um conceito formulado originalmente por Lev Vygotsky, na década de 1920, e serve para explicar como a aprendizagem da criança se desenvolve com a ajuda dos outros. Com esse conceito, indica-se a distância entre o nível de performance atual, determinado pela capacidade de resolver tarefas de forma independente, e o nível de performance potencial, determinado por desempenhos possíveis, com ajuda de adultos ou de colegas mais avançados ou mais experientes.

O texto refere-se ao conceito de

- (A) escrita coletiva.
- (B) situação comunicativa.
- (C) acomodação e assimilação.
- (D) estágio operatório-concreto.
- (E) zona de desenvolvimento proximal.

39

Como chamar as pessoas que têm deficiência?

Pessoas com capacidades especiais”, “pessoas com eficiências diferentes”, “pessoas com habilidades diferenciadas”, “pessoas portadoras de deficiência”, “pessoas com disfunção funcional”... Na primeira década do século XXI, a Declaração de Salamanca preconizou a expressão “pessoas com deficiência”, com a qual o valor agregado às pessoas com deficiência passou a ser o do empoderamento e o da responsabilidade de contribuir com seus talentos para mudar a sociedade rumo à inclusão de todas as pessoas, com ou sem deficiência. Os movimentos mundiais de pessoas com deficiência, incluindo os do Brasil, já fecharam a questão: querem ser chamados de “pessoas com deficiência”, em todos os idiomas. Esse termo faz parte do texto da convenção sobre os direitos das pessoas com deficiência, adotado pela ONU em 2006, e promulgado por decreto no Brasil em 2009.

Adaptado de SASSAKI, Romeu Kazumi.
Como chamar as pessoas que têm deficiência? (2014)

As afirmativas a seguir descrevem corretamente os princípios básicos que levaram à defesa da terminologia “pessoas com deficiência”, **à exceção de uma**. Assinale-a.

- (A) Valorizar as diferenças e necessidades decorrentes da deficiência.
- (B) Combater eufemismos que tentam diluir ou camuflar as diferenças.
- (C) Defender a igualdade entre pessoas com deficiência e sem deficiência.
- (D) Responsabilizar a sociedade pela invalidez de uma parte de seus membros.
- (E) Reivindicar a eliminação das restrições à participação das pessoas com deficiência na vida social.

40

A gestão escolar, comprometida com uma educação de qualidade, exige o envolvimento e a participação da comunidade nos processos de planejamento e avaliação dos resultados alcançados, ao mesmo tempo que descentraliza as tomadas de decisão e divide responsabilidades, com intuito de envolver todos os segmentos interessados na construção coletiva das propostas de educação.

A partir do texto, analise as afirmativas a seguir a respeito da relação entre gestão escolar e compromisso com a qualidade de ensino.

- I. A verticalização da gestão escolar é uma medida administrativa que agiliza a tomada de decisão para atender com eficiência todos os envolvidos na escola.
- II. O engajamento de todos os setores na elaboração do projeto político-pedagógico, fortalece a autonomia da escola e o compromisso com a qualidade do aprendizado.
- III. A gestão democrática da escola favorece a socialização de saberes e a interação comunitária fomentando a participação coletiva para a definição da identidade da escola.

Está correto o que se afirma em:

- (A) II, apenas.
- (B) I e II, apenas
- (C) II e III, apenas
- (D) I e III, apenas
- (E) I, II e III.

Geografia

41

A partir da década de 1960, os desmatamentos e as queimadas vêm alterando o equilíbrio das florestas primárias amazônicas. Como as árvores das florestas amazônicas não possuem adaptações para resistir e se recuperar após o fogo, esses eventos costumam ser catastróficos.

Sobre as consequências ambientais do acelerado desmatamento que vem ocorrendo na Região Norte, assinale a afirmativa correta.

- (A) Aumenta o débito dos rios, o que diminui as precipitações e induz mudanças na estrutura da vegetação.
- (B) Estabiliza as condições climáticas, o que mantém o regime pluviométrico estável e origina estações chuvosas mais prolongadas.
- (C) Reduz a evapotranspiração, o que diminui as chuvas sobre a própria Amazônia e aumenta o risco de secas extremas no Sul e Sudeste do país.
- (D) Reduz a amplitude térmica anual, o que altera a evapotranspiração que forma as nuvens responsáveis pela elevado índice de chuvas sobre a floresta.
- (E) Aumenta a umidade atmosférica que alimenta os “rios voadores” - correntes de jato que transportam a umidade da Amazônia para o Centro-Oeste, Sudeste e Sul.

42

As águas subterrâneas ocupam os vazios das formações rochosas e das camadas do solo. O processo mais importante de recarga das águas subterrâneas é a infiltração, cujo movimento é controlado pela força gravitacional e pelas características dos materiais rochosos presentes.

As opções a seguir apresentam alguns fatores que favorecem o processo de infiltração, **à exceção de uma**. Assinale-a.

- (A) As áreas vegetadas, porque as raízes abrem caminho para a água descendente no solo.
- (B) Os solos e os sedimentos arenosos, devido à presença de materiais porosos e permeáveis.
- (C) O adensamento das construções no espaço urbano, o que impermeabiliza o solo e acelera o escoamento superficial.
- (D) As encostas de declives suaves, porque diminuem a velocidade do escoamento superficial, o que aumenta a infiltração.
- (E) O regime pluviométrico, porque as chuvas sendo regularmente distribuídas ao longo do ano promovem um volume de recarga maior.

43

Leia o fragmento a seguir.

Em 1999, na cidade de Izmit, na Turquia, a terra tremeu violentamente, causando horror e destruição. Em menos de um minuto, mais de 15.000 mortos e quase meio milhão de desabrigados, a cidade inteira praticamente arrasada e prejuízos de bilhões de dólares. Uma ruptura de quase 40 km de extensão na superfície evidenciava mais uma vez a evolução contínua e inevitável da Terra.

TEIXEIRA, Wilson et alii. *Decifrando a Terra*. USP. Oficina de Textos. 2000.

Sobre a sismicidade e a estrutura da Terra, analise as afirmativas a seguir.

- I. Os terremotos ocorrem no contato entre duas placas litosféricas e, mais do que qualquer outro fenômeno, evidenciam a evolução contínua e inevitável da Terra.
- II. Os terremotos permitem deduzir a estrutura da Terra: uma camada superficial, a *crosta terrestre*; uma camada intermediária, o *manto*; e, em profundidades maiores, o *núcleo*.
- III. Os terremotos ocorrem quando as tensões acumuladas pelos movimentos das placas litosféricas atingem o limite de resistência das rochas, provocando uma ruptura.

Está correto o que se afirma em

- (A) I, apenas.
- (B) I e II, apenas.
- (C) I e III, apenas.
- (D) II e III, apenas.
- (E) I, II e III.

44

Analise o mapa a seguir.

As grandes unidades geomorfológicas da América do Sul



A partir do mapa, analise as afirmativas a seguir.

- I. A leste, os Planaltos das Guianas e Brasileiro, formados por terrenos pré-cambrianos que foram muito desgastados por sucessivos processos de erosão.
- II. A oeste, a cadeia orogênica dos Andes, alongada na direção norte/sul, cuja formação iniciou-se no Mesozoico e estendeu-se até o Cenozoico.
- III. Ao centro, as coberturas fanerozoicas, um corredor de terras baixas constituído por sedimentação a partir do material retirado das formações mais antigas.

Está correto o que se afirma em

- (A) I, apenas.
- (B) I e II, apenas.
- (C) I e III, apenas.
- (D) II e III, apenas.
- (E) I, II e III.

45

A figura a seguir mostra o perfil de um solo.



Estruturado verticalmente a partir da superfície, o solo, de forma simplificada, mostra as seguintes camadas:

- (A) solo, regolito e rocha matriz.
- (B) rocha matriz, regolito e solo.
- (C) solo, rocha matriz e regolito.
- (D) regolito, rocha matriz e solo.
- (E) regolito, solo e rocha matriz.

46

“O território brasileiro situa-se, em sua quase totalidade, no segmento das baixas latitudes. A linha do equador, que divide os dois hemisférios terrestres, e o trópico de Capricórnio, que sinaliza o limite sul da declinação anual do Sol, atravessam o território brasileiro, indicando que as marcas da tropicalidade devem aparecer com grande vigor”.

ROSS, Jurandir (org.). *Geografia do Brasil*. EDUSP. São Paulo. 2010.

Sobre as características do ambiente tropical brasileiro, analise as afirmativas a seguir.

- I. A circulação atmosférica é controlada pela zona de convergência intertropical (ZCIT), pelas baixas pressões equatoriais e pelos ventos alísios.
- II. O clima é predominantemente quente e úmido, com temperaturas médias anuais superiores a 18°C e diferenças sazonais marcadas pelo regime de chuvas.
- III. O enclave semiárido, em razão das médias térmicas acima de 26°C, apresenta um equilíbrio entre a quantidade de chuvas precipitada e a evapotranspiração das plantas.

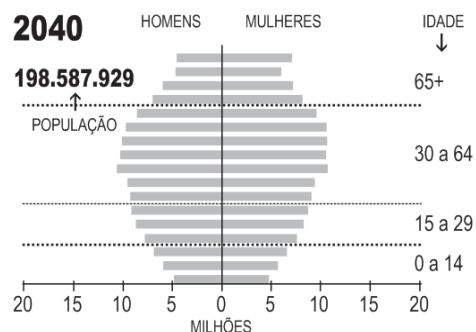
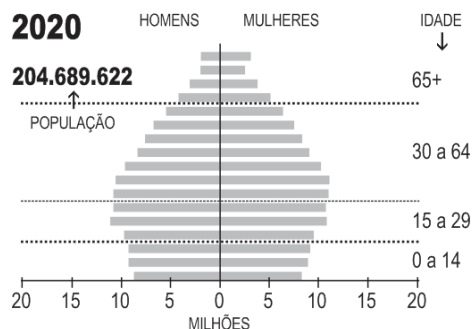
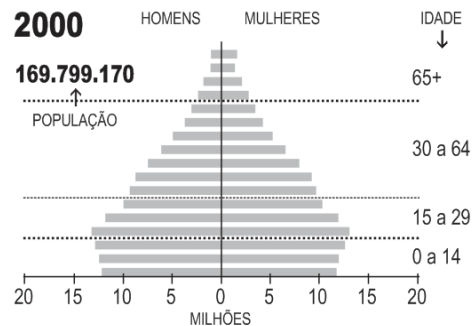
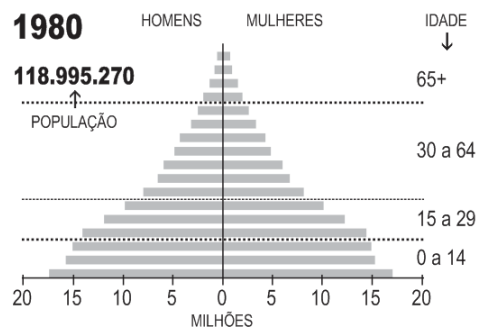
Está correto o que se afirma em

- (A) I, apenas.
- (B) I e II, apenas.
- (C) I e III, apenas.
- (D) II e III, apenas.
- (E) I, II e III.

47

Analise as pirâmides demográficas a seguir.

Mudança no perfil da população (1980-2040)



A partir da análise das pirâmides demográficas, assinale a afirmativa **incorreta**.

- (A) A população brasileira envelheceu muito rapidamente e vai começar a encolher.
- (B) O Brasil realizou a transição demográfica e caminha para ser um país de velhos.
- (C) A população brasileira adotou uma política natalista e mantém a taxa de fecundidade estabilizada.
- (D) O Brasil diminuiu a natalidade para 1,7 filhos/mulher e não consegue atender à reposição da população.
- (E) O Brasil aumentou o contingente de adultos e equilibrou a relação entre ativos e dependentes.

48

O mapa a seguir apresenta os biomas brasileiros na sua configuração original.



Sobre a ação antrópica e a preservação dos principais biomas do Brasil, assinale a afirmativa correta.

- (A) O sul e o sudeste do bioma Amazônia, o *arco de fogo*, têm sido devastados pela ação antrópica.
- (B) O bioma Mata Atlântica, a *caixa d'água* do país, tem mantido sua capacidade de regular o débito dos rios.
- (C) O bioma Caatinga, o *grande sertão*, tem sido pouco modificado devido à erradicação da fome no semiárido.
- (D) O bioma Cerrado, o *celeiro de grãos*, tem mostrado rápida capacidade de regeneração frente à devastação causada pela expansão do agronegócio.
- (E) O bioma Marinho Costeiro, a *Amazônia Azul*, tem sido modificado graças à intervenção dos movimentos ambientalistas.

49



A vasta região do cerrado localizada no Norte-Nordeste brasileiro denominada MATOPIBA – Maranhão, Tocantins, Piauí e Bahia – vem se consolidando como importante fronteira agrícola. Na última década, a produção de soja e milho da região passou de seis milhões para 14 milhões de toneladas, e esse incremento justifica a necessidade de o crescimento agrícola se fundamentar em bases sustentáveis. Estudos recentes permitiram compreender os processos de expansão, transição, conversão e intensificação agrícola no MATOPIBA.

BOLFE, Edson et alii. MATOPIBA em crescimento agrícola. Rev. de Política Agrícola. Ano XXV, nº 4. 2016.

Sobre as condições que favoreceram a expansão da agricultura empresarial nessa região, assinale a afirmativa correta.

- (A) O baixo custo do fator terra, a previsibilidade das condições climáticas e a horizontalidade do relevo.
- (B) A disponibilidade de capital humano, os baixos salários regionais e a homogênea distribuição de renda.
- (C) A facilidade de acesso aos financiamentos bancários, a disponibilidade de capitais privados e as altas taxas de juros.
- (D) A eficiência da infraestrutura viária, a facilidade de acesso aos portos exportadores e a proximidade das metrópoles.
- (E) A qualificação da mão de obra regional, os fluxos migratórios e a ampliação do mercado de trabalho devido à mecanização.

50

Sobre o processo de urbanização da Amazônia, analise as afirmativas a seguir.

- I. surgiram Os centros urbanos multifuncionais que surgiram nas áreas de agricultura empresarial conectam-se às áreas dinâmicas do país graças aos recursos das comunicações modernas.
- II. Manaus consolidou sua vocação como polo industrial sob o amparo da regulação especial da Zona Franca, com destaque para as indústrias eletroeletrônica e mecânica.
- III. Macapá tornou-se referência para prover a população local e/ou regional devido à disponibilidade de bens de consumo duráveis e não duráveis e à infraestrutura de serviços de educação, saúde e segurança.

Está correto o que se afirma em

- (A) I, apenas.
- (B) I e II, apenas.
- (C) I e III, apenas.
- (D) II e III, apenas.
- (E) I, II e III.

51

Sobre a economia brasileira, analise as afirmativas a seguir e assinale V para a verdadeira e F para a falsa.

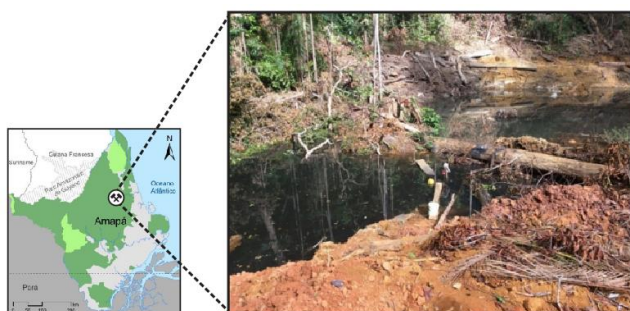
- () Entre os anos 1950 e 1980, a economia brasileira cresceu a uma taxa média de 7% ao ano e consolidou a transição da economia tipicamente primário-exportadora para a urbano-industrial.
- () Desde os anos 1980, a economia brasileira vem apresentando um ciclo de baixo nível de crescimento, uma redução da taxa de investimento e a diminuição da presença do Estado como agente coordenador do desenvolvimento.
- () Nos anos 1990, a economia brasileira ficou marcada pelas reformas neoliberais, com a abertura comercial e financeira, as privatizações, a desnacionalização do parque industrial e a reforma gerencial do Estado.

As afirmativas são, na ordem apresentada, respectivamente,

- (A) V – V – V.
- (B) V – F – V.
- (C) F – V – V.
- (D) F – F – V.
- (E) V – V – F.

52

Na escala real, o garimpo carrega um imensurável passivo socioambiental, com repercussão negativa e descrédito.



Garimpo Lourenço
 Unidades de Conservação
 Terras Indígenas

Sobre a região garimpeira do Lourenço (mapa e foto), analise as afirmativas a seguir.

- I. Os planos de manejo das unidades de conservação de proteção integral mencionam o garimpo do Lourenço como uma ameaça à integridade dos ecossistemas e à biodiversidade.
- II. A existência de um conjunto de áreas protegidas no Norte do Amapá e na Guiana Francesa deslocou o garimpo do Lourenço para uma condição geopolítica muito delicada.
- III. O garimpo do Lourenço, situado entre as cabeceiras do rio Araguari e as do rio Oiapoque, pode ser criminalizado pela contaminação mercurial constatada nos rios dessas bacias.

Está correto o que se afirma em

- (A) I, apenas.
- (B) I e II, apenas.
- (C) I e III, apenas.
- (D) II e III, apenas.
- (E) I, II e III.

53

Os avanços científicos e tecnológicos provocaram radicais alterações nas economias de escala, reduzindo o peso das vantagens comparativas em relação ao uso da mão de obra e dos recursos naturais. Assim, os novos espaços industriais passaram a exigir uma estruturação territorial inovadora: os tecnopolos.

Sobre os tecnopolos, assinale a afirmativa **incorreta**.

- (A) São pontos singulares de um território, em que se concentram as atividades ligadas à inovação tecnológica.
- (B) Atraem contingentes de mão de obra não qualificada, o que aumenta a eficiência dos serviços de uso coletivo.
- (C) Facilitam o surgimento de produtos, processos e serviços, em que o conhecimento é o principal insumo de produção.
- (D) Possibilitam inovações tecnológicas, ao reunir centros de pesquisa, universidades, empresas e organismos financeiros.
- (E) Estão apoiados, como estratégia de desenvolvimento, na valorização do potencial de pesquisa das empresas e das universidades.

54

Com diferença de grau e intensidade, as cidades brasileiras apresentam problemas parecidos. O tamanho, o tipo de atividade, a região em que se inserem, podem marcar as diferenças, mas em todas elas podem ser identificados problemas comuns. A organização interna das nossas cidades revela um problema estrutural, cuja análise permite concluir que todos os fatores mutuamente se causam.

SANTOS, Milton. *A urbanização brasileira*. Ed. HUCITEC. São Paulo. 1995. (Adaptado)

Sobre os problemas das cidades brasileiras, assinale a afirmativa **incorreta**.

- (A) O déficit de moradia e a especulação imobiliária conduzem à periferização da população mais pobre.
- (B) A instalação da infraestrutura de saneamento nos loteamentos urbanos é justificada pela expansão da demanda.
- (C) O predomínio do modal rodoviário nos deslocamentos estimula o crescimento disperso e o espraiamento das cidades.
- (D) O funcionamento da sociedade urbana, segundo suas exigências funcionais, transforma seletivamente os lugares.
- (E) Os recursos públicos investidos na *cidade econômica* em detrimento da *cidade social* agravam as diferenças entre os lugares urbanos.

55

Com o fim da Guerra Fria, desaparece o “outro” que encarnava a negação do modo de vida americano e justificava a necessidade de uma postura nacional coesa e militante. Após a queda do muro de Berlim, a hegemonia norte-americana era evidente e anunciava-se “o fim da História”.

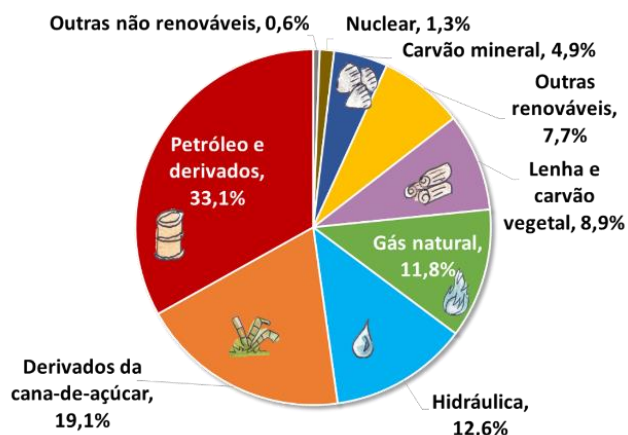
Sobre o quadro geopolítico atual, assinale a afirmativa correta.

- (A) A Rússia e a China, as duas grandes 'potências revisionistas', aceitam a hegemonia norte-americana no plano mundial.
- (B) A Coreia do Norte e o Irã, os 'estados predadores', ameaçam o equilíbrio geopolítico do nordeste da Ásia e do Oriente Médio.
- (C) O “terrorismo jihadista”, ideologia dos países islâmicos, propaga a violência por meio do tráfico de armas e de drogas.
- (D) A Venezuela, potência bolivariana expansionista, abala a presença norte-americana no hemisfério ocidental.
- (E) Os movimentos socialistas, em expansão a partir de Cuba, estimulam as ações antiamericanas na América Latina.

56

No Brasil, em 2020, os derivados de petróleo mantiveram a posição de liderança entre as fontes de energia, com uma participação de cerca de 33% na matriz energética, mas verificase, nos últimos anos, uma tendência declinante em sua participação percentual.

Matriz Energética Brasileira (2020)



Empresa de Pesquisa Energética - EPE – epe.gov.br. Acesso em 27/09/2022.

Assinale a opção que **não** apresenta uma razão para esse declínio.

- O processo continuado de substituição do óleo combustível pelo setor industrial aumentou o consumo de gás natural, menos poluente.
- O uso do etanol como combustível automotivo reduziu o consumo de gasolina, aliviando pressões sobre a demanda e o refino de petróleo.
- O crescimento das energias eólica e solar tem sido muito rápido, acentuando a tendência de substituir os combustíveis fósseis por energias limpas.
- A instabilidade de preços e a insegurança do abastecimento do petróleo provocaram uma retração dos investimentos na exploração em águas profundas.
- A instalação de hidrelétricas de grande porte na bacia Amazônica deve atender à demanda interna, mas exigirá cuidados sobre sua sustentabilidade ambiental.

57

Apesar das mudanças observadas na distribuição do poder mundial nos últimos anos, a posição da América Latina continua muito limitada. A integração dos países da América Latina, seu crescimento tecnológico e a melhoria na distribuição de renda constituem o caminho necessário para o fortalecimento regional, inclusive como estratégia geopolítica para sua integração ao espaço mundial.

Sobre as condições que dificultaram a integração dos países latino-americanos, assinale a afirmativa correta.

- Os países latino-americanos estão integrados no MERCOSUL, o que tem possibilitado acordos bilaterais e a transferência de tecnologia.
- Os países latino-americanos têm um sistema de transportes articulado que facilita sua integração e estimula sua complementaridade produtiva.
- Os países latino-americanos possuem uma dinâmica econômica e tecnológica uniforme, o que estimula as políticas de integração e desenvolvimento.
- Os países latino-americanos, além da fragilidade científica e tecnológica, mostram frágil integração econômica, má distribuição da renda e restrição da demanda.
- Os países latino-americanos, devido à presença de empresas estrangeiras, internalizaram a pesquisa e a inovação, o que estimulou sua capacidade de inovação tecnológica.

58

No processo permanente de criação, quando uma empresa cria um novo produto ou uma tecnologia mais eficiente, inicia-se o processo de destruição da que está sendo usada. Assim, a economia industrial evolui por meio da “destruição criadora”: quando um conjunto de novas tecnologias encontra aplicação produtiva, as tradicionais deixam de criar produtos capazes de competir no mercado e acabam sendo abandonadas. Com base nesse conceito, é possível identificar, ao longo do tempo, os chamados ciclos da economia mundial, isto é, períodos dominados por determinada tecnologia.

MAGNOLI, Demétrio. *Geografia para o Ensino Médio*. Ed. Atual. São Paulo. 2012. (Adaptado)

Sobre os ciclos da economia capitalista, assinale a afirmativa **incorreta**.

- O primeiro ciclo (1780-1870) é caracterizado pelas inovações na indústria têxtil, pela metalurgia do ferro e pelo uso do vapor enquanto força motriz das máquinas. É a era das ferrovias.
- O segundo ciclo (1870-1945) é caracterizado pela ascensão do aço, da eletricidade e da indústria química. O surgimento de novas potências industriais acirra a competição e estimula a corrida armamentista. É a era dos impérios.
- O terceiro ciclo (1945-1980) é caracterizado pela difusão da produção flexível, pela expansão da planificação econômica e pelo crescimento das empresas estatais. É a era da produção e do consumo de massa.
- O quarto ciclo (1980-2020) é caracterizado pela difusão das tecnologias da informação e comunicação (TICs), pelo uso dos computadores pessoais e pela formação de redes globais. É a era informacional.
- O quinto ciclo (2020- ??) é caracterizado pelo aperfeiçoamento das tecnologias da informação e comunicações (TICs), pelo uso da nanotecnologia, pelo avanço da biotecnologia e por novos paradigmas e trajetórias energéticas. É a era do conhecimento.

59

Globalização é, fundamentalmente, a integração mais estreita dos países que resultou da enorme redução dos custos de transportes e de comunicação e da destruição das barreiras artificiais à circulação de mercadorias, serviços, capitais, conhecimentos e, em menor escala, pessoas.

CAMPOS, L., CANAVEZES, S. *Introdução à Globalização*. Instituto Bento Jesus Caraça. CGTP. 2007.

Sobre o processo de globalização, assinale a afirmativa correta.

- (A) Estimula a competitividade entre as empresas, o que aumenta as migrações internacionais de mão de obra sem qualificação técnica.
- (B) Restringe o desenvolvimento tecnológico, o que provoca o deslocamento das fábricas e o agravamento dos problemas ambientais.
- (C) Trata-se de um processo à escala regional, ou seja, transversal ao conjunto de países que estabeleceram normas para constituir blocos econômicos.
- (D) Caracteriza-se pela desterritorialização, ou seja, as relações entre os homens e entre as instituições tendem a desvincular-se das contingências do espaço.
- (E) Amplia a crescente autonomia dos Estados, das organizações e dos indivíduos, tanto na esfera das relações econômicas quanto no nível da interação social e política.

60

“A fronteira é uma invenção dos homens”.

As fronteiras delimitam os territórios e foram instrumentalizadas pelo poder político como linhas de ruptura, principalmente a partir da constituição dos Estados-nação na Europa Ocidental.

A partir da 2ª Guerra Mundial, as fronteiras sofreram significativas mudanças. Sobre essas mudanças, analise as afirmativas a seguir.

- I. A ideia de fronteira e suas representações evoluiu a partir da intensificação dos fluxos eletrônicos.
- II. A “cortina de ferro”, a linha de ruptura que separou dois blocos, foi definida a partir de doutrinas econômicas e ideológicas opostas.
- III. O conceito de fronteira como linha de ruptura foi abalado à medida que se desenvolveu a construção da unidade europeia.

Está correto o que se afirma em

- (A) I, apenas.
- (B) I e II, apenas.
- (C) I e III, apenas.
- (D) II e III, apenas.
- (E) I, II e III.

Questão Discursiva – Estudo de Caso

O direito à diferença e a educação intercultural.

“Somos todos iguais ou somos todos diferentes? Queremos ser iguais ou queremos ser diferentes? Na atualidade motiva-nos muito mais, em nossa conduta, em nossas expectativas de futuro e projetos de vida compartilhada, o direito de sermos pessoal e coletivamente diferentes uns dos outros”. Esse é o principal desafio de uma educação em perspectiva intercultural.

A primeira característica da interculturalidade é a promoção deliberada da interrelação entre os diferentes grupos culturais presentes na sociedade. Nesse sentido, essa perspectiva se opõe tanto às visões que defendem a afirmação radical de identidades culturais específicas (diferencialismos), quanto às que não valorizam a explicitação da riqueza das diferenças culturais (assimilacionismos). Em contrapartida, a interculturalidade rompe com o conceito essencialista de cultura, valorizando suas raízes históricas e dinâmicas, sem fixar as pessoas em determinado padrão cultural. Uma terceira característica é a afirmação de que nas sociedades em que vivemos os processos de hibridização cultural são intensos e mobilizadores da construção de identidades abertas. Sempre que a humanidade pretendeu promover a pureza cultural e étnica, as consequências foram trágicas: genocídio, holocausto, eliminação e negação do outro. A consciência dos mecanismos de poder que permeiam as relações culturais constitui outra característica dessa perspectiva. Por serem históricas, as relações estão atravessadas por questões de poder, assimetrias, preconceitos e discriminações. Uma última característica a ser assinalada diz respeito ao fato de a interculturalidade considerar o direito à diferença, uma vez que a questão da diferença assume hoje uma importância especial e transforma-se na reivindicação de um direito: não só o direito de os diferentes a serem iguais, mas o direito de afirmar a diferença.

Adaptado de CANDAU, Vera. “Direitos humanos, educação e interculturalidade: as tensões entre igualdade e diferença”. *Revista Brasileira de Educação* v. 13 n. 37 jan./abr. 2008.

Com base no texto, responda os itens a seguir.

1. Identifique quatro características atribuídas ao conceito de interculturalidade. (2,0 pontos)
2. Explique as relações estabelecidas entre o conceito de interculturalidade e o direito à diferença. (4,0 pontos)
3. Caracterize duas medidas que podem promover uma educação para o reconhecimento do “outro”, no sentido do diálogo entre os diferentes grupos sociais e culturais do Amapá. (4,0 pontos)

1

2

3

4

5

6

7

8

9

10

11

12

13

14

15

16

17

18

19

20

21

22

23

24

25

26

27

28

29

30

Realização

