




Ministério Público do Estado Mato Grosso do Sul
Concurso Público 2012
Técnico II (Nível Médio)

Prova Escrita Objetiva – Tarde
Administrativa
TIPO 3 – AMARELA



Informações Gerais

- Você receberá do fiscal de sala os materiais descritos a seguir:
 - uma folha de respostas destinada à marcação das respostas das questões objetivas;
 - este caderno de prova contendo **setenta** questões objetivas, cada qual com **cinco** alternativas de respostas (A, B, C, D e E).
- Verifique se seu caderno está completo, sem repetição de questões ou falhas. Caso contrário, notifique imediatamente o fiscal de sala para que sejam tomadas as devidas providências.
- As questões objetivas são identificadas pelo número situado acima do seu enunciado.
- Ao receber a folha de respostas, você deve:
 - conferir seus dados pessoais, em especial seu nome, número de inscrição e o número do documento de identidade;
 - ler atentamente as instruções para a marcação das respostas das questões objetivas;
 - marcar na folha de respostas o campo relativo à confirmação do tipo/cor de prova, conforme o caderno que você recebeu;
 - assinar seu nome, apenas nos espaços reservados, com caneta esferográfica transparente de cor azul ou preta.
- Durante a aplicação da prova não será permitido:
 - qualquer tipo de comunicação entre os candidatos;
 - levantar da cadeira sem a devida autorização do fiscal de sala;
 - portar aparelhos eletrônicos, tais como *bipe*, telefone celular, agenda eletrônica, *notebook*, *palmtop*, receptor, gravador, máquina de calcular, máquina fotográfica digital, controle de alarme de carro etc., bem como relógio de qualquer espécie, óculos escuros ou quaisquer acessórios de chapelaria, tais como chapéu, boné, gorro etc. e, ainda, lápis, lapiseira (grafite), corretor líquido e/ou borracha. Tal infração poderá acarretar a eliminação sumária do candidato.
- O preenchimento das respostas, de inteira responsabilidade do candidato, deverá ser feito com caneta esferográfica de tinta indelével de cor preta ou azul. Não será permitida a troca da folha de respostas por erro do candidato.
- O tempo disponível para a realização da prova é de **quatro horas**, já incluído o tempo para a marcação da folha de respostas.
- Reserve tempo suficiente para o preenchimento de suas respostas. Para fins de avaliação, serão levadas em consideração apenas as marcações realizadas na folha de respostas, não sendo permitido anotar informações relativas às suas respostas em qualquer outro meio que não seja o próprio caderno de provas.
- Somente após decorridas **duas horas** do início da prova você poderá retirar-se da sala de prova, contudo sem levar o caderno de provas.
- Somente no decorrer dos últimos **sessenta minutos** do período da prova você poderá retirar-se da sala levando o caderno de provas.
- A FGV realizará a coleta da impressão digital dos candidatos nas folhas de respostas.
- Ao terminar a prova, entregue a folha de respostas ao fiscal da sala e deixe o local de prova. Caso você se negue a entregar a folha de respostas, será eliminado do concurso.
- Os candidatos poderão ser submetidos a sistema de detecção de metais quando do ingresso e da saída de sanitários durante a realização das provas. Ao sair da sala, ao término da prova, o candidato não poderá usar o sanitário.
- Os gabaritos preliminares das provas objetivas serão divulgados no dia **04/02/2013**, no endereço eletrônico <http://www.fgv.br/fgvprojetos/concursos/mpms12>.
- O prazo para interposição de recursos contra os gabaritos preliminares será das 0h00min do dia **05/02/2013** até às 23h59min do dia **06/02/2013**, observado o horário oficial, no endereço <http://www.fgv.br/fgvprojetos/concursos/mpms12>, por meio do Sistema Eletrônico de Interposição de Recurso.

Língua Portuguesa

Texto I

Rápida e acessível

A justiça imaginada pelos antigos era representada por uma estátua fria, embora endeusada. Os egípcios viam-na com uma espada nas mãos, que significava obrigatoriedade de cumprimento de suas decisões. Era a deusa Maat, de cujo nome se originou o vocábulo magistrado. A mitologia grega nos legou a figura de Themis, deusa do Olimpo, casada com Júpiter, de cuja união foram gerados a Equidade, a Lei e a Paz. Tinha em sua mão direita a balança, simbolizando o equilíbrio e a ponderação. Os romanos acrescentaram a Themis e a Maat a venda nos olhos, simbolizando a imparcialidade. Era a figura da *Iustitia*.

A Justiça ainda carece de todos esses atributos. Suas decisões devem ter a força da obrigatoriedade, gerar equidade e paz, de acordo com a lei, e ser imparciais. Mas só isso não basta. Em uma linguagem mitológica, talvez devêssemos acrescentar a tais figuras o atributo de Hermes, o Deus da Velocidade. A Justiça de hoje tem de ser de fácil acesso e célere.

Em nosso sistema constitucional integram o Poder Judiciário o Ministério Público e a advocacia, que, ao lado da magistratura, são os alicerces que lhe dão suporte.

Como passageiros de um só barco, devemos remar na mesma direção, impedindo que nos desviemos da rota a que está obrigada a percorrer a nave para proporcionar à sociedade uma Justiça rápida, eficaz, transparente e acessível. Para tanto, é imprescindível que todos respeitem os direitos, os atributos e as prerrogativas dos demais.

(Carmen Fontenele foi vice-presidente da OAB-RJ. *O Globo*. 14/12/2012)

01

Assinale a alternativa na qual o vocábulo sublinhado está empregado em sentido figurado.

- (A) “A Justiça ainda carece de todos esses atributos.”
- (B) “Suas decisões devem ter a força da obrigatoriedade, gerar equidade e paz, de acordo com a lei, e ser imparciais.”
- (C) “Em uma linguagem mitológica, talvez devêssemos acrescentar a tais figuras o atributo de Hermes, o Deus da Velocidade.”
- (D) “A Justiça de hoje tem de ser de fácil acesso e célere”.
- (E) “Em nosso sistema constitucional integram o Poder Judiciário o Ministério Público e a advocacia, que, ao lado da magistratura, são os alicerces que lhe dão suporte.”

02

O primeiro parágrafo mostra, em rápida sucessão, as várias figuras da Justiça. A estrutura adequada a esse conteúdo é

- (A) a presença de muitos adjetivos.
- (B) a estruturação em frases longas.
- (C) a divisão em muitos períodos.
- (D) a citação de muitas figuras históricas.
- (E) as formas verbais no presente.

03

Assinale a alternativa em que o termo sublinhado é paciente do termo anterior (complemento nominal) e não o seu agente (adjunto adnominal).

- (A) Cumprimento de suas decisões.
- (B) Atributo de Hermes.
- (C) Justiça de hoje.
- (D) Passageiros de um só barco.
- (E) Prerrogativas dos demais.

04

“Como passageiros de um só barco, devemos remar na mesma direção, impedindo que nos desviemos da rota a que está obrigada a percorrer a nave para proporcionar à sociedade uma Justiça rápida, eficaz, transparente e acessível. Para tanto, é imprescindível que todos respeitem os direitos, os atributos e as prerrogativas dos demais”.

Nesse parágrafo do texto há uma série de palavras que pertencem ao campo semântico da navegação. Indique a alternativa em que todas as palavras dadas pertencem a esse campo.

- (A) passageiros – barco – remar – direção – rota
- (B) rota – nave – passageiros – barco – direitos
- (C) direitos – atributos – prerrogativas – passageiros – barco
- (D) barco – direção – rota – nave – Justiça
- (E) Justiça – passageiros – rota – barco – prerrogativas

05

Ao término do artigo, o jornal informa ao leitor que Carmen Fontenelle foi vice-presidente da OAB/RJ. Essa informação

- (A) é uma obrigação legal, já que nenhum texto pode ser publicado sem autoria.
- (B) mostra o interesse do jornal em dar autoridade ao texto publicado.
- (C) indica que a autora do texto fez questão de ser identificada.
- (D) justifica o fato de a autora estar explorando um tema do Judiciário.
- (E) demonstra que o texto foi produzido por livre-iniciativa da autora.

06

Ao dizer que a Justiça tem de ser de fácil acesso, a autora do texto quer dizer que essa Justiça

- (A) deve fazer cumprir suas decisões com rapidez.
- (B) pode oferecer oportunidade de justiça a todos.
- (C) tem que estar sem dificuldade disponível para os cidadãos.
- (D) deve realizar julgamentos de forma transparente.
- (E) é obrigada a ter sedes em todas as cidades do país.

07

A finalidade do primeiro parágrafo do texto é a de

- (A) indicar todos os atributos da Justiça.
- (B) fazer uma retrospectiva histórica da figura da Justiça.
- (C) lembrar a história da Justiça entre os homens.
- (D) recordar o valor da Justiça para os antigos.
- (E) demonstrar que a Justiça sempre esteve presente na história humana.

08

Ao dizer, no início do segundo parágrafo, que “A Justiça ainda carece de todos esses atributos”, a autora do texto mostra que a Justiça, no Brasil,

- (A) ainda se mostra deficiente, pois não tem velocidade e fácil acesso.
- (B) se apresenta de forma a demonstrar todos os seus atributos clássicos.
- (C) exerce seu papel de modo imperfeito, pois ainda necessita de aprimoramentos.
- (D) desempenha sua função de forma satisfatória.
- (E) mantém a imagem clássica da Justiça, embora vítima da modernidade.

09

A última figura do primeiro parágrafo – a *Iustitia* – representa

- (A) um ponto de chegada da imagem da Justiça, fruto de todas as anteriores.
- (B) a figura mais elaborada artisticamente entre todas as imagens antigas.
- (C) a Justiça, segundo os valores da modernidade.
- (D) a imagem democrática da Justiça, criada a partir das ideias republicanas.
- (E) a visão romana da Justiça, diferente de todos os valores anteriores.

10

“Em nosso sistema constitucional integram o Poder Judiciário o Ministério Público e a advocacia”. Uma forma de reescrever-se essa frase e que altera o seu sentido original é:

- (A) O Ministério Público e a advocacia, em nosso sistema constitucional, integram o Poder Judiciário.
- (B) Em nosso sistema constitucional o Ministério Público e a advocacia integram o Poder Judiciário.
- (C) Em nosso sistema constitucional, o Poder Judiciário é integrado pelo Ministério Público e pela advocacia.
- (D) O Poder Judiciário, em nosso sistema constitucional, é integrado pela advocacia e pelo Ministério Público.
- (E) O Ministério Público e a advocacia são integrados pelo Poder Judiciário, em nosso sistema constitucional.

11

“A Justiça ainda carece de todos esses atributos. Suas decisões devem ter a força da obrigatoriedade, gerar equidade e paz, de acordo com a lei, e ser imparciais. Mas só isso não basta. Em uma linguagem mitológica, talvez devêssemos acrescentar a tais figuras o atributo de Hermes, o Deus da Velocidade. A Justiça de hoje tem de ser de fácil acesso e célere”.

Nesse segundo parágrafo do texto foram sublinhados vários elementos de coesão textual. Os elementos cujos antecedentes estão no parágrafo anterior são:

- (A) esses atributos / suas
- (B) suas / isso
- (C) isso / tais figuras
- (D) tais figuras / esses atributos
- (E) suas / tais figuras

12

“Em nosso sistema constitucional integram o Poder Judiciário o Ministério Público e a advocacia, que, ao lado da magistratura, são os alicerces que lhe dão suporte”.

Nesse terceiro parágrafo do texto, o pronome **lhe** se refere a

- (A) sistema constitucional
- (B) Poder Judiciário
- (C) Ministério Público
- (D) advocacia
- (E) magistratura

13

Ao dizer que “Somos passageiros de um só barco...”, a autora do texto quer indicar a necessidade de

- (A) dedicação.
- (B) honestidade.
- (C) perseverança.
- (D) solidariedade.
- (E) confiança.

14

O texto I é caracterizado como

- (A) uma exposição didática sobre a Justiça no Brasil.
- (B) uma narrativa histórica sobre a formação da Justiça.
- (C) uma crítica a algumas falhas da Justiça em nosso país.
- (D) um elogio a alguns progressos da Justiça entre nós.
- (E) um alerta contra aqueles que prejudicam o exercício da Justiça.

15

O título do texto “Rápida e acessível” é justificado, no texto, porque

- (A) assim sempre foi a Justiça.
- (B) dessa forma deveria ser a Justiça.
- (C) sempre foram esses os atributos mais importantes da Justiça.
- (D) a constituição do país assim o exige.
- (E) esses são os atributos que a Justiça oferece aos cidadãos carentes.

Texto II

A mensagem dos assassinos impunes

O Programa Nacional de Proteção aos Defensores dos Direitos Humanos foi criado em 2004 e a política nacional para a área em 2007. Passos importantes, mas insuficientes. Segundo o governo federal, o Programa de Proteção foi implementado em apenas oito estados: Bahia, Ceará, Espírito Santo, Minas Gerais, Pará, Pernambuco, Rio Grande do Sul e Rio de Janeiro.

A falta de recursos, infraestrutura e coordenação entre autoridades federais e estaduais é problema importante que o impede de alcançar seu objetivo. Cerca de 300 pessoas estão sob proteção do Programa e, mesmo assim, muitas delas seguem o mesmo caminho que Alexandre Anderson, líder de pescadores artesanais na Baía de Guanabara, que protesta contra os impactos ambientais das empresas petroquímicas que se instalam na área, e teve que sair do Rio de Janeiro por conta de ameaças de milícias. O afastamento faz com que se enfraqueçam os vínculos com suas comunidades e fragiliza a continuidade de suas lutas.

(Adaptado. **Átila Roque**, *O Globo*, 20/12/2012)

16

O termo “líder de pescadores artesanais da Baía de Guanabara” aparece entre vírgulas porque

- (A) faz parte de uma enumeração.
- (B) significa um acréscimo de informação ao texto.
- (C) se trata de uma oração deslocada da ordem sintática.
- (D) funciona sintaticamente como um aposto.
- (E) mostra uma inversão da ordem sintática dos termos da frase.

17

“A falta de recursos, infraestrutura e coordenação entre autoridades federais e estaduais é problema importante...”.

Sobre a estrutura desse segmento do texto, assinale a afirmativa correta.

- (A) O termo “a falta de” se refere exclusivamente a “recursos”.
- (B) A “falta” citada no início do segmento se refere exclusivamente a “recursos” e “infraestrutura”.
- (C) O termo “entre autoridades federais e estaduais” se liga exclusivamente a “coordenação”.
- (D) O termo “entre autoridades federais e estaduais” se liga exclusivamente a “coordenação” e “infraestrutura”.
- (E) A forma singular “problema” se refere exclusivamente a “falta de recursos”.

18

O caso de Alexandre Anderson, citado no segundo parágrafo do texto, é incluído no texto com a finalidade textual de

- (A) demonstrar o acerto de algumas medidas governamentais.
- (B) criticar a atuação das milícias em algumas áreas do Rio de Janeiro.
- (C) denunciar a participação espúria da polícia em alguns atos criminosos.
- (D) indicar falhas que ainda persistem no Programa de Proteção a Testemunhas.
- (E) alertar as autoridades para um problema de pessoa que necessita de proteção.

19

Todas as frases a seguir – retiradas do texto original completo – estão na voz passiva. A frase em que o agente da ação verbal sublinhada está identificado é:

- (A) “O Programa Nacional de Proteção aos Defensores dos Direitos Humanos foi criado em 2004 e a política nacional para a área em 2007”.
- (B) “Segundo o governo federal, o Programa de Proteção foi implementado em apenas oito estados...”.
- (C) “De 2010 até setembro deste ano, foram observados 300 casos de ataques sexuais na região...”.
- (D) “Em apenas quatro casos os responsáveis pelas agressões foram punidos”.
- (E) “As mulheres são vítimas de ataques sexuais que são realizados por bandidos contratados com o propósito de humilhá-las”.

20

“O Programa Nacional de Proteção aos Defensores dos Direitos Humanos foi criado em 2004 e a política nacional para a área em 2007. Passos importantes, mas insuficientes. Segundo o governo federal, o Programa de Proteção foi implementado em apenas oito estados: Bahia, Ceará, Espírito Santo, Minas Gerais, Pará, Pernambuco, Rio Grande do Sul e Rio de Janeiro”.

A alternativa que mostra um comentário **incorreto** sobre um dos componentes desse primeiro segmento do texto é

- (A) o conectivo “mas” opõe “importantes” a “insuficientes”.
- (B) o termo “segundo” equivale a “de acordo com”.
- (C) as formas verbais “foi criado” e “foi implementado” se referem ao mesmo sujeito.
- (D) o termo “apenas” mostra que, segundo o autor do texto, deveria haver mais estados.
- (E) o termo “a área” se refere a algum lugar citado numa parte anterior do texto.

Raciocínio Lógico

21

Seja a operação \oplus , definida para quaisquer reais $0 \leq x \leq 1$ e $0 \leq y \leq 1$ por:

$$x \oplus y = \begin{cases} x, & \text{se } x \geq y \\ y, & \text{se } x < y \end{cases}$$

Considere as afirmativas:

- I. $x \oplus 1 = 1$, para qualquer $0 \leq x \leq 1$
- II. $x \oplus 0 = x \oplus x$, para qualquer $0 \leq x \leq 1$
- III. $x \oplus y = y \oplus x$, para quaisquer $0 \leq x \leq 1$ e $0 \leq y \leq 1$

Assinale:

- (A) se somente a afirmativa I estiver correta.
- (B) se somente a afirmativa II estiver correta.
- (C) se somente as afirmativas I e II estiverem corretas.
- (D) se somente as afirmativas I e III estiverem corretas.
- (E) se todas as afirmativas estiverem corretas.

22

André, Bia, Carla e Dóris estão sobre os vértices de um quadrado que tem dois de seus lados na direção Norte-Sul. Cada vértice possui exatamente um ocupante.

Carla e André estão sobre um mesmo lado do quadrado. Carla e Dóris estão sobre uma mesma diagonal do quadrado. André está em uma posição mais ao Sul do que Dóris e mais a Oeste do que Bia.

Percorrendo o quadrado no sentido horário a partir de André, a ordem deles quatro é:

- (A) André, Dóris, Bia e Carla.
- (B) André, Carla, Bia e Dóris.
- (C) André, Bia, Dóris e Carla.
- (D) André, Dóris, Carla e Bia.
- (E) André, Carla, Dóris e Bia.

23

Considerando a afirmativa “*Todos os lápis que estão nesta caixa são vermelhos*” como **falsa**, analise as afirmativas a seguir.

- I. Todos os lápis que estão nesta caixa não são vermelhos.
- II. Algum lápis que está nesta caixa não é vermelho.
- III. Nenhum lápis que está nesta caixa é vermelho.

Assinale:

- (A) se somente a afirmativa I é obrigatoriamente correta.
- (B) se somente a afirmativa II é obrigatoriamente correta.
- (C) se somente a afirmativa III é obrigatoriamente correta.
- (D) se somente as afirmativas I e III são obrigatoriamente corretas.
- (E) se somente as afirmativa II e III são obrigatoriamente corretas.

24

Uma urna contém uma bola branca, duas bolas amarelas, três bolas laranjas, quatro bolas verdes, cinco bolas azuis e seis bolas pretas. Serão retiradas, simultânea e aleatoriamente, n bolas da urna.

O valor mínimo de n para que se tenha certeza de haver tirado, pelo menos, quatro bolas da mesma cor é:

- (A) 4
- (B) 10
- (C) 12
- (D) 15
- (E) 16

25

Uma barraca de lanches rápidos vende sanduíches de dois tipos. O tipo simples com uma fatia de carne e uma de queijo e o duplo com duas fatias de carne e duas de queijo.



Cada sanduíche simples é vendido por R\$4,80 e cada duplo é vendido por R\$6,00. Certo dia, João, o dono da barraca vendeu 50 sanduíches, arrecadou o total de R\$266,40 e disse: “*não vendi mais porque a carne acabou*”.

O número de fatias de carne que João tinha no estoque, nesse dia, era:

- (A) 60.
- (B) 64.
- (C) 68.
- (D) 72.
- (E) 76.

26

Certo dia, Pedro entra em casa com seus amigos Bruno, Marcio e Luiz. Eles passam pela sala onde está, sobre a mesa, um bolo que Clara, mãe de Pedro, tinha feito para o aniversário da filha. Minutos depois, Clara passa pela sala e vê que o brigadeiro que estava em cima do bolo tinha desaparecido. Ela chama imediatamente os quatro meninos e pergunta quem roubou o brigadeiro do bolo. Cada um disse o seguinte:

| | |
|---------|---|
| Marcio: | <i>Foi Bruno quem pegou o brigadeiro.</i> |
| Pedro: | <i>Não fui eu.</i> |
| Luiz: | <i>Marcio pegou o brigadeiro.</i> |
| Bruno: | <i>Luiz mentiu.</i> |

Sabendo que um deles mentiu e os outros disseram a verdade, pode-se concluir que:

- (A) Bruno pegou o brigadeiro.
- (B) Luiz pegou o brigadeiro.
- (C) Pedro pegou o brigadeiro.
- (D) Marcio é o mentiroso.
- (E) Pedro é o mentiroso.

27

O salário de João é $\frac{2}{5}$ maior do que o salário de José, isto é, o salário de João é igual ao salário de José mais $\frac{2}{5}$ do salário de José. Assim, o salário de José é $\frac{p}{q}$ menor do que o salário de João, ou seja, o salário de José é igual ao salário de João menos $\frac{p}{q}$ do salário de João.

O valor de $\frac{p}{q}$ é igual a:

- (A) $\frac{2}{5}$
- (B) $\frac{3}{5}$
- (C) $\frac{2}{3}$
- (D) $\frac{2}{7}$
- (E) $\frac{3}{7}$

28

Um segmento de reta de comprimento x é dividido em três partes iguais e a parte do meio é retirada. Depois, cada um dos segmentos restantes também é dividido em três partes iguais e a parte do meio é retirada. Finalmente, com cada um dos segmentos restantes o processo é repetido dividindo-os em três partes iguais e retirando-se a parte do meio.

A soma dos comprimentos dos segmentos restantes é:

- (A) $\frac{16x}{27}$
- (B) $\frac{8x}{27}$
- (C) $\frac{4x}{9}$
- (D) $\frac{2x}{9}$
- (E) $\frac{x}{3}$

29

Um contra-exemplo para uma determinada afirmativa é um exemplo que a contradiz, isto é, um exemplo que torna a afirmativa falsa.

No caso de afirmativas do tipo “SE *antecedente* ENTÃO *consequente*”, um contra-exemplo torna o *antecedente* verdadeiro e o *consequente* falso.

Um contra-exemplo para a afirmativa “SE x é múltiplo de 7 ENTÃO x é um número ímpar” é:

- (A) $x = 7$
- (B) $x = 8$
- (C) $x = 11$
- (D) $x = 14$
- (E) $x = 21$

30

Um retângulo tem lados que medem 5 cm e 12 cm. Considere todos os segmentos de reta que passam pelo centro deste retângulo e têm suas extremidades sobre os lados do retângulo.


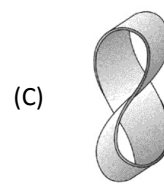

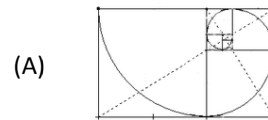
A quantidade desses segmentos, cujas medidas em centímetros são números inteiros, é:

- (A) 16.
- (B) 17.
- (C) 18.
- (D) 19.
- (E) 20.

Atualidades**31**

O diagrama que representa a estrutura da molécula de DNA é uma das imagens mais emblemáticas da ciência contemporânea.

Assinale a imagem que representa a estrutura do DNA.

**32**

Desdobramentos recentes da política externa brasileira apontam para um maior protagonismo do país no cenário internacional. A esse respeito, analise as afirmativas a seguir.

- I. O Brasil sinalizou que não pactuaria com as violações aos direitos humanos no Irã.
- II. O Brasil fortaleceu as relações com a China, em um contexto de mudança do eixo de gravidade do comércio exterior brasileiro.
- III. O Brasil passou a ocupar uma das cadeiras permanentes do Conselho de Segurança das Nações Unidas.

Assinale:

- (A) Se somente a afirmativa I estiver correta.
- (B) Se somente a afirmativa II estiver correta.
- (C) Se somente a afirmativa III estiver correta.
- (D) Se somente as afirmativas I e II estiverem corretas.
- (E) Se todas as afirmativas estiverem corretas.

33

“Hugo Chávez foi reeleito presidente da Venezuela em outubro de 2012 com 54% dos votos, contra 44% de seu adversário, Henrique Capriles. Ele é o presidente há mais tempo na função em toda a América Latina”.

(Adaptado de “Eleições na Venezuela: Chávez pode ficar 20 anos no poder”. www.educacao.uol.com.br)

Assinale a alternativa que indica um fator responsável pela longevidade de Hugo Chávez no poder.

- (A) Os projetos sociais financiados pelo petróleo melhoraram as condições de vida da população.
- (B) A implementação da “revolução bolivariana” incentivou a liberalização da economia.
- (C) O antagonismo com os Estados Unidos aproximou a Venezuela dos regimes comunistas da China e da Rússia.
- (D) O apoio dos empresários e dos investidores que têm se favorecido com a exploração do petróleo.
- (E) A aliança com países que aderiram à recente “virada à esquerda”, como Cuba, Chile e Argentina.

34



(http://geografianovest.blogspot.com.br/2012/06/primavera-arabe-em-charges.htmlS)

Sobre o papel das redes sociais nos protestos ocorridos recentemente no mundo árabe, também conhecidos como “Primavera Árabe” (2010-2012), analise as afirmativas a seguir.

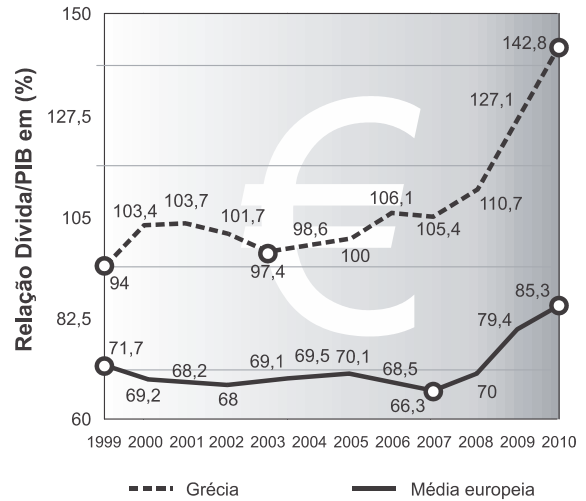
- I. A rede mundial de computadores foi importante para mobilizar a população que exigia mais direitos individuais e uma forma de governo mais participativa.
- II. Os “movimentos instantâneos” revelaram como as redes sociais podem dar mais força e visibilidade às demandas individuais e às dificuldades de controlar o ciberespaço.
- III. A população insatisfeita fez uso das mídias sociais para marcar os encontros dos ativistas, disseminar informações sobre os protestos e armazenar e divulgar vídeos.

Assinale:

- (A) se somente a afirmativa I estiver correta.
- (B) se somente a afirmativa II estiver correta.
- (C) se somente a afirmativa III estiver correta.
- (D) se somente as afirmativas I e II estiverem corretas.
- (E) se todas as afirmativas estiverem corretas.

35

Observe o gráfico que apresenta a relação Dívida/PIB da Grécia e a média europeia.



Com base nas informações do gráfico, assinale a afirmativa correta.

- (A) A partir de 2000, a relação Dívida/PIB da Grécia teve um crescimento constante.
- (B) A relação Dívida/PIB permanece estável na Zona do Euro.
- (C) A Grécia possui atualmente uma relação Dívida/PIB de, aproximadamente, 143%.
- (D) A evolução da relação entre Dívida/PIB da Grécia e da União Europeia é equivalente.
- (E) Em 1999, a relação Dívida/PIB da União Europeia apresentou seu valor mais baixo.

36

O Novo Código Florestal (2012) tem sido alvo de polêmica por parte de grupos ambientalistas, de ruralistas e da comunidade científica.

Em comum, estes três grupos reivindicam:

- (A) a regulamentação da exploração da terra e a preservação da biodiversidade.
- (B) a flexibilização da legislação considerada muito rigorosa e prejudicial à produção.
- (C) a suspensão das multas aplicadas por desmatamento até a publicação do novo Código.
- (D) a autonomia aos Estados para que definam os cultivos que podem ser realizados nas Áreas de Preservação Permanente.
- (E) a manutenção de uma parcela de mata nativa, cuja porcentagem varia em função dos biomas, para estabelecer a Reserva Legal.

37

As duas maiores potências econômicas do planeta, Estados Unidos e China, concluíram no final de 2012 seus processos de transição de poder.

A esse respeito, assinale a afirmativa correta.

- (A) O processo político norte-americano impede a reeleição do presidente em exercício.
- (B) O processo político chinês é marcado pelo pluripartidarismo.
- (C) O processo político norte-americano expressa a vontade da minoria.
- (D) O processo político chinês é centralizado e unipartidário.
- (E) O processo político chinês admite as regras do liberalismo político.

38

Em novembro de 2011, o governo da presidente Dilma Roussef sancionou a lei que instituiu a Comissão Nacional da Verdade, que se propõe a investigar as violações aos direitos humanos praticadas entre 1946 e 1988.

Cabe a essa Comissão

- (A) elaborar um manifesto contra a anistia aos torturadores e aos que colaboraram com o regime militar de 1964.
- (B) convocar, em caráter não obrigatório, os acusados de violação dos Direitos Humanos, podendo recomendar sua punição.
- (C) rever, com base em pesquisas, os crimes perpetrados por ativistas e guerrilheiros que usaram a luta armada para afirmar suas reivindicações.
- (D) apurar a repressão à Guerrilha do Araguaia e conceder indenizações pelos danos causados pela ditadura militar.
- (E) averiguar eventuais abusos ocorridos na administração de presídios de segurança máxima, como o caso do presídio do Carandiru.

39

Humberto Espindola.
Sem Título, 1997



Thetis Selingardi.
Memória da Divisão do Estado de MS



Cleir Ávila F. J. Onça
Pintada (1994)

As imagens acima reproduzem obras expressivas das artes plásticas sul-mato-grossenses contemporâneas. Nestas obras, os artistas

- (A) valorizam a cultura do Centro-Oeste, seus mitos indígenas e lendas populares.
- (B) utilizam temas ecológicos expressos de forma abstrata e hiper-realista.
- (C) expressam temas regionais com linguagens próprias da arte moderna.
- (D) privilegiam grandes murais de tendência nativista.
- (E) retratam poeticamente temáticas locais, como a bovinocultura e a fauna pantaneira.

40

O Programa da Aceleração do Crescimento (PAC), lançado em 2007,

- (A) estabelece ações para a qualificação da mão de obra, importante variável para o crescimento econômico.
- (B) amplia os investimentos em infra-estrutura, saneamento e habitação.
- (C) inova em tecnologia, privilegiando a pesquisa relacionada à agropecuária.
- (D) desonera a carga tributária, reduz os juros e desvaloriza o câmbio.
- (E) controla a inflação, mediante o tabelamento da cesta básica.

Legislação Institucional

41

Assinale a alternativa que indica uma atribuição do Conselho Superior do Ministério Público.

- (A) Aprovar o regimento interno da Corregedoria Geral do Ministério Público.
- (B) Editar atos de aposentadoria, exoneração e outros que importem em vacância de cargos dos serviços auxiliares e atos de disponibilidade de seus servidores.
- (C) Opinar nos processos que tratem de demissão de membros do Ministério Público não vitalícios.
- (D) Julgar recurso contra decisão que determinar o arquivamento de reclamação de qualquer pessoa sobre abusos, erros, omissões ou conduta incompatível dos servidores do Ministério Público.
- (E) Dirimir conflitos de atribuições entre membros do Ministério Público, designando quem deva officiar no feito.

42

As alternativas a seguir apresentam deveres dos membros do Ministério Público, **à exceção de uma**. Assinale a.

- (A) Assistir aos atos judiciais, quando obrigatória ou conveniente a sua presença.
- (B) Residir na Comarca em que estiver exercendo suas funções, ainda que em substituição ou auxílio.
- (C) Prestar informações solicitadas pelos órgãos da instituição.
- (D) Atender aos interessados, a qualquer momento, nos casos urgentes.
- (E) Acatar, no plano administrativo, as decisões dos órgãos da Administração Superior do Ministério Público.

43

A respeito das vantagens financeiras, que podem ser concedidas aos servidores do Ministério Público Estadual, em razão da prestação de serviços em condições especiais, assinale a afirmativa **incorreta**.

- (A) Gratificação de insalubridade, até o limite de 20% (vinte por cento), quando o servidor exercer atividades ou funções em condições que, permanentemente, exponha sua vida a riscos, em razão de condições de trabalho classificadas como perigosas.
- (B) Gratificação pela prestação de serviço extraordinário, em razão de trabalho excedente às horas correspondentes ao expediente diário, por motivo de força maior ou situação excepcional, até o limite de 2 (duas) horas diárias, sempre mediante prévia autorização do Procurador Geral de Justiça.
- (C) Gratificação de produtividade concedida como incentivo ao aumento da produção, com base em avaliação de desempenho pessoal, e em relação a atividades que possam ser mensuradas.
- (D) Gratificação por dedicação integral destinada a remunerar os ocupantes de cargos efetivos que ficarem impedidos de exercer outra ocupação, em razão da exigência de permanecerem disponíveis para atender a convocações para trabalhos fora do expediente normal de trabalho.
- (E) Gratificação de penosidade quando no exercício do cargo ou função o servidor realiza seus trabalhos em condições que lhe impõem certo grau de desgaste e cansaço físico, mental e/ou visual, motivados tanto pela intensidade do esforço, como pela posição em que é realizado o trabalho.

44

A respeito das indenizações a serem pagas aos servidores do Ministério Público do Estado do Mato Grosso do Sul, assinale a afirmativa **incorreta**.

- (A) A ajuda de custo e os auxílios pecuniários constituem indenizações.
- (B) As indenizações se incorporam ao vencimento, mas não ao provento.
- (C) A ajuda de custo e transporte para a localidade de origem, dentro do prazo de um ano contado do óbito, são assegurados à família do servidor que falecer na nova sede.
- (D) Ao servidor que se afastar do cargo, ou reassumi-lo, em virtude de mandato eletivo será concedida ajuda de custo.
- (E) a diária será concedida por período de afastamento, sendo devida pela metade quando o deslocamento exigir pernoite fora da sede.

45

O membro do Ministério Público está sujeito às seguintes sanções disciplinares, à **exceção de uma**. Assinale-a.

- (A) Advertência.
- (B) Cassação da disponibilidade remunerada.
- (C) Demissão.
- (D) Exoneração.
- (E) Suspensão.

46

Considerando se a organização do Ministério Público do Mato Grosso do Sul, assinale a afirmativa **incorreta**.

- (A) O Procurador Geral de Justiça poderá ser destituído do mandato por deliberação da maioria absoluta dos membros da Assembleia Legislativa, na forma de seu regimento interno, mediante iniciativa do Colégio de Procuradores de Justiça, em caso de abuso de poder, conduta incompatível com suas atribuições ou grave omissão nos deveres do cargo, ou condenação por infração apenada com reclusão, em decisão judicial transitada em julgado.
- (B) Compete ao Procurador Geral de Justiça solicitar à Ordem dos Advogados do Brasil a indicação de representante para compor a Comissão de Concurso para ingresso na carreira do Ministério Público.
- (C) As Procuradorias de Justiça são órgãos da Administração Superior do Ministério Público, com cargos de Procurador de Justiça e serviços auxiliares necessários ao desempenho das funções que lhe forem cometidas por lei.
- (D) Os Promotores de Justiça Substitutos são os órgãos de execução do Ministério Público que atuam nas Promotorias de Justiça, nos afastamentos ou impedimentos dos respectivos titulares, bem como coadjuvando-os na forma regimental.
- (E) Ao Conselho Superior do Ministério Público compete impetrar *habeas corpus* e mandado de segurança e requerer correição parcial.

47

O Estatuto dos Servidores do Estado de Mato Grosso do Sul disciplina as formas de provimento, vacância, substituição, remoção e redistribuição.

Com base na legislação respectiva, assinale a afirmativa correta.

- (A) A promoção, a reversão e a remoção são formas de provimento de cargos públicos.
- (B) O servidor que não entrar em exercício no prazo que lhe for fixado será colocado em disponibilidade.
- (C) O exercício em cargo efetivo nos casos de reintegração, transferência e remoção, dependerá da prévia satisfação dos requisitos atinentes e à capacidade física e sanidade mental, comprovadas em inspeção médica oficial.
- (D) Os prazos para entrar em exercício no cargo poderão ser ampliados e prorrogados para atender ao interesse da Administração e do servidor.
- (E) A remoção é o deslocamento do funcionário a pedido ou de ofício, com preenchimento de claro de lotação, no âmbito do mesmo quadro, com ou sem mudança de sede.

48

O servidor poderá se ausentar do serviço, sem qualquer prejuízo, nas situações relacionadas a seguir, **à exceção de uma**. Assinale-a.

- (A) até dois dias, para se alistar como eleitor.
- (B) por uma semana, para doação de sangue.
- (C) até oito dias, por motivo de falecimento do cônjuge, companheiro, pais, madrasta ou padrasto, filhos ou enteados e irmãos.
- (D) durante o período em que estiver servindo ao Tribunal do Júri.
- (E) prestação de prova ou exame em curso regular ou em concurso público.

49

No Ministério Público do Mato Grosso do Sul, a avaliação de desempenho será realizada anualmente e terá como objetivo aferir o rendimento, a *performance* e o desenvolvimento do servidor. Na avaliação de desempenho, são considerados, entre outros, os seguintes fatores:

- (A) desempenho e ascensão funcional.
- (B) assiduidade e independência.
- (C) indivisibilidade institucional e cooperação.
- (D) vitaliciedade e eficiência.
- (E) criatividade e eficácia.

50

As alternativas a seguir apresentam hipóteses em que se aplica a pena de demissão ao servidor público do estado do Mato Grosso do Sul, **à exceção de uma**. Assinale-a:

- (A) incontinência pública ou escandalosa.
- (B) exercício de advocacia administrativa.
- (C) desídia no cumprimento do dever.
- (D) reincidência em falta já punida com repreensão.
- (E) aplicação irregular de dinheiro público.

Conhecimentos Específicos

Noções de Administração Pública

51

Leia o fragmento a seguir.

“...abster-se, de forma absoluta, de exercer a função, poder ou autoridade com finalidade estranha ao interesse público, mesmo que observando as formalidades legais e não cometendo qualquer violação expressa à lei;...”.

Esta afirmativa corresponde a

- (A) um direito do Servidor Público.
- (B) uma vedação ao Servidor Público.
- (C) um princípio da Comissão de Ética do Serviço Público.
- (D) a um dever do Servidor Público.
- (E) a uma regra deontológica do código de Ética do Serviço Público.

52

De acordo com a Constituição Federal, a gestão pública deve atuar dentro dos princípios constitucionais. Assinale a afirmativa que contém a combinação de princípios correta.

- (A) Publicidade e Pessoalidade.
- (B) Moralidade e Eficácia.
- (C) Eficácia e Legalidade.
- (D) Pessoalidade e Privacidade.
- (E) Legalidade e Moralidade.

53

“A descentralização em si não é boa nem má, indicável ou contra-indicável. Ela depende das circunstâncias.”

(Chiavenato, I. *Introdução à teoria geral da administração*. Rio de Janeiro: Elsevier, 7ª ed. 2003.)

Com relação às vantagens da descentralização nas organizações, assinale a afirmativa correta.

- (A) A descentralização pode acarretar a falta de informação e de coordenação entre os departamentos envolvidos.
- (B) A descentralização faz com que os tomadores de decisão tenham mais informações sobre a situação.
- (C) A descentralização acarreta maior custo pela exigência de melhor seleção e treinamento dos administradores médios.
- (D) A descentralização permite que as políticas e os procedimentos variem entre os diversos departamentos.
- (E) A descentralização provoca o risco de subobjetivação, em que os administradores defendem mais os objetivos departamentais do que os empresariais.

Noções de Gestão de Pessoas

54

Toda avaliação é um processo de julgar o valor e as qualidades de uma pessoa.

Quando um gestor “... estende uma avaliação positiva ou negativa de uma pessoa para todos os itens da avaliação, sem fazer uma análise adequada de cada um dos fatores separadamente, ou seja, se ele é bom em algo, automaticamente torna-se bom em tudo”, está cometendo o erro de avaliação denominado

- (A) tendência central.
- (B) efeito de recenticidade.
- (C) erro de fadiga.
- (D) efeito halo.
- (E) erro de “primeira impressão”.

55

Leia com atenção o fragmento de texto a seguir.

“O conceito de clima _____ está ligado à satisfação das necessidades dos participantes e pode ser saudável ou doentio, pode ser quente ou frio, negativo ou positivo, satisfatório ou insatisfatório, dependendo de como os _____ se sentem em relação à organização.”

(CHIAVENATO, I. *Gerenciando Pessoas*. 3ª edição. São Paulo: Makron Books, 1994)

Assinale a afirmativa que apresenta os termos que preenchem corretamente as lacunas.

- (A) organizacional e participantes.
- (B) interpessoal e gestores.
- (C) motivacional e alunos.
- (D) estrutural e sócios.
- (E) moral e inferiores.

Noções de Administração de Recursos e Materiais

56

Compras não dependem de valores e julgamentos intuitivos, mas sim de um sistema de gestão capaz de gerar benefícios e lucros para a empresa. É um processo estratégico que merece a atenção dos gestores.

Diante do exposto assinale a afirmativa que indica duas ações que fazem parte do sistema de compras.

- (A) Ação de suprimento e ação de coleta de preço.
- (B) Ação para desenvolvimento de fornecedores e ação de apoio.
- (C) Ação de negociação e ação de apoio.
- (D) Ação de suprimentos e ação de apoio.
- (E) Ação de suprimentos e ação de qualificação de fornecedores.

57

A gestão de recursos patrimoniais é de fundamental importância para uma organização, independente de sua característica pública ou privada. Devido à complexidade e tamanho das organizações, para manter a sustentabilidade econômica, esses recursos podem ser vendidos, trocados ou adquiridos.

De acordo com o exposto, marcas e patentes são recursos patrimoniais

- (A) de risco.
- (B) intangíveis.
- (C) imobilizados.
- (D) permanentes.
- (E) fixos.

Noções de Arquivologia

58

A liberação para consulta pela autoridade competente, no todo ou em parte, de documentos até então sujeitos a restrições de acesso pelo seu teor sigiloso, é denominada

- (A) classificação.
- (B) ostensividade.
- (C) desclassificação.
- (D) revisão.
- (E) *Habeas Data*.

59

“O Guia de Arquivo deve ser o primeiro instrumento de pesquisa a ser elaborado por uma instituição arquivística”.

Com relação a um *Guia de Arquivo*, analise as características a seguir.

- I. Oferece informações básicas sobre o acervo.
- II. Amplia a visibilidade social sobre o acervo.
- III. Pode ser confeccionado em fichas manuais ou informáticas.

Assinale:

- (A) se somente a característica I estiver correta.
- (B) se somente a característica II estiver correta.
- (C) se somente a característica III estiver correta.
- (D) se somente as características I e II estiverem corretas.
- (E) se todas as características estiverem corretas.

60

Assinale a alternativa que apresenta o elemento capaz de sustentar teoricamente a constituição de um fundo arquivístico.

- (A) Tipologia do documento.
- (B) Função do documento.
- (C) Organização do documento.
- (D) Avaliação do documento.
- (E) Importância do documento.

Noções de Direito Constitucional**61**

A competência para legislar sobre direito processual civil é titularizada

- (A) pela União, pelos Estados e Distrito Federal, de forma concorrente.
- (B) pela União, de forma privativa.
- (C) pela União, pelos Estados e Distrito Federal e pelos Municípios, de forma concorrente.
- (D) pela União e pelos Municípios, cabendo competência apenas residual aos Estados.
- (E) pela União e pelos Estados e Distrito Federal, de forma comum.

62

A respeito das competências do Superior Tribunal de Justiça, assinale a afirmativa correta.

- (A) Processar e julgar, nos crimes comuns, os Governadores de Estado.
- (B) Julgar, nas infrações penais comuns, o Vice-Presidente da República.
- (C) Julgar as causas e os conflitos envolvendo dois Estados da Federação.
- (D) Julgar o recurso extraordinário interposto em face de decisão que julgar válida lei local contestada em face de lei federal.
- (E) Julgar as causas entre Estado estrangeiro ou organismo internacional e Município ou pessoa domiciliada ou residente no País.

63

Fulano de Tal teve negado pedido de vista de um processo administrativo referente ao pleito de incorporação de parcelas aos seus vencimentos, que formulara meses antes. Inconformado com a negativa, ajuizou ação de *habeas data*.

Sobre o instituto, e considerando o caso apresentado, assinale a afirmativa correta.

- (A) Destina-se a assegurar o conhecimento de informações relativas à pessoa do impetrante ou de terceiros, constantes de registros ou bancos de dados de entidades governamentais ou de caráter público.
- (B) É o instrumento jurídico adequado a obter vista de processo administrativo, quando tal acesso tenha sido negado ao cidadão.
- (C) Pode ser utilizado por um servidor público para que lhe seja dada vista de sua ficha funcional.
- (D) É uma garantia individual que deixou de ter assento constitucional com a edição da Emenda n. 70/2012, mas mantém previsão na legislação infraconstitucional.
- (E) É o remédio cabível para a anotação nos assentamentos do interessado, de contestação ou explicação sobre dado verdadeiro, mas justificável e que esteja sob pendência judicial ou amigável.

64

A pretexto de regulamentar a chamada “*Lei de Acesso à Informação*” (Lei federal n. 12.527/2011), o Presidente da República edita decreto por meio do qual, expressamente, exclui das mulheres o direito de apresentar pedido de informações a órgãos públicos.

Diante desse Ato Normativo, poderá ser ajuizada(o)

- (A) Ação Direta de Inconstitucionalidade.
- (B) Ação Direta Interventiva.
- (C) Mandado de Segurança.
- (D) *Habeas Data*.
- (E) Arguição de Descumprimento de Preceito Fundamental.

Noções de Direito Administrativo**65**

Pedro, funcionário público, comete grave falta funcional, conceituada como crime na esfera penal, para o qual é instaurado processo administrativo disciplinar.

Considerando a situação acima, assinale a afirmativa correta.

- (A) Considerando que Pedro já havia sido punido anteriormente, deverá, agora, ser-lhe aplicada a pena de exoneração.
- (B) Mesmo inexistindo outras faltas, considerando-se a gravidade da situação, a Administração Pública poderá aplicar a sanção de exoneração.
- (C) Caso constatado o cometimento de falta grave, a exoneração jamais poderá ser aplicada, vez que Pedro deverá ser demitido do serviço público.
- (D) Caso Pedro fosse aposentado, caberia a exoneração mas, não sendo este o caso, Pedro somente poderá ser demitido.
- (E) Caso não conste qualquer outra punição a Pedro, a pena de demissão não poderá ser aplicada.

66

José, dentista em hospital público, realizou concurso público para dentista de outro hospital público, no qual restou aprovado em todas as fases.

Considerando a situação acima e a existência de compatibilidade de horários, assinale a afirmativa correta.

- (A) José não pode acumular os dois cargos em hipótese alguma.
- (B) José não pode acumular, somente poderia se um cargo fosse de dentista e outro de professor.
- (C) José não pode acumular, somente poderia se ambos fossem cargos de professor.
- (D) José não pode acumular, somente poderia se ambos fossem cargos de médico.
- (E) José pode acumular ambos os cargos na hipótese tratada.

67

Com relação às Sociedades de Economia Mista Federais, analise os itens a seguir.

- I. São pessoas jurídicas de direito privado.
- II. Possuem foro privilegiado na Justiça Federal.
- III. Gozam de isenção dos impostos federais, mas não dos Estaduais e Municipais.

Assinale:

- (A) se somente o item I estiver correto.
- (B) se Somente o item II estiver correto.
- (C) se Somente o item III estiver correto.
- (D) se somente os itens I e II estiverem corretos.
- (E) se todos os itens estiverem corretos.

68

Acerca dos contratos administrativos, assinale a afirmativa correta.

- (A) Os contratos administrativos não podem ultrapassar a vigência dos respectivos créditos orçamentários.
- (B) A minuta do futuro contrato não precisa acompanhar os editais de licitação, salvo no caso de concorrências internacionais.
- (C) A Administração Pública poderá aplicar as sanções cabíveis, inclusive a pena de suspensão, mas a rescisão contratual somente poderá ser realizada judicialmente.
- (D) O contrato administrativo deve ser formalizado por escrito, à exceção das pequenas compras para pronto pagamento.
- (E) A prorrogação do prazo contratual é admitida quando há expressa previsão no edital e no contrato firmado, discriminando os prazos e as hipóteses de sua ocorrência.

Noções de Direito Penal

69

A respeito dos crimes praticados por funcionário público contra a Administração em geral, analise as afirmativas a seguir.

- I. O funcionário comete o *crime de peculato* quando se apropria de um bem móvel de que tem a posse em razão do cargo que exerce.
- II. O funcionário comete o *crime de corrupção passiva* quando recebe, direta ou indiretamente, em razão da função que exerce, vantagem indevida.
- III. O funcionário comete o *crime de prevaricação* quando, no exercício da função, retarda, indevidamente, ato de ofício para satisfazer interesses pessoais.

Assinale:

- (A) se apenas a afirmativa I estiver correta.
- (B) se apenas a afirmativa III estiver correta.
- (C) se apenas as afirmativas I e II estiverem corretas.
- (D) se apenas as afirmativas II e III estiverem corretas.
- (E) se todas as afirmativas estiverem corretas.

70

O funcionário que revela fato de que tem ciência em razão do cargo que ocupa, e que deve permanecer em segredo, comete o crime de

- (A) advocacia administrativa.
- (B) violação de sigilo funcional.
- (C) exercício ilegal da função.
- (D) facilitação criminosa.
- (E) extravio de documentação.

Realização

