



Ministério Público do Estado Mato Grosso do Sul
Concurso Público 2012
Auxiliar (Nível Fundamental)

Prova Escrita Objetiva – Manhã

Motorista

TIPO 2 – VERDE

Informações Gerais

- Você receberá do fiscal de sala os materiais descritos a seguir:
 - uma folha de respostas destinada à marcação das respostas das questões objetivas;
 - este caderno de prova contendo **sessenta** questões objetivas, cada qual com **cinco** alternativas de respostas (A, B, C, D e E).
- Verifique se seu caderno está completo, sem repetição de questões ou falhas. Caso contrário, notifique imediatamente o fiscal de sala para que sejam tomadas as devidas providências.
- As questões objetivas são identificadas pelo número situado acima do seu enunciado.
- Ao receber a folha de respostas, você deve:
 - conferir seus dados pessoais, em especial seu nome, número de inscrição e o número do documento de identidade;
 - ler atentamente as instruções para a marcação das respostas das questões objetivas;
 - marcar na folha de respostas o campo relativo à confirmação do tipo/cor de prova, conforme o caderno que você recebeu;
 - assinar seu nome, apenas nos espaços reservados, com caneta esferográfica transparente de cor azul ou preta.
- Durante a aplicação da prova não será permitido:
 - qualquer tipo de comunicação entre os candidatos;
 - levantar da cadeira sem a devida autorização do fiscal de sala;
 - portar aparelhos eletrônicos, tais como *bipe*, telefone celular, agenda eletrônica, *notebook*, *palmtop*, receptor, gravador, máquina de calcular, máquina fotográfica digital, controle de alarme de carro etc., bem como relógio de qualquer espécie, óculos escuros ou quaisquer acessórios de chapelaria, tais como chapéu, boné, gorro etc. e, ainda, lápis, lapiseira (grafite), corretor líquido e/ou borracha. Tal infração poderá acarretar a eliminação sumária do candidato.
- O preenchimento das respostas, de inteira responsabilidade do candidato, deverá ser feito com caneta esferográfica de tinta indelével de cor preta ou azul. Não será permitida a troca da folha de respostas por erro do candidato.
- O tempo disponível para a realização da prova é de **quatro horas**, já incluído o tempo para a marcação da folha de respostas.
- Reserve tempo suficiente para o preenchimento de suas respostas. Para fins de avaliação, serão levadas em consideração apenas as marcações realizadas na folha de respostas, não sendo permitido anotar informações relativas às suas respostas em qualquer outro meio que não seja o próprio caderno de provas.
- Somente após decorridas **duas horas** do início da prova você poderá retirar-se da sala de prova, contudo sem levar o caderno de provas.
- Somente no decorrer dos últimos **sessenta minutos** do período da prova você poderá retirar-se da sala levando o caderno de provas.
- A FGV realizará a coleta da impressão digital dos candidatos nas folhas de respostas.
- Ao terminar a prova, entregue a folha de respostas ao fiscal da sala e deixe o local de prova. Caso você se negue a entregar a folha de respostas, será eliminado do concurso.
- Os candidatos poderão ser submetidos a sistema de detecção de metais quando do ingresso e da saída de sanitários durante a realização das provas. Ao sair da sala, ao término da prova, o candidato não poderá usar o sanitário.
- Os gabaritos preliminares das provas objetivas serão divulgados no dia **04/02/2013**, no endereço eletrônico <http://www.fgv.br/fgvprojetos/concursos/mpms12>.
- O prazo para interposição de recursos contra os gabaritos preliminares será das 0h00min do dia **05/02/2013** até às 23h59min do dia **06/02/2013**, observado o horário oficial, no endereço <http://www.fgv.br/fgvprojetos/concursos/mpms12>, por meio do Sistema Eletrônico de Interposição de Recurso.

Língua Portuguesa

Texto

Problemas de trânsito

O trânsito sempre foi sinônimo de confusão, e tragédias. Agora, infelizmente, às vésperas do final do ano, o número de acidentes e mortes tende a aumentar ainda mais. A má conservação das estradas e a irresponsabilidade de alguns motoristas contribuem para que esse quadro se agrave ainda mais.

Além disso, a cada dia que passa, o número de carros cresce, tornando o trânsito nas grandes cidades ainda mais caótico.

Será preciso muito trabalho e investimento para acabar com os problemas do trânsito brasileiro. Construção de estradas mais seguras, adoção de leis mais enérgicas, investimento em transporte público, ampliação do número de agentes de trânsito e, é claro, a conscientização de motoristas trarão menos dor de cabeça a muita gente.

(Adaptado. www.blogmail.com.br)

01

O texto foi escrito às vésperas do fim do ano porque,

- (A) nessa época, ocorrem muitos acidentes de trânsito.
- (B) nesse momento, produzem-se muitos automóveis no Brasil.
- (C) nessa fase do ano, acontecem poucos acidentes que poderiam ser evitados.
- (D) nesse período, muitos novos motoristas recebem carteira de habilitação.
- (E) antes do ano novo, constroem-se muitas estradas.

02

“O trânsito sempre foi sinônimo de confusão, e tragédias”. Entre as frases apresentadas a seguir, assinale a que está ligada mais à confusão do que à tragédia.

- (A) Morreram cem romeiros em acidentes na Via Dutra.
- (B) Seis membros de uma mesma família perecem em acidente com ônibus.
- (C) Mais de 20 quilômetros de engarrafamento na volta para casa.
- (D) Motorista de caminhão morre ao dormir ao volante.
- (E) Trinta pessoas hospitalizadas após acidente grave em Petrópolis.

03

O texto cita alguns problemas do trânsito na atualidade. Assinale o problema que **não** está citado no texto acima:

- (A) a irresponsabilidade de alguns maus motoristas.
- (B) a falta de investimentos por parte do Governo.
- (C) a falta de tecnologia mais moderna nos veículos.
- (D) o número crescente de veículos nas ruas.
- (E) a má conservação das estradas.

04

“A má conservação das estradas” inclui uma série de problemas de manutenção das rodovias. Assinale a afirmativa que **não** se inclui entre esses problemas.

- (A) O grande número de buracos nas rodovias.
- (B) A falta de placas de sinalização adequadas.
- (C) A reduzida iluminação nos túneis.
- (D) A ausência de faixas claramente pintadas nas ruas.
- (E) O pequeno número de guardas de trânsito nos cruzamentos.

05

A principal razão de haver maior número de mortes no trânsito das grandes cidades ao final do ano é:

- (A) a ingestão de álcool.
- (B) o excesso de trabalho.
- (C) a falta de sinalização.
- (D) o pequeno número de carros.
- (E) a ausência de fiscalização.

06

“Agora, infelizmente, às vésperas do final do ano, o número de acidentes e mortes tende a aumentar ainda mais”. A palavra desse segmento do texto que mostra uma opinião do autor é:

- (A) vésperas.
- (B) infelizmente.
- (C) acidentes.
- (D) mortes.
- (E) número.

07

“A má conservação das estradas e a irresponsabilidade de alguns motoristas contribuem para que esse quadro se agrave ainda mais”. A partir desse segmento do texto, é correto afirmar que

- (A) se houver melhora na conservação das estradas, acabam os acidentes de trânsito.
- (B) se os motoristas se tornarem mais responsáveis, terminam as mortes no trânsito.
- (C) se a situação se agravar ainda mais, poucas pessoas morrerão no trânsito.
- (D) se houver boa conservação e responsabilidade, o número de acidentes diminuirá.
- (E) se não houver conservação das estradas, o número de acidentes continuará o mesmo.

08

“Trânsito” é uma palavra que muda de sentido conforme a sílaba tônica, pois “transito” pertence ao verbo “transitar”. A palavra do texto que está nesse mesmo caso é:

- (A) tragédia
- (B) véspera
- (C) público
- (D) enérgico
- (E) caótico

09

“Será preciso muito trabalho e investimento” Uma outra forma de escrever-se essa mesma frase que produz um erro gramatical é:

- (A) muito trabalho e investimento será preciso.
- (B) muito trabalho será preciso, além de investimento.
- (C) investimento será preciso, além de muito trabalho.
- (D) será preciso investimento, além de muito trabalho.
- (E) será preciso muito trabalho, além de investimento.

10

Assinale a alternativa em que o adjetivo destacado apresenta o substantivo correspondente de forma **inadequada**.

- (A) automobilístico / *automóvel*.
- (B) caótico / *caos*.
- (C) brasileiro / *Brasil*.
- (D) enérgicas / *energia*.
- (E) público / *publicidade*.

11

Agora o número de acidentes tende a aumentar: Essa frase, composta com elementos do texto, foi modificada em função de seu termo inicial ter sido alterado. Assinale a modificação **inadequada**.

- (A) No ano passado o número de acidentes tendeu a aumentar.
- (B) Nos últimos tempos o número de acidentes tem tendido a aumentar.
- (C) Antigamente o número de acidentes tendesse a aumentar.
- (D) Futuramente o número de acidentes tenderá a aumentar.
- (E) Nesta semana o número de acidentes tende a aumentar.

12

Assinale a alternativa em que a correspondência entre substantivo e verbo está **inadequada**.

- (A) “Construção de estradas mais seguras” / Construir estradas mais seguras.
- (B) “adoção de leis mais enérgicas” / adicionar leis mais enérgicas.
- (C) “investimento em transporte público” / investir em transporte público.
- (D) “ampliação do número de agentes de trânsito” / ampliar o número de agentes de trânsito.
- (E) “conscientização de motoristas” / conscientizar os motoristas.

13

“Será preciso muito trabalho e investimento para acabar com os problemas do trânsito brasileiro”. O vocábulo sublinhado pode ser substituído de forma adequada por

- (A) se.
- (B) até.
- (C) quando.
- (D) a fim de.
- (E) após.

14

O texto tem a finalidade de

- (A) indicar soluções para os problemas de trânsito.
- (B) criticar as autoridades da área do trânsito.
- (C) condenar os fabricantes de veículos.
- (D) elogiar as medidas tomadas no final do ano.
- (E) prevenir os motoristas quanto às novas regulamentações.

15

“Além disso, a cada dia que passa, o número de carros cresce...”. A expressão “além disso” tem o significado de

- (A) retificação de um erro anterior.
- (B) explicação de algo que foi dito.
- (C) acréscimo de uma nova informação.
- (D) oposição a uma ideia já expressa.
- (E) comparação com um elemento anterior.

16

Assinale a frase do texto que está ligada ao slogan da Lei Seca.

- (A) “Construção de estradas mais seguras”.
- (B) “adoção de leis mais enérgicas”.
- (C) “investimento em transporte público”.
- (D) “ampliação do número de agentes de trânsito”.
- (E) “conscientização de motoristas”.

17

O slogan “Se beber, não dirija; se dirigir, não beba!” funciona como

- (A) uma ordem enérgica
- (B) um conselho amigo.
- (C) um comunicado autoritário.
- (D) uma informação superficial.
- (E) um aviso urgente.

18

O slogan da Lei Seca é “Se dirigir, não beba; se beber, não dirija!”. Nesse slogan, as frases “se dirigir” e “se beber”, indicam uma

- (A) comparação.
- (B) crítica.
- (C) causa.
- (D) condição.
- (E) consequência.

19

Os europeus dizem que o sinal amarelo, para eles, significa “não verde”, enquanto para os brasileiros significa “não vermelho”.

Com essa observação, os europeus mostram que os motoristas brasileiros são:

- (A) daltônicos.
- (B) responsáveis.
- (C) apressados.
- (D) cuidadosos.
- (E) acomodados.

20


Se colocarmos a frase “Se beber, não dirija” na primeira pessoa do plural (nós), a forma correta dessa frase será

- (A) Se beberam, não dirigiram.
- (B) Se bebermos, não dirigamos.
- (C) Se bebêssemos, não dirigiríamos.
- (D) Se beberes, não dirijas.
- (E) Se bebermos, não dirijam.

Atualidades

21

“Não é o ângulo reto que me atrai, nem a linha reta, dura, inflexível, criada pelo homem. O que me atrai é a curva livre e sensual, que encontro nas montanhas de meu país, no curso sinuoso de seus rios, nas nuvens do céu, no corpo da mulher bonita.” (Oscar Niemeyer)



Com base no texto, assinale a alternativa que indica obras de Oscar Niemeyer.

- (A) I e II.
- (B) I e III.
- (C) II e III.
- (D) II e IV.
- (E) I e IV.

22

Os países europeus relacionados a seguir têm suas economias consideradas de alto risco pelos investidores, à exceção de um. Assinale-o.

- (A) Portugal.
- (B) Espanha.
- (C) Bélgica.
- (D) Itália.
- (E) Grécia.

23

O Protocolo de Quioto (1997) estabeleceu, como medida de preservação do Meio Ambiente,

- (A) os limites de uso da propriedade, para resguardar a vegetação existente.
- (B) a redução das emissões de gases causadores do efeito estufa pelos países desenvolvidos.
- (C) as diretrizes para implantar uma economia verde, baseada no uso inteligente dos recursos naturais.
- (D) a responsabilidade dos países subdesenvolvidos na defesa do desenvolvimento sustentável.
- (E) a ampliação do mar territorial para 200 milhas e a criação de zonas de pesca exclusivas.

24

O Sistema Solar é formado por planetas que giram em torno do Sol. Assinale a alternativa que indica o planeta mais distante do Sol, e que teve sua condição de planeta discutida em 2006.

- (A) Mercúrio
- (B) Júpiter
- (C) Vênus
- (D) Marte
- (E) Plutão

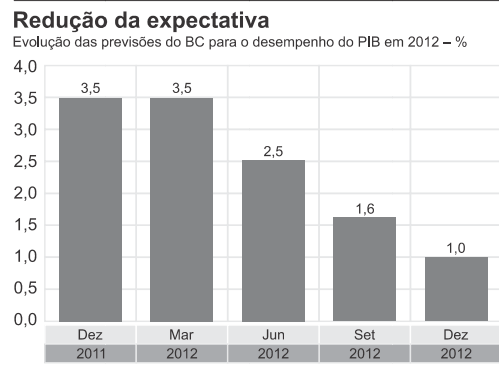
25

O Supremo Tribunal Federal realizou em 2012 o julgamento do crime de corrupção conhecido como

- (A) Escândalo dos Atos Secretos.
- (B) CPI dos Bingos.
- (C) Propinoduto de São Paulo.
- (D) Mensalão.
- (E) Violação do Painel do Senado Federal.

26

“O Banco Central reduziu sua projeção de crescimento da economia brasileira em 2012. O Produto Interno Bruto (PIB) do país crescerá este ano apenas 1%.”



(Revista Valor, 20/12/2012, <http://www.valor.com.br>).

A situação econômica descrita é resultado do decréscimo do seguinte setor produtivo:

- (A) Indústria de transformação.
- (B) Comunicações.
- (C) Agropecuária.
- (D) Construção civil.
- (E) Instituições financeiras.

27

Em relação às atividades econômicas do estado do Mato Grosso do Sul, analise as afirmativas a seguir.

- I. O planalto da bacia do Paraná é ocupado pela agricultura empresarial da soja.
- II. A economia da planície do Pantanal é caracterizada pelo turismo e pela pecuária extensiva de corte.
- III. O desenvolvimento econômico do estado possibilitou a instalação de um polo industrial automobilístico em Três Lagoas.

Assinale:

- (A) se apenas a afirmativa I estiver correta.
- (B) se apenas as afirmativas I e II estiverem corretas.
- (C) se apenas as afirmativas I e III estiverem corretas.
- (D) se apenas as afirmativas II e III estiverem corretas.
- (E) se todas as afirmativas estiverem corretas.

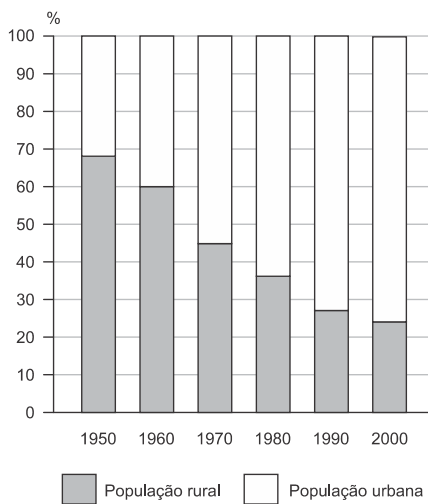
28

A inovação tecnológica realizada pela indústria automobilística brasileira, com o objetivo de enfrentar a alta de preços dos combustíveis fósseis, foi

- (A) o uso do etanol nos motores *flex*.
- (B) o uso do motor elétrico em carros híbridos.
- (C) o uso do motor a hidrogênio.
- (D) o uso do motor a energia solar.
- (E) o uso do biodiesel em carros populares.

29

Brasil: população rural e urbana (1950 – 2000)



(Censos populacionais. IBGE)

As razões do crescimento da população urbana estão relacionadas a seguir, **à exceção de uma**. Assinale-a.

- (A) A manutenção da estrutura de propriedade rural.
- (B) O aumento de empregos devido à industrialização.
- (C) A diferença de qualidade de vida entre campo-cidade.
- (D) O processo de modernização da agricultura.
- (E) O aumento da taxa de fecundidade na área urbana.

30

Com relação à “nova” Lei Seca, analise as afirmativas a seguir.

- I. O motorista será punido se dirigir com sua capacidade psicomotora alterada por álcool.
- II. As provas válidas para caracterizar o ilícito são as obtidas somente pelo bafômetro.
- III. O valor da multa, para quem praticar o ilícito, foi elevado para R\$ 1.915,40.

Assinale:

- (A) se somente a afirmativa I estiver correta.
- (B) se somente a afirmativa II estiver correta.
- (C) se somente as afirmativas I e III estiverem corretas.
- (D) se somente as afirmativas II e III estiverem corretas.
- (E) se todas as afirmativas estiverem corretas.

Legislação Institucional

31

As infrações disciplinares que podem ser praticadas por membro do Ministério Público estão relacionadas a seguir, **à exceção de uma**. Assinale-a.

- (A) Exercer o comércio ou participar de sociedade comercial, exceto como cotista ou acionista.
- (B) Assistir aos atos judiciais, quando conveniente a sua presença.
- (C) Declarar-se suspeito, nos termos da lei.
- (D) Desobediência às determinações dos órgãos da Administração Superior
- (E) Se titular, não residir na comarca.

32

De acordo com a legislação estadual referente ao serviço público de Mato Grosso do Sul, as alternativas abaixo são hipóteses de que decorrem vacância do cargo público, **à exceção de uma**. Assinale-a.

- (A) Falecimento.
- (B) Exoneração.
- (C) Aposentadoria.
- (D) Readaptação.
- (E) Reversão.

33

O Estatuto dos servidores do estado do Mato Grosso do Sul prevê a aplicação de penalidades, com o respectivo procedimento.

A esse respeito, assinale a afirmativa correta.

- (A) A pena de repreensão será aplicada oralmente, nos casos de falta grave.
- (B) A pena de suspensão será aplicada em caso de indisciplina.
- (C) A pena de multa será aplicada em caso de aplicação indevida de dinheiro público.
- (D) A abertura de sindicância interrompe a prescrição.
- (E) O servidor suspenso manterá as vantagens e direitos decorrentes do exercício do cargo.

34

Assinale a alternativa que indica a prerrogativa de um membro do Ministério Público.

- (A) Receber, a qualquer título e sob qualquer pretexto, percentagens ou custas processuais.
- (B) Exercer advocacia pública, sem cobrança de honorários e em defesa de hipossuficientes.
- (C) Ser ouvido como testemunha, em local, hora e dia assinalados pela autoridade judicial.
- (D) Exercer qualquer outra função pública, inclusive a de magistério, desde que em disponibilidade.
- (E) Ingressar e transitar livremente em delegacias de polícia e estabelecimento de internação coletiva.

35

Poderão ser atribuídos ao servidor do Ministério Público do Mato Grosso do Sul os adicionais listados a seguir, **à exceção de um**. Assinale-o.

- (A) Adicional de férias.
- (B) Adicional de qualificação.
- (C) Adicional por tempo de serviço.
- (D) Adicional de assiduidade.
- (E) Adicional de plantão.

36

Com relação ao vencimento e à remuneração do servidor, de acordo com a Legislação em vigor, analise as afirmativas a seguir.

- I. Remuneração é o vencimento do cargo efetivo, acrescido das vantagens permanentes e temporárias.
- II. A retribuição pelo efetivo exercício de cargo público é denominada vencimento.
- III. O servidor ativo ou inativo não poderá receber, mensalmente, valor inferior ao salário mínimo.

Assinale:

- (A) se somente a afirmativa I estiver correta.
- (B) se somente a afirmativa II estiver correta.
- (C) se somente a afirmativa III estiver correta.
- (D) se somente as afirmativas I e II estiverem corretas.
- (E) se todas as afirmativas estiverem corretas.

37

De acordo com o Art. 12 da Lei n. 4.134/11, será realizada anualmente a avaliação de desempenho com a finalidade de aferir o rendimento, a *performance* e o desenvolvimento do servidor.

Para esta avaliação, entre outros, será considerado o seguinte fator:

- (A) a ascensão funcional.
- (B) a independência política.
- (C) a opção religiosa.
- (D) a criatividade funcional.
- (E) vitaliciedade no cargo.

38

De acordo com o Art. 218 da Lei n. 1.102/90, alguns deveres do funcionário efetivo estão relacionados a seguir, **à exceção de um**. Assinale-o.

- (A) Ser assíduo e pontual.
- (B) Guardar sigilo sobre as irregularidades de que tiver conhecimento.
- (C) Tratar com urbanidade os companheiros de serviço.
- (D) Apresentar-se convenientemente uniformizado quando for o caso.
- (E) Desempenhar com presteza os trabalhos de que for incumbido.

39

Um servidor efetivo foi escalado pela chefia imediata, para prestar serviço no plantão permanente da Promotoria de Justiça.

Segundo o Art. 37 da Lei n. 4.134/11, este servidor fará *jus* ao adicional de

- (A) plantão.
- (B) qualificação.
- (C) permanência.
- (D) desempenho.
- (E) penosidade.

40

Com relação ao adicional por tempo de serviço, de acordo com o Art. 33 da Lei n. 4.134/11, assinale a afirmativa **incorreta**.

- (A) Será devido por quinquênio de efetivo exercício prestado ao Estado.
- (B) Incidirá sobre o vencimento-base do cargo efetivo.
- (C) Será de 10% o adicional correspondente ao primeiro quinquênio.
- (D) Será devido a partir do mês subsequente ao dia em que o servidor completar o quinquênio.
- (E) Será devido por triênio sobre a respectiva remuneração.

Conhecimentos Específicos

41

As alternativas a seguir apresentam corretamente velocidades máximas em vias nas quais não existe sinalização regulamentadora, **à exceção de uma**. Assinale-a.

- (A) 80 km/h nas vias urbanas de trânsito rápido.
- (B) 60 km/h nas vias urbanas arteriais.
- (C) 100 km/h para automóveis nas rodovias.
- (D) 90 km/h para ônibus nas rodovias.
- (E) 60 km/h nas estradas.

42

A ultrapassagem de outro veículo em movimento deverá ser feita pela _____, obedecida a sinalização regulamentar e as demais normas estabelecidas no Código de Trânsito Brasileiro, _____ quando o veículo a ser ultrapassado estiver sinalizando o propósito de entrar à _____.

As lacunas são preenchidas respectivamente por:

- (A) esquerda / exceto / esquerda
- (B) direita / notadamente / direita
- (C) esquerda / exceto / direita
- (D) direita / exceto / direita
- (E) esquerda / notadamente / esquerda

43

Em relação às normas gerais de circulação e conduta, avalie as afirmativas a seguir.

- I. Os usuários das vias terrestres devem abster-se de todo ato que possa constituir perigo ou obstáculo para o trânsito de veículos, de pessoas ou de animais.
- II. Os usuários das vias terrestres podem obstruir o trânsito ou torná-lo perigoso, atirando ou abandonando na via objetos ou substâncias.
- III. Antes de colocar o veículo em circulação nas vias públicas, o condutor deve verificar a existência e as boas condições de funcionamento dos equipamentos de uso obrigatório.

Assinale:

- (A) se apenas a afirmativa I estiver correta.
- (B) se apenas as afirmativas I e II estiverem corretas.
- (C) se apenas as afirmativas I e III estiverem corretas.
- (D) se apenas as afirmativas II e III estiverem corretas.
- (E) se todas as afirmativas estiverem corretas.

44

A respeito do uso de luzes em veículos, analise as determinações a seguir.

- I. Nos túneis providos de iluminação pública, o condutor deve manter os faróis do veículo em luz baixa, seja durante a noite, seja durante o dia.
- II. A troca de luz baixa e alta, de forma intermitente e por curto período de tempo, com o objetivo de advertir outros motoristas, só pode ser usada para indicar a intenção de ultrapassar o veículo que segue à frente ou para indicar a existência de risco à segurança para os veículos que circulem no sentido contrário.
- III. O condutor deve manter acesas pelo menos as luzes de posição do veículo quando sob chuva forte, neblina ou cerração.

Assinale

- (A) se apenas a determinação II estiver correta.
- (B) se apenas as determinações II e III estiverem corretas.
- (C) se apenas as determinações I e II estiverem corretas.
- (D) se apenas as determinações I e III estiverem corretas.
- (E) se todas as determinações estiverem corretas.

45

As normas descritas a seguir estão corretas, **à exceção de uma**. Assinale-a.

- (A) Antes de efetuar uma ultrapassagem, o condutor deve certificar-se de que nenhum condutor que venha atrás já tenha iniciado uma manobra para ultrapassá-lo.
- (B) Antes de efetuar uma ultrapassagem, o condutor deve certificar-se de que quem o precede na mesma faixa de trânsito não haja indicado o propósito de ultrapassar um terceiro.
- (C) Ao efetuar a ultrapassagem, o condutor deve afastar-se do usuário ou usuários aos quais ultrapassa, de tal forma que deixe livre uma distância lateral de segurança.
- (D) Ao efetuar a ultrapassagem, o condutor não deve indicar com antecedência a manobra pretendida, para evitar que o condutor do veículo a ser ultrapassado faça uma manobra que impeça a ultrapassagem.
- (E) Após efetuar a ultrapassagem, o condutor deve retomar a faixa de trânsito de origem, acionando a luz indicadora de direção do veículo, adotando os cuidados necessários para não pôr em perigo ou obstruir o trânsito dos veículos que ultrapassou.

46

As infrações descritas a seguir são consideradas gravíssimas, à exceção de uma. Assinale-a.

- (A) Dirigir veículo sem possuir Carteira Nacional de Habilitação ou Permissão para Dirigir.
- (B) Dirigir veículo com Carteira Nacional de Habilitação ou Permissão para Dirigir de categoria diferente da do veículo que esteja conduzindo.
- (C) Dirigir veículo com a validade da Carteira Nacional de Habilitação vencida há mais de trinta dias.
- (D) Dirigir veículo sem usar o cinto de segurança.
- (E) Dirigir veículo sem usar lentes corretoras de visão impostas por ocasião da concessão ou da renovação da licença para conduzir.

47

Em relação à sinalização de trânsito, analise as prevalências a seguir.

- I. As ordens do agente de trânsito prevalecem sobre as normas de circulação e outros sinais.
- II. As indicações do semáforo prevalecem sobre os demais sinais.
- III. As indicações dos sinais prevalecem sobre as demais normas de trânsito.

Assinale:

- (A) se apenas a prevalência I estiver correta.
- (B) se apenas a prevalência II estiver correta.
- (C) se apenas as prevalências I e III estiverem corretas.
- (D) se apenas as prevalências II e III estiverem corretas.
- (E) se todas as prevalências estiverem corretas.

48

Dirigir ameaçando os pedestres que estejam atravessando a via pública ou os demais veículos, é

- (A) infração gravíssima, com pena de multa e cassação definitiva do direito de dirigir e retenção do veículo.
- (B) infração gravíssima, com pena de multa e suspensão do direito de dirigir, retenção do veículo e recolhimento do documento de habilitação.
- (C) infração gravíssima, com pena de multa e retenção do veículo.
- (D) infração grave, com pena de multa e retenção do veículo.
- (E) infração grave, com pena de multa e recolhimento do documento de habilitação.

49

Dirigir sob a influência de álcool ou de qualquer outra substância psicoativa que determine dependência é infração _____ cuja penalidade é _____.

As lacunas são corretamente preenchidas respectivamente por:

- (A) gravíssima / multa (dez vezes) e suspensão do direito de dirigir por 12 (doze) meses
- (B) gravíssima / multa (dez vezes) e suspensão do direito de dirigir por 6 (seis) meses
- (C) gravíssima / multa (cinco vezes)
- (D) grave / multa (cinco vezes)
- (E) grave / multa (três vezes)

50

O sinal acima, em suas cores usuais, significa

- (A) alfândega.
- (B) passagem obrigatória.
- (C) dê a preferência.
- (D) siga em frente.
- (E) peso máximo admitido.

51

Dirigir o veículo com o braço do lado de fora é infração _____ cuja penalidade é _____.

As lacunas ficam corretamente preenchidas respectivamente por:

- (A) leve / multa
- (B) média / multa
- (C) média / multa e apreensão do veículo
- (D) grave / multa
- (E) grave / multa e apreensão do veículo

52

O sinal acima, em suas cores usuais, significa

- (A) estreitamento de pista à direita.
- (B) estreitamento de pista à esquerda.
- (C) alargamento de pista à esquerda.
- (D) alargamento de pista à direita.
- (E) estreitamento de pista ao centro.

53

O sinal acima, em suas cores usuais, significa

- (A) peso bruto total máximo permitido.
- (B) peso máximo permitido por eixo.
- (C) altura máxima permitida.
- (D) comprimento máximo permitido.
- (E) distância de segurança.

Realização

