

Prova Escrita Objetiva – Nível Superior

Pedagogo

TIPO 1 – BRANCA

Informações Gerais

- Você receberá do fiscal de sala:
 - uma folha de respostas destinada à marcação das respostas das questões objetivas;
 - esse caderno de prova contendo **80 (oitenta)** questões objetivas, cada qual com **cinco** alternativas de respostas (A, B, C, D e E).
- Verifique se seu caderno está completo, sem repetição de questões ou falhas. Caso contrário, notifique imediatamente o fiscal de sala para que sejam tomadas as devidas providências.
- As questões objetivas são identificadas pelo número situado acima do seu enunciado.
- Ao receber as folhas de respostas da prova objetiva você deve:
 - conferir seus dados pessoais, em especial seu nome, número de inscrição e o número do documento de identidade;
 - ler atentamente as instruções para o preenchimento da folha de respostas;
 - marcar nas folhas de respostas da prova objetiva o campo relativo à confirmação do tipo/cor de prova, conforme o caderno que você recebeu;
 - assinar seu nome, apenas nos espaços reservados, com caneta esferográfica de tinta azul ou preta.
- Durante a aplicação da prova não será permitido:
 - qualquer tipo de comunicação entre os candidatos;
 - levantar da cadeira sem a devida autorização do fiscal de sala;
 - portar aparelhos eletrônicos, tais como *bipe*, telefone celular, agenda eletrônica, *notebook*, *palmtop*, receptor, gravador, máquina de calcular, máquina fotográfica digital, controle de alarme de carro etc., bem como relógio de qualquer modelo, óculos escuros ou quaisquer acessórios de chapelaria, tais como chapéu, boné, gorro etc. e, ainda, lápis, lapiseira (grafite), corretor líquido e/ou borracha. Tal infração poderá acarretar a eliminação sumária do candidato.
 - O preenchimento das respostas da prova objetiva, de inteira responsabilidade do candidato, deverá ser feito com caneta esferográfica de tinta indelével de cor preta ou azul. **Não será permitida a troca da folha de respostas por erro do candidato.**
 - O tempo disponível para a realização da prova é de **5 (cinco)** horas, já incluído o tempo para a marcação da folha de respostas da prova objetiva.
 - Reserve tempo suficiente para o preenchimento de suas respostas. Para fins de avaliação, serão levadas em consideração apenas as marcações realizadas nas folhas de respostas da prova objetiva, não sendo permitido anotar informações relativas às suas respostas em qualquer outro meio que não seja o próprio caderno de provas.
 - Somente após decorridas **duas horas** do início da prova você poderá retirar-se da sala de prova, contudo sem levar o caderno de provas.
 - Somente no decorrer dos últimos **sessenta minutos** do período da prova, você poderá retirar-se da sala levando o caderno de provas.
 - Ao terminar a prova, entregue a folha de respostas ao fiscal da sala e deixe o local de prova. Caso você se negue a entregar, será eliminado do concurso.
 - A FGV realizará a coleta da impressão digital dos candidatos na folha de respostas.
 - Os candidatos poderão ser submetidos a sistema de detecção de metais quando do ingresso e da saída de sanitários durante a realização das provas. Ao sair da sala, ao término da prova, o candidato não poderá usar o sanitário.
 - Os gabaritos preliminares das provas objetivas serão divulgados no dia **12/11/2013**, no endereço eletrônico www.fgv.br/fgvprojetos/concursos/conder.
 - O prazo para interposição de recursos contra os gabaritos preliminares será das 0h00min do dia **13/11/2013** até às 23h59min do dia **14/11/2013**, observado o horário oficial, no endereço www.fgv.br/fgvprojetos/concursos/conder, por meio do Sistema Eletrônico de Interposição de Recurso.

Língua Portuguesa

Tecnologia

Para começar, ele nos olha na cara. Não é como a máquina de escrever, que a gente olha de cima, com superioridade. Com ele é olho no olho ou tela no olho. Ele nos desafia. Parece estar dizendo: vamos lá, seu desprezível pré-eletrônico, mostre o que você sabe fazer. A máquina de escrever faz tudo que você manda, mesmo que seja a tapa. Com o computador é diferente. Você faz tudo que ele manda. Ou precisa fazer tudo ao modo dele, senão ele não aceita. Simplesmente ignora você. Mas se apenas ignorasse ainda seria suportável. Ele responde. Repreende. Corrige. Uma tela vazia, muda, nenhuma reação aos nossos comandos digitais, tudo bem. Quer dizer, você se sente como aquele cara que cantou a secretária eletrônica. É um vexame privado. Mas quando você o manda fazer alguma coisa, mas manda errado, ele diz “Errado”. Não diz “Burro”, mas está implícito. É pior, muito pior. Às vezes, quando a gente erra, ele faz “bip”. Assim, para todo mundo ouvir. Comecei a usar o computador na redação do jornal e volta e meia errava. E lá vinha ele: “Bip!” “Olha aqui, pessoal: ele errou.” “O burro errou!”

Outra coisa: ele é mais inteligente que você. Sabe muito mais coisa e não tem nenhum pudor em dizer que sabe. Esse negócio de que qualquer máquina só é tão inteligente quanto quem a usa não vale com ele. Está subentendido, nas suas relações com o computador, que você jamais aproveitará metade das coisas que ele tem para oferecer. Que ele só desenvolverá todo o seu potencial quando outro igual a ele o estiver programando. A máquina de escrever podia ter recursos que você nunca usaria, mas não tinha a mesma empáfia, o mesmo ar de quem só aguentava os humanos por falta de coisa melhor, no momento. E a máquina, mesmo nos seus instantes de maior impaciência conosco, jamais faria “bip” em público.

Dito isto, é preciso dizer também que quem provou pela primeira vez suas letrinhas dificilmente voltará à máquina de escrever sem a sensação de que está desembarcando de uma Mercedes e voltando à carroça. Está certo, jamais teremos com ele a mesma confortável cumplicidade que tínhamos com a velha máquina. É outro tipo de relacionamento, mais formal e exigente. Mas é fascinante. Agora compreendo o entusiasmo de gente como Millôr Fernandes e Fernando Sabino, que dividem a sua vida profissional em antes dele e depois dele. Sinto falta do papel e da fiel Bic, sempre pronta a inserir entre uma linha e outra a palavra que faltou na hora, e que nele foi substituída por um botão, que, além de mais rápido, jamais nos sujará os dedos, mas acho que estou sucumbindo. Sei que nunca seremos íntimos, mesmo porque ele não ia querer se rebaixar a ser meu amigo, mas retiro tudo o que pensei sobre ele. Claro que você pode concluir que eu só estou querendo agradá-lo, precavidamente, mas juro que é sincero.

Quando saí da redação do jornal depois de usar o computador pela primeira vez, cheguei em casa e bati na minha máquina. Sabendo que ela aguentaria sem reclamar, como sempre, a pobrezinha.

(VERÍSSIMO, Luis Fernando. *O Globo*)

01

Sobre o título dado à crônica – *Tecnologia* – é correto observar que

- (A) restringe-se ao emprego do computador como exemplo da nova tecnologia.
- (B) aborda o tema tecnologia sob o ponto de vista negativo.
- (C) critica a pressa na adoção de novos aparelhos, sem sempre benéficos.
- (D) considera a velha tecnologia como superior à nova.
- (E) trata o tema como uma grande contribuição da ciência para o homem.

02

Nas alternativas a seguir, à exceção de uma, o autor humaniza o computador. Assinale-a.

- (A) “Para começar, ele nos olha na cara”.
- (B) “Com o computador é diferente. Você faz tudo que ele manda”.
- (C) “Simplesmente ignora você”.
- (D) “Sabe muito mais coisa e não tem nenhum pudor em dizer que sabe”.
- (E) “Está certo, jamais teremos com ele a mesma confortável cumplicidade que tínhamos com a velha máquina”.

03

“Com ele é olho no olho ou tela no olho”. Em termos de construção textual, vemos que, nesse pequeno fragmento, o cronista

- (A) retifica um erro que cometeu.
- (B) contraria algo dito antes.
- (C) repara uma expressão figurada.
- (D) explica algo confuso expresso anteriormente.
- (E) esclarece uma expressão incoerente.

04

No final do texto, o cronista escreve: “...cheguei em casa e bati na minha máquina”.

O humor desse segmento deriva

- (A) da polissemia do verbo “bater”.
- (B) da falta de coerência da ação do cronista.
- (C) da semelhança entre a máquina e a mulher.
- (D) do emprego do possessivo “minha” em relação à máquina.
- (E) do fato de haver uma reação inesperada do cronista.

05

A norma culta é respeitada nas frases a seguir, à exceção de uma. Assinale-a.

- (A) “Quando saí da redação do jornal depois de usar o computador pela primeira vez, cheguei em casa e bati na minha máquina”.
- (B) “Sabendo que ela aguentaria sem reclamar, como sempre, a pobrezinha”.
- (C) “Outra coisa: ele é mais inteligente que você”.
- (D) “Sabe muito mais coisa e não tem nenhum pudor em dizer que sabe”.
- (E) “Esse negócio de que qualquer máquina só é tão inteligente quanto quem a usa não vale com ele”.

06

Leia o trecho a seguir.

“Sei que nunca seremos íntimos, mesmo porque ele não ia querer se rebaixar a ser meu amigo, mas retiro tudo o que pensei sobre ele”.

Assinale a alternativa que apresenta o fragmento coerente com o trecho acima.

- (A) “Para começar, ele nos olha na cara. Não é como a máquina de escrever, que a gente olha de cima, com superioridade”.
- (B) “Com ele é olho no olho ou tela no olho. Ele nos desafia”.
- (C) “Parece estar dizendo: vamos lá, seu desprezível pré-eletrônico, mostre o que você sabe fazer”.
- (D) “Com o computador é diferente. Você faz tudo que ele manda. Ou precisa fazer tudo ao modo dele, senão ele não aceita”.
- (E) “Às vezes, quando a gente erra, ele faz ‘bip’”.

07

Assinale a alternativa em que os dois termos sublinhados possuem o mesmo valor semântico e gramatical.

- (A) “Outra coisa: ele é mais inteligente que você. Sabe muito mais coisa e não tem nenhum pudor em dizer que sabe”.
- (B) “Está subentendido, nas suas relações com o computador, que você jamais aproveitará metade das coisas que ele tem para oferecer”.
- (C) “A máquina de escrever podia ter recursos que você nunca usaria, mas não tinha a mesma empáfia, o mesmo ar de quem só aguentava os humanos por falta de coisa melhor, no momento. E a máquina, mesmo nos seus instantes de maior impaciência conosco, jamais faria ‘bip’ em público”.
- (D) “Está certo, jamais teremos com ele a mesma confortável cumplicidade que tínhamos com a velha máquina”.
- (E) “Sinto falta do papel e da fiel Bic, sempre pronta a inserir entre uma linha e outra a palavra que faltou na hora, e que nele foi substituída por um botão...”.

08

Assinale a alternativa em que a troca de posição dos elementos altera seu significado.

- (A) Confortável simplicidade.
- (B) Velha máquina.
- (C) Desprezível pré-eletrônico.
- (D) Vexame privado.
- (E) Nenhuma reação.

09

“Dito isto, é preciso dizer também que quem provou pela primeira vez suas letrinhas dificilmente voltará à máquina de escrever sem a sensação de que está desembarcando de uma Mercedes e voltando à carroça. Está certo, jamais teremos com ele a mesma confortável cumplicidade que tínhamos com a velha máquina”.

Assinale a alternativa inadequada em relação a um componente desse segmento do texto.

- (A) A expressão “Dito isto” se refere a algo dito anteriormente.
- (B) O diminutivo “letrinhas” mostra o sentido depreciativo do diminutivo.
- (C) “Mercedes” e “carroça” funcionam como antônimos no segmento do texto.
- (D) “Está certo” mostra uma concordância do cronista.
- (E) “Teremos” e “tínhamos” mostram dois tempos diferentes.

10

“Sinto falta do papel e da fiel Bic, sempre pronta a inserir entre uma linha e outra a palavra que faltou na hora...”.

Assinale a alternativa em que a substituição da forma reduzida sublinhada foi feita de forma adequada.

- (A) que se inserta.
- (B) que se insere.
- (C) que se insira.
- (D) que se enserisse.
- (E) que se insertasse.

11

“Sinto falta do papel e da fiel Bic, sempre pronta a inserir entre uma linha e outra a palavra que faltou na hora, e que nele foi substituída por um botão, que, além de mais rápido, jamais nos sujará os dedos, mas acho que estou sucumbindo”.

Com esse segmento o autor mostra que ele

- (A) continuará a preferir os antigos aparelhos de escrita.
- (B) prefere o computador em função da higiene.
- (C) está reconhecendo as vantagens oferecidas pelo computador.
- (D) reconhece na máquina de escrever algumas vantagens técnicas.
- (E) desistiu há muito tempo de escrever na máquina.

12

“Sinto falta do papel e da fiel Bic”

Nesse segmento, o cronista emprega o nome de uma marca em lugar de “caneta esferográfica”, caracterizando uma figura de linguagem denominada

- (A) metáfora.
- (B) hipérbole.
- (C) eufemismo.
- (D) metonímia.
- (E) antítese.

13

As alternativas a seguir servem de exemplos da intromissão da língua falada na língua escrita, à exceção de uma. Assinale-a.

- (A) “Quando saí da redação do jornal depois de usar o computador pela primeira vez, cheguei em casa e bati na minha máquina”.
- (B) “Sabendo que ela aguentaria sem reclamar, como sempre, a pobrezinha”.
- (C) “Claro que você pode concluir que eu só estou querendo agradá-lo, precavidamente, mas juro que é sincero”.
- (D) “Está certo, jamais teremos com ele a mesma confortável cumplicidade que tínhamos com a velha máquina”.
- (E) “Outra coisa: ele é mais inteligente que você”.

14

“E a máquina, mesmo nos seus instantes de maior impaciência conosco, jamais faria ‘bip’ em público”. Com esse segmento do texto, o autor quer referir-se a uma característica da máquina, que é a de

- (A) não denunciar os erros do usuário publicamente.
- (B) não produzir barulho algum, de tipo eletrônico.
- (C) consertar os erros cometidos discretamente.
- (D) reproduzir exatamente erros e acertos do usuário.
- (E) demonstrar absoluta calma em seu trabalho.

15

“Parece estar dizendo: vamos lá, seu desprezível pré-eletrônico, mostre o que você sabe fazer”.

Sobre os elementos desse segmento, assinale a alternativa que indica um comentário **inadequado**.

- (A) Ao afirmar que a máquina “parece estar dizendo”, o autor evita o emprego da linguagem figurada denominada personificação.
- (B) A expressão “vamos lá” indica um incentivo à mudança.
- (C) Ao designar o cronista como “pré-eletrônico”, o computador quer mostrar o anacronismo do usuário.
- (D) A utilização de “seu” em lugar de “senhor” indica a falta de conhecimento da norma culta por parte do computador.
- (E) Ao desafiá-lo a mostrar o que ele sabe fazer, o computador pretende, na verdade, humilhá-lo.

16

“O jornal russo ‘Izvestia’ informou nesta quinta-feira que o Serviço Federal de Proteção do país comprou 20 máquinas de escrever para evitar que informações sigilosas vazem por meios eletrônicos. Segundo o diário, a medida foi tomada após a revelação do esquema de espionagem dos Estados Unidos, em junho”.

Nesse caso, a informação

- (A) dá razão ao cronista, quanto às vantagens da máquina de escrever.
- (B) mostra a causa e a consequência da decisão de comprar máquinas.
- (C) contribui para o atraso tecnológico da Rússia.
- (D) indica uma vantagem do uso de máquinas de escrever.
- (E) demonstra que a moderna tecnologia não é durável.

17

“Agora compreendo o entusiasmo de gente como Millôr Fernandes e Fernando Sabino, que dividem a sua vida profissional em antes dele e depois dele”.

Esse segmento do texto tem a função de

- (A) mostrar a importância do computador para a literatura moderna.
- (B) indicar a diferença entre autores cultos e populares.
- (C) demonstrar que autores importantes já aderiram ao computador.
- (D) comprovar a necessidade do uso do computador para textos rápidos.
- (E) informar ao leitor sobre as vantagens da computação.

18

“Agora compreendo o entusiasmo de gente como Millôr Fernandes e Fernando Sabino, que dividem a sua vida profissional em antes dele e depois dele”.

Nesse segmento, cinco termos estabelecem a coesão textual.

Assinale a alternativa em que a referência coesiva é adequada.

- (A) “Gente” se refere a termos futuros da progressão textual.
- (B) O pronome relativo “que” se refere a Fernando Sabino.
- (C) O possessivo “sua” se refere a “Fernando Sabino”.
- (D) Os dois pronomes “ele” não se referem ao mesmo antecedente.
- (E) Todos os termos coesivos de referem a termos anteriormente expressos.

19

A crônica de Veríssimo pode ser definida como

- (A) uma narrativa curta de cunho pessoal.
- (B) um depoimento sobre o choque entre velhos e novos hábitos.
- (C) uma argumentação em defesa do computador.
- (D) uma descrição das vantagens das máquinas de escrever.
- (E) uma exposição de motivos técnicos para a adoção da nova tecnologia.

20

Observe a charge a seguir.



A charge, em seus elementos visuais, mostra

- (A) o fim da imprensa escrita.
- (B) uma homenagem à máquina de escrever.
- (C) uma condenação dos velhos pelo mercado de trabalho.
- (D) o monopólio da informação pelos jornais.
- (E) a condenação da palavra como veículo de conhecimento.

Raciocínio Lógico-matemático

21

Nove amigos vão marcar um encontro.

Três deles moram em Feira de Santana e os outros seis moram em Salvador e todos irão ao encontro, individualmente, em seus próprios carros.

Eles desejam escolher um local E para o encontro de modo que a média aritmética das distâncias percorridas por cada um deles desde o local onde moram até o local do encontro seja a menor possível.

Despreze as distâncias percorridas dentro de cada uma das duas cidades e represente por D a distância rodoviária, em quilômetros, entre Salvador e Feira de Santana.

O local do encontro deve ser

- (A) em Salvador.
- (B) em Feira de Santana.
- (C) no meio do caminho entre Salvador e Feira de Santana.
- (D) no caminho entre Salvador e Feira de Santana, a uma distância $D/3$ de Salvador.
- (E) no caminho entre Salvador e Feira de Santana, a uma distância $D/3$ de Feira de Santana.

22

Solange afirmou: “*Se é domingo e faz sol então eu vou à praia*”.

O cenário para o qual a afirmativa de Solange é falsa é

- (A) sábado, chove e Solange foi à praia.
- (B) domingo, chove e Solange foi à praia.
- (C) sábado, faz sol e Solange foi à praia.
- (D) domingo, faz sol e Solange não foi à praia.
- (E) sábado, faz sol e Solange não foi à praia.

23

Marcelo fez uma compra com cartão de crédito e não conseguiu pagá-la na data de vencimento, quando recebeu a fatura correspondente. Pagou apenas no mês seguinte com juros de 10% sobre o valor da compra.

Sabendo que Marcelo pagou R\$ 258,50, o valor da compra foi

- (A) R\$ 230,50.
- (B) R\$ 232,65.
- (C) R\$ 235,00.
- (D) R\$ 238,00.
- (E) R\$ 238,50.

24

O número de maneiras diferentes de se colocar as letras da sigla CONDER em fila, de modo que a fila comece por uma vogal, é

- (A) 240.
- (B) 120.
- (C) 96.
- (D) 72.
- (E) 60.

25

Dois urnas contêm cinco bolas cada uma. Uma delas contém duas bolas brancas e três pretas e a outra contém três bolas brancas e duas pretas.

Retiram-se, aleatoriamente, uma bola de cada urna.

A probabilidade de uma das duas bolas retiradas ser branca e a outra ser preta é de

- (A) $\frac{1}{2}$
- (B) $\frac{1}{5}$
- (C) $\frac{6}{25}$
- (D) $\frac{12}{25}$
- (E) $\frac{13}{25}$

26

Em um jogo de tabuleiro, há 80 peças das quais 35 são verdes e as demais são amarelas. As peças são todas triangulares ou quadrangulares. Entre as peças verdes, 17 são triangulares e, entre as peças amarelas, a quantidade de peças quadrangulares é o dobro da quantidade de peças triangulares.

A quantidade total de peças quadrangulares é

- (A) 15.
- (B) 18.
- (C) 32.
- (D) 45.
- (E) 48.

27

Considere a sequência infinita de pontos no plano cartesiano

$(0,0), (0,1), (2,1), (2,-2), (-2,-2), (-2,3), (4,3), (4,-4), (-4,-4), (-4,5), \dots$

obtida a partir da origem e obedecendo sempre o seguinte padrão de movimentos: uma unidade no sentido norte, duas unidades no sentido leste, três unidades no sentido sul, quatro unidades no sentido oeste, cinco unidades no sentido norte, e assim sucessivamente aumentando uma unidade em cada deslocamento e girando no sentido horário (norte, leste, sul, oeste, norte, ...).

O 2013º ponto dessa sequência é

- (A) $(1005, -1006)$.
- (B) $(-1006, -1006)$.
- (C) $(-1006, 1007)$.
- (D) $(1008, 1007)$.
- (E) $(1008, -1008)$.

28

Em uma pesquisa de mercado para o lançamento de uma nova marca de sucos, setenta pessoas foram entrevistadas e deviam responder se gostavam dos sabores graviola e açaí. Trinta pessoas responderam que gostavam do sabor graviola e cinquenta pessoas responderam que gostavam do sabor açaí.

Sobre as setenta pessoas entrevistadas, é correto concluir que

- (A) no máximo vinte não gostam de graviola nem de açaí.
- (B) no mínimo dez não gostam de graviola nem de açaí.
- (C) no máximo dez gostam dos dois sabores.
- (D) no mínimo trinta gostam dos dois sabores.
- (E) no máximo vinte gostam dos dois sabores.

29

Juliano e Mário começaram recentemente suas coleções de selos. Se Juliano der 11 de seus selos para Mário, a quantidade de selos de Mário passará a ser o triplo da quantidade de selos de Juliano. Por outro lado, se Mário der 14 de seus selos para Juliano, a quantidade de selos de Juliano passará a ser o dobro da quantidade de selos de Mário.

Juliano e Mário têm juntos

- (A) 48 selos.
- (B) 56 selos.
- (C) 60 selos.
- (D) 72 selos.
- (E) 84 selos.

30

A negação lógica da sentença “Se como demais e não faço exercícios físicos então engordo” é

- (A) “Se não como demais e faço exercícios físicos então não engordo.”
- (B) “Se como demais e não faço exercícios físicos então não engordo.”
- (C) “Como demais e não faço exercícios físicos e não engordo.”
- (D) “Se não engordo então não como demais ou faço exercícios físicos.”
- (E) “Não como demais ou faço exercícios físicos ou não engordo.”

Conhecimentos Gerais

31

A expressão “Organizações Não Governamentais” (ONGs) foi formulada pela primeira vez no Art. 71 da Carta Constitucional da ONU, em 1945. No Brasil, as ONGs ampliaram sua atuação nas últimas décadas do século XX.

Sobre os agentes, os fins e o setor social ao qual pertencem as ONGs, analise as afirmativas a seguir.

- I. São entidades privadas que perseguem fins públicos como a defesa de direitos humanos, do meio ambiente e de políticas sociais. Pertencem ao Terceiro Setor,
- II. São atarquias e sociedades de economia mista comprometidas com a eliminação de situações de exclusão e desigualdade. Compõem o Primeiro Setor.
- III. São associações de voluntários que atuam em entidades privadas, com projetos voltados para defesa de causas humanitárias ou de seus membros. Fazem parte do Segundo Setor

Assinale:

- (A) se somente a afirmativa I estiver correta.
- (B) se somente a afirmativa II estiver correta.
- (C) se somente a afirmativa III estiver correta.
- (D) se somente as afirmativas I e II estiverem corretas.
- (E) se todas as afirmativas estiverem corretas.

32

Os erros gramaticais, em letreiros, cartazes e diálogos de telenovelas, têm provocado uma polêmica sobre se existe certo e errado em relação ao uso da língua.

A esse respeito, leia a posição de dois intelectuais brasileiros:

“Os critérios que decidem se é certo ou errado empregar uma construção derivam do campo em que se está e do gênero [textual], e não de um manual que lista erros e acertos independentemente de fatores sociais e históricos (...). Manter a língua intocada é imobilismo intelectual, por um lado, e, por outro, um duro golpe nos milhões de cidadãos que tiveram azar de não ter acesso ao português de antigamente”. (Sírio Possenti)

“Quanto maior for nosso domínio [da língua], maior e mais diversificada será nossa capacidade de expressão, de comunicação e de interação social. O falante deve ser capaz de dominar tanto quanto possível as regras de uso de sua língua,(...) embora ninguém o consiga totalmente, para poder fazer suas escolhas quanto à melhor maneira de se comunicar nas diferentes situações em que se encontra”. (Danilo Marcondes)

Com base nos trechos selecionados, assinale a alternativa que indica corretamente a posição desses autores sobre o uso da língua.

- (A) Para ambos, a norma culta deve ser abolida, de modo que a variedade da fala não seja corrigida pela convenção gramatical da língua escrita.
- (B) Para Sírio Possenti, a língua é um produto histórico que gerou a gramática, sistema normativo cujo cumprimento garante a eficácia da comunicação.
- (C) Para ambos, a língua é um elemento vivo que interage com a sociedade que pode provocar exclusão ou maior performance social.
- (D) Para Danilo Marcondes, há uma diferença entre a língua, um sistema de signos interiorizado culturalmente pelos falantes, e a fala, que expressa o ato individual de escolha das palavras.
- (E) Para ambos, o domínio da norma culta é um instrumento para obter melhores oportunidades de progressão social e superar a segregação de classes.

33

A biotecnologia diz respeito a um amplo conjunto de tecnologias que possuem em comum o fato de utilizar organismos vivos ou parte deles, como moléculas ou células.

Assinale a alternativa que indica corretamente avanços no campo da biotecnologia ocorridos na última década.

- (A) Recombinação do DNA para produção de insulina para uso humano.
- (B) Criação de célula sintética a partir de um genoma sintetizado em laboratório.
- (C) Produção de etanol, biocombustível obtido a partir da fermentação da cana-de-açúcar.
- (D) Clonagem animal, a partir da utilização de células e embriões.
- (E) Fabricação de penicilina, para combater infecções bacterianas.

34

Em agosto de 2013, a transferência do senador boliviano Roger Pinto Molina para o Brasil desencadeou um incidente diplomático entre o Brasil e a Bolívia.

Assinale a alternativa que indica corretamente um aspecto desta crise.

- (A) O Brasil não concedeu asilo ao senador boliviano e, por isso, a sua retirada para o território brasileiro desencadeou uma crise diplomática entre os dois países.
- (B) O presidente da Bolívia exigiu o regresso do senador boliviano, por ele ter tornado pública documentação secreta de Estado.
- (C) As relações entre os dois países têm se deteriorado desde o episódio da ocupação das instalações da Petrobrás, pelo exército boliviano.
- (D) A Bolívia, um dos cinco países fundadores do MERCOSUL, pressionou a Comissão Parlamentar do Mercado Comum para a votação de uma declaração de repúdio ao ato do governo brasileiro.
- (E) Um diplomata da Embaixada do Brasil na Bolívia autorizou a retirada do senador boliviano, por questões humanitárias, mesmo sem a emissão de salvo-conduto pela Bolívia.

35

Há mais de dois anos, está em curso uma guerra civil na Síria na qual os insurgentes se opõem ao regime ditatorial de Bashar al-Assad.

Com relação ao posicionamento internacional a respeito desta crise, analise as afirmativas a seguir.

- I. O Irã, o Iraque e a Rússia apoiam o Partido Baath sírio, liderado pela família al-Assad, fornecendo guerrilheiros, armamentos e combustível.
- II. Uma possível intervenção norte-americana no conflito fortaleceria seus aliados regionais: Turquia, Jordânia e Israel.
- III. As forças rebeldes são apoiadas, em nível regional, pelo grupo libanês do Hezbollah, e pelos Estados sunitas da Turquia, Arábia Saudita e Qatar.

Assinale:

- (A) se somente a afirmativa I estiver correta.
- (B) se somente a afirmativa II estiver correta.
- (C) se somente a afirmativa III estiver correta.
- (D) se somente as afirmativas I e II estiverem corretas.
- (E) se todas as afirmativas estiverem corretas.

36

A computação em nuvem tem sido considerada uma nova fronteira da era digital. Nuvem é uma metáfora para a Internet e seus serviços, como o acesso a informações e programas e o armazenamento de arquivos.

Sobre essa tendência recente, assinale V para a afirmativa verdadeira e F para a afirmativa falsa.

- (...) Esta tecnologia suscita problemas internacionais de tipo econômico e político, quando dados públicos são armazenados em arquivos privados, em países diversos daqueles dos usuários da nuvem.
- (...) Os sistemas de computação em nuvem podem aumentar a “dívida digital” entre países ricos e pobres, caso o acesso ao conhecimento não seja livremente garantido a todos.
- (...) A computação em nuvem torna o usuário dependente de investimentos crescentes em recursos de *hardware* e *software*, que devem ser adquiridos junto ao servidor contratado.

As afirmativas são, respectivamente,

- (A) F, V e F.
- (B) F, V e V.
- (C) V, F e F.
- (D) V, V e F.
- (E) F, F e V.

37

Os dados da tabela a seguir permitem traçar um panorama do desempenho da economia mundial nos últimos anos.

Crescimento do PIB observado e projeções do FMI (em %)						
Regiões	2009	2010	2011	2012 (e)	2013 (p)	2014 (p)
Mundo	-0,6	5,1	3,8	3,2	3,5	4,1
Países desenvolvidos	-3,6	3,0	1,6	1,3	1,4	2,2
Estados Unidos	-3,1	2,4	1,8	2,2	2,0	3,0
Área do Euro	-4,4	2,0	1,4	-0,3	-0,2	1,0
Reino Unido	-4,0	1,8	0,8	0,2	1,0	1,9
Japão	-5,5	4,5	-0,8	2,0	1,2	0,7
Países emergentes em desenvolvimento	2,7	7,4	6,2	5,1	5,5	5,9
Ásia	7,0	9,5	7,8	6,6	7,1	7,5
China	9,2	10,4	9,2	7,8	8,2	8,5
América Latina e Caribe	-1,5	6,2	4,5	3,0	3,6	3,9
Europa Central e Ocidental	-3,6	4,6	5,3	1,8	2,4	3,1
Comunidade de Estados Independentes	-6,4	4,8	4,9	3,6	3,8	4,1
Oriente Médio e Norte da África	2,6	5,0	3,3	5,2	3,4	3,8
África Subsaariana	2,6	5,3	5,1	4,8	5,8	5,7

Nota: e = estimativa; p = previsão
(Fonte: FMI/Ipea/Dimac/Gecon.)

Com base na tabela, analise as afirmativas a seguir.

- I. Em 2012, o desempenho da economia mundial foi marcado, em relação ao biênio 2010-2011, por uma desaceleração homogênea entre os distintos grupos de países.
- II. Em 2012, a economia europeia voltou a ser recessiva, e este mau desempenho foi acompanhado pelo menor crescimento dos BRICs.
- III. A Europa voltou a viver os riscos de ruptura do euro a partir de 2012, atenuados por meio do suporte do Banco Central Europeu (BCE).

Assinale:

- (A) se somente a afirmativa I estiver correta.
- (B) se somente a afirmativa II estiver correta.
- (C) se somente as afirmativas I e II estiverem corretas.
- (D) se somente as afirmativas II e III estiverem corretas.
- (E) se todas as afirmativas estiverem corretas.

38


O saneamento básico é fundamental para elevar o Índice de Desenvolvimento Humano (IDH) e é uma das pré-condições para evitar doenças causadas pelo contato ou ingestão de água contaminada.

Assinale a alternativa que indica as doenças relacionadas à ausência de saneamento básico.

- (A) Hanseníase e febre tifóide.
- (B) Bronquite e cólera.
- (C) Hepatite e leptospirose.
- (D) Amebíase e caxumba.
- (E) Esquistossomose e lúpus.

39

As três imagens a seguir retratam obras de Mario Cravo Júnior, artista baiano que, em 2013, foi homenageado por seus 90 anos com uma exposição no Palacete das Artes (Salvador).



As afirmativas a seguir apresentam características formais e poéticas presentes nas obras de Mario Cravo Júnior. Analise-as.

- I. As formas puras e despojadas são capazes de oferecer uma síntese visual do seu universo social e cultural.
- II. A monumentalidade define a escala da obra em relação ao entorno urbanístico e lhe confere um sentido de grandeza.
- III. A sensualidade geométrica das formas germinantes, dos núcleos e óvulos indicam, poeticamente, vida e crescimento.

Assinale:

- (A) se somente a afirmativa I estiver correta.
- (B) se somente a afirmativa II estiver correta.
- (C) se somente a afirmativa III estiver correta.
- (D) se somente as afirmativas I e II estiverem corretas.
- (E) se todas as afirmativas estiverem corretas.

40

“A Câmara dos Deputados aprovou no dia 27 de agosto de 2013, em segundo turno, a Proposta de Emenda à Constituição (PEC) que obriga o Executivo federal a liberar recursos para despesas inseridas no Orçamento da União através de emendas parlamentares individuais”.

(Apud <http://g1.globo.com/politica/noticia/2013/08>)

O trecho da notícia refere-se à discussão e à aprovação

- (A) da Lei de Diretrizes Orçamentárias.
- (B) do Orçamento Participativo.
- (C) da Lei de Responsabilidade Fiscal.
- (D) do Orçamento Impositivo.
- (E) da Lei Orçamentária Anual.

Legislação Institucional

41

A CONDER tem por finalidade executar as obras e ações inerentes às políticas de desenvolvimento urbano e habitacional no Estado da Bahia.

Sobre as competências da CONDER, analise as afirmativas a seguir.

- I. Executar obras e serviços de implantação, qualificação e conservação de equipamentos necessários à convivência comunitária.
- II. Desenvolver e implementar projetos e obras voltados à solução da destinação final de resíduos sólidos urbanos.
- III. Promover condições adequadas de habitabilidade, por meio de intervenções em áreas precárias, contribuindo para a melhoria da qualidade de vida da população.

Assinale:

- (A) se somente a afirmativa II estiver correta.
- (B) se somente as afirmativas I e II estiverem corretas.
- (C) se somente as afirmativas I e III estiverem corretas.
- (D) se somente as afirmativas II e III estiverem corretas.
- (E) se todas as afirmativas estiverem corretas.

42

De acordo com seu Estatuto, a CONDER é estruturada pelos órgãos listados a seguir, à exceção de um. Assinale-o.

- (A) Conselho de Administração.
- (B) Assembleia Geral.
- (C) Conselho Fiscal.
- (D) Conselho Deliberativo.
- (E) Diretoria Executiva.

43

Assinale a alternativa que indica a natureza jurídica da Companhia de Desenvolvimento Urbano do Estado da Bahia – CONDER.

- (A) Autarquia.
- (B) Empresa Pública.
- (C) Sociedade de Economia Mista.
- (D) Fundação.
- (E) Associação Civil.

44

Sobre a Assembleia Geral, órgão superior de deliberação da CONDER, analise as afirmativas a seguir.

- I. A cada ação ordinária nominativa corresponderão dois votos nas deliberações da Assembleia Geral.
- II. A Assembleia Geral será presidida pelo representante do acionista controlador.
- III. As deliberações da Assembleia Geral constarão de Ata, lavrada em livro próprio e assinada pelos Membros da Mesa e pelos acionistas presentes, de forma circunstanciada ou sumária, conforme previsto na Lei Federal n. 6.404/76.

Assinale:

- (A) se somente a afirmativa II estiver correta.
- (B) se somente as afirmativas I e III estiverem corretas.
- (C) se somente as afirmativas II e III estiverem corretas.
- (D) se somente as afirmativas I e II estiverem corretas.
- (E) se todas as afirmativas estiverem corretas.

45

Assinale a afirmativa que indica o órgão que define a destinação dos lucros da CONDER.

- (A) A Assembleia Geral.
- (B) O Conselho Fiscal.
- (C) O Conselho de Administração.
- (D) A Diretoria Executiva.
- (E) O Conselho Social.

46

Os diretores da CONDER devem zelar pela boa condução das suas finalidades institucionais. Nesse sentido, todos os atos que impliquem em responsabilidade financeira para a CONDER deverão ser firmados

- (A) por dois diretores, sendo um deles o Diretor Presidente.
- (B) pelo Diretor Executivo e pelo Conselho Fiscal.
- (C) pelo Conselho Administrativo.
- (D) por três diretores, sendo um deles o Secretário Executivo.
- (E) pelo Diretor Executivo.

47

O exercício social da CONDER, que é o período de tempo entre o levantamento de dois balanços patrimoniais, corresponderá

- (A) ao ano fiscal, com início em 1º de março.
- (B) ao ano administrativo, com início em 1º de janeiro.
- (C) ao ano civil, com encerramento em 31 de dezembro.
- (D) ao biênio civil, com encerramento em 31 de dezembro do segundo ano.
- (E) ao triênio fiscal, com encerramento em 31 de dezembro do terceiro ano.

48

Os recursos financeiros da CONDER são classificados como próprios ou de terceiros. As alternativas a seguir apresentam recursos financeiros próprios da CONDER, à exceção de uma. Assinale-a.

- (A) Rendas de seu capital, lucros e dividendos.
- (B) Recursos provenientes de dotações orçamentárias.
- (C) Produtos de operações de crédito.
- (D) Recursos de capital, inclusive os resultantes da conversão em espécie de bens e direitos.
- (E) Renda oriunda de bens patrimoniais, assim como as provenientes da exploração de seus serviços, bens e atividades.

49

Na forma do seu Estatuto, sobre as atribuições do Diretor-Presidente da CONDER, analise as afirmativas a seguir.

- I. Representar a CONDER, ativa e passivamente, em Juízo ou fora dele.
- II. Autorizar aquisição, permuta ou alienação de bens móveis, observada a legislação em vigor.
- III. Designar pessoal para o exercício das funções comissionadas.

Assinale:

- (A) se somente as afirmativas I e II estiverem corretas.
- (B) se somente as afirmativas I e III estiverem corretas.
- (C) se somente as afirmativas II e III estiverem corretas.
- (D) se somente a afirmativa II estiver correta.
- (E) se todas as afirmativas estiverem corretas.

50

A moralidade pública implica transparência dos gestores de entidades que lidem com os interesses públicos.

Nesse sentido, na forma do Estatuto da CONDER, assinale a afirmativa correta.

- (A) Os Diretores da CONDER devem apresentar declarações de bens apenas após o seu desligamento da entidade.
- (B) Os Diretores da CONDER não são obrigados a apresentar declarações de bens antes de assumir os seus respectivos cargos.
- (C) Os Diretores da CONDER não são obrigados a apresentar declarações de bens após o seu desligamento da entidade.
- (D) Os Diretores da CONDER devem apresentar declarações de bens apenas antes de assumir os seus respectivos cargos.
- (E) Os Diretores da CONDER devem apresentar declarações de bens antes de assumir os seus respectivos cargos, bem como imediatamente após o seu desligamento.

Conhecimentos Específicos

51

“O Programa Nacional de Alimentação Escolar (PNAE), implantado em 1955, garante, por meio da transferência de recursos financeiros, a alimentação escolar dos alunos de toda a educação básica matriculados em escolas públicas e filantrópicas. (Fonte: <http://www.fnde.gov.br/programas/alimentacao-escolar/alimentacao-escolar-apresentacao>).

O programa necessita de alguns ajustes como, por exemplo, a redução do desperdício alimentar e a adequação do destino dos restos da merenda. Segundo a Lei n. 11.947/09, o que não é consumido pelos alunos vai para o lixo.

De acordo com a perspectiva da sustentabilidade, assinale a alternativa que indica o melhor destino para os restos provenientes da merenda escolar.

- (A) Lixão.
- (B) Compostagem.
- (C) Incineração.
- (D) Aterro sanitário.
- (E) Aterro controlado.

52

“Por ocasião da Conferência Internacional Rio/92, (...) o papel central da educação para a ‘construção de um mundo socialmente justo e ecologicamente equilibrado’, o que requer ‘responsabilidade individual e coletiva em níveis local, nacional e planetário’”. (Fonte: <http://portal.mec.gov.br/seb/arquivos/pdf/meioambiente.pdf>).

De acordo com os Parâmetros Curriculares Nacionais, a escola deverá trabalhar com o tema Meio Ambiente contribuindo para que os alunos sejam capazes de

- (A) analisar fatos identificando, sob o ponto de vista ambiental, oportunidades de atuar de modo propositivo, para garantir um meio ambiente saudável e a boa qualidade de vida.
- (B) adotar posturas que os levem a interações construtivas, justas e ambientalmente sustentáveis, apenas em âmbito escolar.
- (C) compreender que os problemas ambientais interferem na qualidade de vida das pessoas apenas em âmbito local.
- (D) identificar que o ser humano não é parte integrante da natureza e, por isso, não precisa se sentir afetivamente ligado a ela.
- (E) conhecer e compreender, de modo isolado, as noções básicas relacionadas ao meio ambiente.

53

“O Índice de Desenvolvimento da Educação Básica (Ideb) foi criado pelo Inep em 2007. O Ideb é importante por ser condutor de política pública em prol da qualidade da educação. (...) que, em 2011, o IDEB do Brasil seja 6,0 – média que corresponde a um sistema educacional de qualidade comparável à dos países desenvolvidos”.

(Fonte: <http://portal.inep.gov.br>)

Observe o quadro sobre a evolução do Ideb numa escola fictícia:

Escola Municipal A	2007	2009	2011
	3,9	4,3	4,1

A queda do Ideb em 2011 pode ser explicada pelos fatores a seguir, **à exceção de um**. Assinale-o.

- (A) Manutenção da proficiência em matemática, redução da proficiência em língua portuguesa e redução do fluxo (taxa de rendimento escolar).
- (B) Manutenção das proficiências em matemática e língua portuguesa e redução do fluxo (taxa de rendimento escolar).
- (C) Aumento das proficiências em matemática e língua portuguesa e aumento do fluxo (taxa de rendimento escolar).
- (D) Redução das proficiências em matemática e língua portuguesa e redução do fluxo (taxa de rendimento escolar).
- (E) Redução das proficiências em matemática e língua portuguesa e manutenção do fluxo (taxa de rendimento escolar).

54

No início da década de 1990, Guiomar Namó de Mello publica “Social-democracia e educação: Teses para discussão” em que defende que o Estado responda pelas políticas sociais e levanta o lema “mais cidadania, melhor governo, menos Estado”. Suas propostas já anunciavam a necessidade de uma reforma educacional, pois criticava a concentração de poder nos órgãos centrais, a ausência de mecanismos de participação, controle e fiscalização do ensino por parte da população e a falta de avaliação dos resultados escolares.

Os mecanismos de avaliações nacionais da Educação Básica, em larga escala, são tema recorrente até hoje, gerando índices e, até mesmo, impulsionando políticas de responsabilização docente.

Assinale a alternativa que indica o primeiro sistema nacional de avaliação em larga escala de estudantes da Educação Básica.

- (A) Avaliação Nacional do Rendimento Escolar (Anresc), conhecida como Prova Brasil.
- (B) O Exame Nacional do Ensino Médio (Enem).
- (C) O Exame Nacional para Certificação de Competências de Jovens e Adultos (Encceja).
- (D) O Sistema de Avaliação da Educação Básica (Saeb).
- (E) O Programme for International Student Assessment (Pisa) - Programa Internacional de Avaliação de Estudantes.

55

“A Lei de Diretrizes e Bases, de 1996, detalha, entre outros aspectos, a competência de cada ente federado.

Assinale a alternativa que apresenta uma incumbência da **esfera municipal**.

- (A) Elaborar as diretrizes curriculares para a educação básica.
- (B) Coletar, analisar e disseminar informação sobre a educação.
- (C) Avaliar a educação nacional em todos os níveis.
- (D) Assegurar o ensino fundamental e oferecer, com prioridade, o ensino médio.
- (E) Oferecer a educação infantil em creches e pré-escolas, e, com prioridade, o ensino fundamental.

56

No livro *Biologia e Conhecimento* (1973), Piaget descreve que as crianças pequenas, na fase pré-operatória, apresentam o que chamou de “*pensamento egocêntrico*”.

Assinale a alternativa que caracteriza tal pensamento.

- (A) As crianças aderem a uma escala comum de referência, ou seja, apresentam definições idênticas às mesmas palavras.
- (B) as crianças, durante uma conversa, conservam as definições que elas mesmas deram e as afirmações que fizeram.
- (C) As crianças apresentam extrema dificuldade em se colocar no ponto de vista do outro, fato que as impede de estabelecer relações de reciprocidade.
- (D) As crianças não elegem o ponto de vista próprio como absoluto.
- (E) As crianças apresentam domínio do seu “eu”, sendo autônomas no seu modo de pensar e de agir.

57

O Programa Nacional de Fortalecimento dos Conselhos Escolares tem por objetivo fomentar a implantação e o fortalecimento dos Conselhos Escolares para que contribuam para a melhoria da qualidade do ensino ofertado e para garantir a efetiva participação das comunidades escolar e local na gestão das escolas, como prevê a legislação.

Sobre as ações de responsabilidade dos Conselhos Escolares, analise as afirmativas a seguir.

- I. Deliberar sobre as normas internas e o funcionamento da escola.
- II. Analisar as questões encaminhadas pelos diversos segmentos da escola, propondo sugestões.
- III. Acompanhar a execução das ações pedagógicas, administrativas e financeiras da escola.

Assinale:

- (A) se apenas a afirmativa I estiver correta.
- (B) se apenas a afirmativa III estiver correta.
- (C) se apenas as afirmativas I e II estiverem corretas.
- (D) se apenas as afirmativas II e III estiverem corretas.
- (E) se todas as afirmativas estiverem corretas.

58

Cipriano **Luckesi** (1994), no livro *Filosofia da Educação*, apresenta as características e diferenças entre as tendências pedagógicas na prática escolar. Na página 64, descreve o papel da escola na perspectiva de uma dessas tendências: “*Assim, quando se fala em educação em geral, diz-se que ela é uma atividade onde professores e alunos, mediatizados pela realidade que aprendem e da qual extraem o conteúdo de aprendizagem, atingem um nível de consciência dessa mesma realidade, a fim de nela atuarem, num sentido de transformação social.*”

Assinale a alternativa que apresenta a tendência dessa pedagogia, cujo inspirador e divulgador foi Paulo Freire.

- (A) Tendência liberal tradicional.
- (B) Tendência liberal renovada progressista.
- (C) Tendência liberal tecnicista.
- (D) Tendência progressista libertadora.
- (E) Tendência progressista “*crítico-social dos conteúdos*”.

59

Guiomar Namó de Mello (2003), no livro *Magistério de 1º grau*, apresenta uma discussão acerca do fracasso escolar da criança “*arente*” e suas razões, concluindo que as razões do fracasso encontram-se divididas em fatores intra e extra-escolares.

Na pesquisa que fez com professores, revela que, em média, os docentes apresentam três respostas para explicar o fracasso dos alunos “*arentes*”:

- 1) responsabilidade da escola;
- 2) culpa da vítima;
- 3) responsabilidade da pobreza e do desinteresse da família.

Assinale a alternativa que apresenta apenas causas relacionadas à resposta 2.

- (A) Insuficiência do tempo de permanência na escola e atitudes preconceituosas do professor.
- (B) Falta de recursos humanos e materiais e ausência de valores morais e desorganização da família.
- (C) Desinteresse, falta de esforço da criança e baixo QI.
- (D) Desnutrição, alimentação fraca e inadequação dos conteúdos aos valores culturais dessas crianças.
- (E) Abandono e desinteresse dos pais e falta de condições econômicas da família para assistir aos filhos.

60

Sobre as vantagens do uso das mídias nas escolas, analise as afirmativas a seguir.

- I. O desafio é saber se os professores irão mudar de paradigma e concentrar-se na criação, na gestão e na regulação de situações de aprendizagem.
- II. A educação para a mídia contribui para formar um receptor crítico, ativo, inteligente, capaz de se distanciar da mensagem midiática e exercer sobre ela seu poder de análise e crítica.
- III. Os recursos tecnológicos utilizados abrem novos processos de aprendizagem que oferecem possibilidades de renovar ou mesmo romper com a práxis do modelo tradicional da educação.

Assinale:

- (A) se apenas a afirmativa I estiver correta.
- (B) se apenas a afirmativa III estiver correta.
- (C) se apenas as afirmativas I e II estiverem corretas.
- (D) se apenas as afirmativas II e III estiverem corretas.
- (E) se todas as afirmativas estiverem corretas.

61

O famoso educador brasileiro Paulo Freire publicou o livro *Pedagogia do Oprimido*, em 2005, no qual abordou a concepção “_____ da educação” como instrumento da _____. Criticava o modelo de educação que se tornava um ato de depositar, em que os educandos são os depositários e o educador o _____ e, assim, o “saber” é uma doação dos que se julgam sábios aos que julgam nada saber.

Assinale a alternativa cujos itens completam corretamente as lacunas do fragmento acima.

- (A) bancária – opressão - depositante
- (B) liberal - autonomia – idealista
- (C) autoritária – dominação – bancário
- (D) determinista – escola – transmissor
- (E) religiosa – opressão – idealista

62

Assinale a alternativa, segundo a Lei de Diretrizes e Bases da Educação Nacional (Lei n. 9.394/96). No capítulo II – Educação Básica, seção I, artigo 24, que explicita as regras comuns de *organização da Educação Básica*.

- (A) O controle de frequência fica a cargo da escola, conforme o disposto no seu regimento, exigida a frequência mínima de setenta por cento do total de horas letivas para aprovação.
- (B) A carga horária mínima anual será de novecentas horas, distribuídas por duzentos dias de efetivo trabalho escolar, excluído o tempo reservado aos exames finais, quando houver.
- (C) As turmas poderão ter alunos de séries distintas, com níveis díspares de adiantamento na matéria, para o ensino de língua Portuguesa, Artes e outras linguagens.
- (D) Os estabelecimentos que adotam a progressão regular por série podem admitir formas de progressão parcial, sendo dispensável seguir a sequência do currículo.
- (E) A instituição de ensino deve expedir históricos escolares, declarações de conclusão de série e diplomas ou certificados de conclusão de cursos, com as especificações cabíveis.

63

Com relação aos princípios norteadores da educação em direitos humanos na Educação Básica, assinale V para a afirmativa verdadeira e F para a falsa.

- () A educação em direitos humanos, por seu caráter coletivo e participativo, deve ocorrer em espaços marcados pelo entendimento mútuo, respeito e responsabilidade.
- () A escola deve assegurar que os objetivos e as práticas a serem adotados sejam coerentes com os valores e princípios da educação em direitos humanos.
- () A educação em direitos humanos deve ser um dos eixos fundamentais da educação básica e permear o currículo e a formação inicial e continuada dos profissionais da educação.

As afirmativas são, respectivamente,

- (A) V, V e V.
- (B) F, V e F.
- (C) V, V e F.
- (D) F, V e V.
- (E) F, F e V.

64

“O debate sobre pluralidade cultural e a relevância de se garantir representação das identidades culturais nos diversos campos sociais, incluindo o educacional, tem se intensificado. Ressalta-se, na educação e na formação docente, o papel dos discursos e práticas curriculares na preparação de professores e de futuras gerações nos valores de apreciação da diversidade cultural e de desafio a preconceitos ligados a determinantes de gênero, raça, religião, ‘deficiências’, padrões culturais e outros.”

(Canen et al. 2001).

Os Parâmetros Curriculares Nacionais (PCN) contemplam, como eixo transversal, o tema da Pluralidade Cultural, que tem como um dos seus objetivos

- (A) hierarquizar as diversas culturas presentes na constituição da identidade brasileira.
- (B) reconhecer os falhas da própria cultura, depreciando-as criticamente.
- (C) repudiar toda discriminação baseada em diferenças de raça/etnia e outras características individuais ou sociais.
- (D) compreender a desigualdade social como um problema individual e como uma realidade mutável.
- (E) exigir a valorização da diversidade cultural, de modo pacífico, omitindo-se diante de qualquer atitude de discriminação.

65

A organização curricular por projetos é valorizada nos documentos publicados pelo MEC que abordam as relações entre tecnologia, currículo e projetos.

Com relação aos princípios norteadores dessa prática, assinale V para a afirmativa verdadeira e F para a falsa.

- () Na pedagogia de projetos, o aluno aprende no processo de produzir, levantar dúvidas, pesquisar e criar relações que incentivam novas buscas, descobertas, compreensões e reconstruções de conhecimento.
- () O papel do professor é o de transmitir informações e sua atuação, na organização curricular por projetos, ocupa o centro do processo.
- () O professor deve considerar, para trabalhar com projetos, as possibilidades de desenvolvimento de seus alunos, as dinâmicas sociais do contexto em que atua e as possibilidades de sua mediação pedagógica.

As afirmativas são, respectivamente,

- (A) V, V e V.
- (B) V, V e F.
- (C) V, F e V.
- (D) V, F e F.
- (E) F, F e V.

66

“Certas noções, certas práticas e sentimentos que deveriam ser gerais assim para as primeiras como para as classes superiores da sociedade [são instrumentos de fundamentação para a constituição de unidade do império, e ocorrem através da instrução primária]. É essa instrução comum, essa identidade de hábitos intelectuais e morais (...) que constituem a identidade e a nacionalidade.”

(GONDRA, José Gonçalves; SCHUELER, Alessandra. *Educação, poder e sociedade no Império Brasileiro*. São Paulo: Cortez, 2008, p.36).

Sobre o modelo educacional presente no período do Brasil Império, assinale a afirmativa correta.

- (A) A descentralização da educação, arraigada no princípio de autonomia escolar, em que cada província poderia traçar suas diretrizes e planos para a educação.
- (B) A criação do Imperial Colégio de Pedro II representou a implantação de um modelo educacional que visava a uma educação pública, laica e única para todos.
- (C) A vinda da Família Real, em 1808, significou mudanças significativas no campo da educação, pois era necessário investir em uma educação que formasse as elites intelectuais e políticas.
- (D) O processo de integração dos diferentes indivíduos (independente de sua cor ou classe social) ao sistema educacional favorecia um ambiente de aprendizagem fundamentado na interação entre os diferentes atores.
- (E) Para construir um modelo de identidade de nação, se fazia necessário que todos os que viviam em terras brasileiras fossem formados e, portanto, evidenciou-se a necessidade de uma educação popular.

67

O Projeto Político Pedagógico, obrigatório em todos os estabelecimentos de ensino, é um reflexo e um produto do processo de planejamento escolar, dando visibilidade ao planejamento participativo, fazendo com que seja, de fato, uma expressão da identidade da escola.

Sobre o Projeto Político Pedagógico, assinale a afirmativa correta.

- (A) Tem um caráter deliberativo sobre os conteúdos curriculares que cada disciplina deve abordar.
- (B) Deve restringir os deveres dos componentes do ambiente escolar, com o objetivo de manter a ordem e criar um ambiente favorável ao ensino e à aprendizagem.
- (C) Deve ser elaborado por uma equipe técnica especializada, composta pelos gestores educacionais e especialistas com formação em nível de pós-graduação.
- (D) Deve avaliar as políticas públicas voltadas para a educação nas diferentes esferas do poder e o debate sobre quanto do Produto Interno Bruto (PIB) deve ser aplicado na educação.
- (E) Deve ser o produto de um processo que engloba o compromisso com a realidade da escola e trazer, em sua essência, a proposta pedagógica da escola.

68

Como processo de investigação das questões relacionadas à sociologia da educação três grandes pesquisas foram realizadas com o objetivo de um melhor entendimento das relações que se estabelecem entre escola e a sociedade.

A primeira geração de estudos, de base na mobilidade social, obteve conclusões pessimistas quanto à capacidade da escola de reverter as desigualdades socioeconômicas dos alunos, oriundas de suas famílias. Contraopondo-se a esta, uma segunda geração buscou o efeito das oportunidades escolares, através do desempenho escolar, para demonstrar que a “*escola faz diferença*”, podendo alcançar maior eficácia e equidade de resultados.

Conjugando a sociologia urbana e a sociologia da educação, surge uma terceira geração para ampliar além da família e da escola, a organização social do território e seus possíveis efeitos sobre as oportunidades educacionais.

Relacione as três gerações de estudos com os fatores a ela associados:

1. Primeira geração de estudos sobre desigualdades educacionais:
 2. Segunda geração de estudos sobre desigualdades educacionais:
 3. Terceira geração de estudos sobre desigualdades educacionais:
- () a escola, através de suas práticas pedagógicas e sua organização curricular, é responsável pelo sucesso ou fracasso dos alunos.
 - () as desigualdades educacionais são decorrentes da origem socioeconômica do aluno.
 - () equidade e eficácia escolar são articulados como uma necessidade em busca de uma educação de qualidade.

Assinale a alternativa que mostra a relação correta, de cima para baixo.

- (A) 1 – 2 – 3
- (B) 3 – 1 – 2
- (C) 2 – 1 – 3
- (D) 3 – 2 – 1
- (E) 2 – 3 – 1

69

“O projeto de lei que cria o Plano Nacional de Educação (PNE), para vigorar de 2011 a 2020, apresenta dez diretrizes objetivas e 20 metas, seguidas das estratégias específicas de concretização. O texto prevê formas de a sociedade monitorar e cobrar cada uma das conquistas previstas. As metas seguem o modelo de visão sistêmica da educação estabelecido em 2007 com a criação do Plano de Desenvolvimento da Educação (PDE). Tanto as metas quanto as estratégias premiam iniciativas para todos os níveis, modalidades e etapas educacionais.”

(<http://portal.mec.gov.br/>)

As alternativas a seguir apresentam diretrizes que estão presentes no PNE 2011/2020, **à exceção de uma**. Assinale-a.

- (A) Universalização do atendimento escolar.
- (B) Difusão dos princípios da equidade, do respeito à diversidade e a gestão democrática da educação.
- (C) Formação para o trabalho.
- (D) Criação de um currículo mínimo nacional.
- (E) Promoção da sustentabilidade socioambiental.

70

Os profissionais da educação buscam cursos de formação continuada, sejam eles presenciais, semipresenciais ou à distância, oferecidos pelas mais diversas instituições.

Sobre as políticas de formação continuada, assinale a afirmativa correta.

- (A) O alvo das políticas de formação continuada são os gestores educacionais, já que cada vez mais se faz necessário que os gestores tenham uma dimensão de gestão democrática e participativa.
- (B) Os cursos de formação continuada devem implementar o mesmo, pois deste modo tem-se a garantia de que o ensino oferecido será homogêneo e de qualidade para todos.
- (C) O processo de formação em que o especialista possui maior domínio do assunto cobre as lacunas que foram ocasionadas na graduação
- (D) O foco está nos conteúdos que foram apropriados (ou deveriam ter sido apropriados) no processo de formação ao longo da graduação.
- (E) O principal objetivo é aprofundar o conhecimento, diante do advento das novas tecnologias, da reorganização dos processos produtivos e seus reflexos na sociedade.

71

Sobre o planejamento participativo, assinale a afirmativa correta.

- (A) É uma ferramenta que auxilia na gestão democrática, sobretudo ao organizar a participação para intervir na realidade.
- (B) Tem um papel importante ao reforçar a rotina, elemento muito importante no processo de aprendizagem.
- (C) Exige, para que ocorra de maneira plena, que as pessoas estejam presentes, concordando ou discordando do que é proposto.
- (D) É um modelo de participação espontaneísta, em que a opinião de todos é importante e, como tal, deve ser ouvida e incorporada.
- (E) Pode explicar de maneira direta o desempenho dos alunos em exames padronizados, porque as escolas que adotam o planejamento participativo necessariamente têm bons resultados.

72

“O Manifesto dos Pioneiros da Educação Nova é o resultado dos anseios por reformas educacionais, acreditando que para que haja uma mudança na estrutura de um país, antes é necessário realizar uma mudança no modelo educacional. (...) Desta maneira, o Manifesto representa não apenas uma síntese dos ideais de reconstrução educacional, mas também um impulso à tentativa de avanço sobre novas propostas de educação”.

(<http://escolanova.net/pages/manifesto.htm>)

Assinale a alternativa que melhor corresponde aos objetivos defendidos pelos signatários do Manifesto.

- (A) Educação bancária e tecnicista, onde os alunos poderiam aprender um ofício para a vida profissional desde cedo, ofício este direcionado a partir do desejo da família.
- (B) Escola pública e única, onde predominassem as concepções de laicidade, gratuidade, obrigatoriedade e coeducação.
- (C) Uma maior centralização do poder educacional através das entidades governamentais, a fim de garantir um modelo que estivesse de acordo com os planos de governo.
- (D) Fortalecimento da autoridade do professor em sala de aula, como o detentor do saber e responsável pela transmissão dos conhecimentos.
- (E) Uma escola que respeitasse o tempo e o limite de cada aluno, assegurando condições necessárias para concluir todo o processo de escolarização.

73

No Brasil, no final do século XIX e nas primeiras décadas do século XX emergiu um movimento conhecido como Escola Nova, em que a criança ocupa um espaço diferenciado, sendo o foco nas relações de aprendizagem.

Neste sentido, pode-se afirmar em relação ao movimento escolanovista:

- I. A escola era vista como um local em que, a partir da observação e da experimentação, a criança elabora seu próprio saber.
- II. A implementação do sistema de aulas régias, em que os alunos poderiam ser atendidos de maneira mais específica.
- III. A disseminação dos hábitos de leitura, graças à criação de momentos destinados à leitura dentro do próprio horário escolar.

Assinale:

- (A) se somente a afirmativa I estiver correta.
- (B) se somente a afirmativa II estiver correta.
- (C) se somente a afirmativa III estiver correta.
- (D) se somente as afirmativas I e III estiverem corretas.
- (E) se todas as afirmativas estiverem corretas.

74

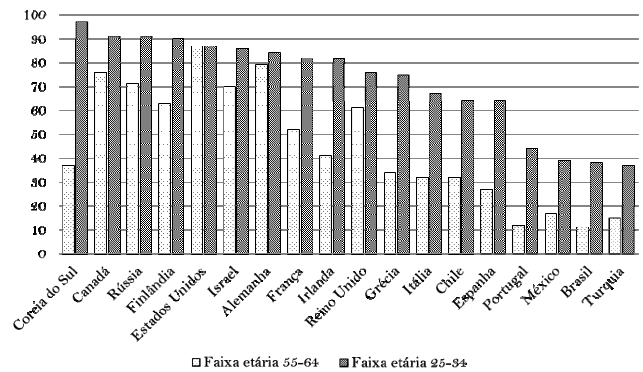
A questão que está no cerne da compreensão do mundo é a linguagem, com suas funções e dimensões em seu uso expressivo, considerando sua importância enquanto processo central na interpretação do mundo.

Partindo do pressuposto de que na educação deve existir o intercâmbio de interpretações sobre o mundo, o conceito filosófico que melhor se articula com a intersubjetividade do indivíduo e sua linguagem é o

- (A) da imanência metafísica.
- (B) da hermenêutica filosófica.
- (C) do paradigma holístico.
- (D) da epistemologia do ser.
- (E) da deontologia.

75

O gráfico abaixo representa a porcentagem da população com ensino médio completo em diferentes faixas etárias.



Fonte: OECD 2006 - Em Educação Básica no Brasil: construindo um país do futuro

A partir do gráfico, analise as afirmativas a seguir.

- I. A Coreia do Sul, ao realizar profundas mudanças nas suas estruturas educacionais, ampliou de modo significativo o acesso ao Ensino Médio.
- II. Os Estados Unidos apresentam taxas constantes, o que demonstra que seu sistema educacional já oferecia Ensino Médio à geração mais velha.
- III. O Brasil mostra um crescimento da população com Ensino Médio completo, mas ainda muito distante da universalização desse nível de escolaridade.

Assinale:

- (A) se apenas a afirmativa I estiver correta.
- (B) se apenas a afirmativa III estiver correta.
- (C) se apenas as afirmativas I e II estiverem corretas.
- (D) se apenas as afirmativas II e III estiverem corretas.
- (E) se todas as afirmativas estiverem corretas.

76

O planejamento é o processo e a ferramenta de trabalho que objetiva um melhor funcionamento do mecanismo e das ações que se servem dele; nos espaços onde está presente, as ações improvisadas perdem lugar e tem-se uma ação mais concreta e direta e, portanto, com maior eficiência e eficácia.

A educação está inserida cada vez mais nesta dinâmica, visto que não se pode conceber educação sem planejamento.

O planejamento em educação é considerado como

- (A) um elemento presente exclusivamente em sala de aula, através do planejamento do professor (planejamento diário, planejamento mensal e planejamento bimestral).
- (B) um processo contínuo que envolve elaboração (de um produto: plano, projeto e programa), execução (colocar em ação) e avaliação (perceber se os objetivos e metas foram alcançados).
- (C) um procedimento necessário para evitar improvisações, fazendo com que as iniciativas e decisões individuais sejam direcionadas.
- (D) um produto a ser elaborado pelos órgãos regionais e nacionais e ser aplicado no cotidiano de cada escola.
- (E) um conjunto de orientações voltadas exclusivamente para o aspecto pedagógico, uma vez que o planejamento orçamentário já vem definido pelas instâncias superiores.

77

“O tema *Pluralidade Cultural* propõe que sejam revistas e transformadas práticas arraigadas, inaceitáveis e inconstitucionais, enquanto se ampliam conhecimentos acerca das gentes do Brasil, suas histórias, trajetórias em território nacional, valores e vidas. O trabalho volta-se para a eliminação de causas de sofrimento, de constrangimento e, no limite, de exclusão social da criança e do adolescente.”

(Brasil. Secretaria de Educação Fundamental. *Parâmetros curriculares nacionais: pluralidade cultural, orientação sexual*. Brasília, 1997, p.36).

Assinale a alternativa que retrata o trabalho com a pluralidade cultural a partir dos PCNs.

- (A) Deve estar focado na realidade da escola, em tudo o que se passa exclusivamente dentro do espaço de sala de aula.
- (B) Reconhece as qualidades da própria cultura, valorando-as criticamente, enriquecendo a vivência de cidadania.
- (C) Torna público que a questão da desigualdade social é de responsabilidade do governo, já que o Brasil é um país com índice elevado de desigualdade.
- (D) Parte do pressuposto que o Brasil é uma “democracia racial” e, por isso, não se deve trabalhar a questão da discriminação.
- (E) A pluralidade deve ser ensinada através dos pressupostos teóricos, em uma perspectiva histórica onde o aluno tenha conhecimento de como viveram as diferentes culturas.

78

“A palavra *currículo* associam-se distintas concepções, que derivam dos diversos modos de como a educação é concebida historicamente, bem como das influências teóricas que a afetam e se fazem hegemônicas em um dado momento.” (p.17)

Sobre o tema currículo, assinale a afirmativa correta.

- (A) Um documento de identidade da escola, resultante do processo de planejamento participativo.
- (B) Um importante instrumento de complementação da democracia representativa.
- (C) O conjunto de processos de avaliação que termina por influir nos conteúdos e nos procedimentos selecionados.
- (D) Um referencial de qualidade para a educação no Ensino Fundamental.
- (E) Um documento de caráter regulatório e coordenativo.

79

Inserido no programa FUNDESCOLA (Fundo de Desenvolvimento da Escola), o Fundo Nacional de Educação – PNE criou o projeto denominado “Planejamento Estratégico da Secretaria – PES”, direcionado para as secretarias municipais e estaduais de educação. Nesta concepção de planejamento estratégico, um elemento importante é o painel de gestão, onde estão presentes os objetivos estratégicos, os indicadores que os compõem e suas respectivas finalidades.

Relacione os objetivos estratégicos com seus respectivos indicadores.

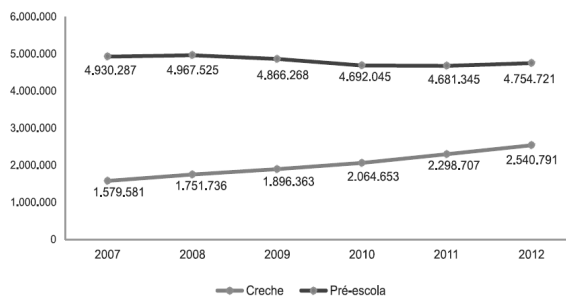
1. Educação integral e de qualidade
 2. Incentivar e qualificar o controle social
 3. Aprimorar a gestão de recursos de programas finalísticos e compras governamentais
 4. Desenvolver lideranças com foco em resultados
- () Taxa de execução orçamentária
 () Taxa de formação em liderança de servidores
 () Índice de atendimento escolar
 () Taxa de capacitação de conselhos

Assinale a alternativa que mostra a relação correta, de cima para baixo.

- (A) 4 – 1 – 2 – 3.
- (B) 1 – 2 – 3 – 4.
- (C) 3 – 4 – 1 – 2.
- (D) 3 – 1 – 2 – 4.
- (E) 2 – 3 – 4 – 1.

80

O gráfico a seguir apresenta a evolução do número de matrículas na Educação Infantil (Ensino Regular), no Brasil, entre os anos de 2007 e 2012. Percebe-se que a creche continua com forte expansão no número de matrículas, registrando aumento da ordem de 10,5% entre 2011 e 2012, o que corresponde a 242 mil novas matrículas.



Fonte: MEC/Inep/Deed; IBGE/Pnads 2007 a 2011 e Censo Demográfico 2010 (Dados do Universo).

Nota: Não inclui matrículas em turmas de atendimento complementar e atendimento educacional especializado (AEE).

No que se refere à pré-escola, tem-se que o número de matrículas aumentou de 4.681.345 para 4.754.721 (1,6%), o que representa mais de 80% da coorte de 4 e 5 anos de idade.

Sobre esta etapa de ensino, assinale a afirmativa correta.

- (A) A educação infantil encontra-se universalizada e a preocupação agora não mais se refere ao acesso, mas à qualidade.
- (B) O crescimento observado no número de matrículas na creche revela que se faz incipiente a inclusão desta etapa como uma das etapas da educação básica.
- (C) A ampliação nas matrículas é decorrente da legislação que coloca a Educação Infantil em caráter obrigatório para o acesso ao Ensino Fundamental.
- (D) A Educação Infantil tem como finalidade o desenvolvimento integral da criança de até 5 (cinco) anos, complementando a ação da família e da comunidade.
- (E) A função principal dos espaços de creche e pré-escolas é apenas a de auxiliar as famílias que não têm onde deixar seus filhos, sem a necessidade ou obrigatoriedade de uma proposta pedagógica.

Realização

 **FGV PROJETOS**