



# SSP-AM SECRETARIA DE SEGURANÇA PÚBLICA DO AMAZONAS

TARDE

## ASSISTENTE OPERACIONAL

NÍVEL MÉDIO TIPO 3 – AMARELA



### SUA PROVA

- As questões objetivas têm cinco alternativas de resposta (A, B, C, D, E) e somente uma delas está correta;
- Além deste caderno contendo sessenta questões objetivas, você receberá do fiscal de prova a folha de respostas.



### TEMPO

- Você dispõe de **3 horas e 30 minutos** para a realização da prova, já incluído o tempo para a marcação da folha de respostas;
- **2 horas** após o início da prova é possível retirar-se da sala, sem levar o caderno de prova;
- A partir dos **15 minutos** anteriores ao término da prova é possível retirar-se da sala **levando o caderno de provas**.



### NÃO SERÁ PERMITIDO

- Qualquer tipo de comunicação entre os candidatos durante a aplicação da prova;
- Anotar informações relativas às respostas em qualquer outro meio que não seja o caderno de prova;
- Levantar da cadeira sem autorização do fiscal de sala;
- Usar o sanitário ao término da prova, após deixar a sala.



### INFORMAÇÕES GERAIS

- Verifique se seu caderno está completo, sem repetição de questões ou falhas. Caso contrário, notifique imediatamente o fiscal da sala, para que sejam tomadas as devidas providências;
- Confira seus dados pessoais, especialmente nome, número de inscrição e documento de identidade e leia atentamente as instruções para preencher a folha de respostas;
- Use somente caneta esferográfica, fabricada em material transparente, com tinta preta ou azul;
- Assine seu nome apenas no(s) espaço(s) reservado(s);
- Confira seu cargo, cor e tipo do caderno de provas. Caso tenha recebido caderno de cargo ou cor ou tipo **diferente** do impresso em sua folha de respostas, o fiscal deve ser **obrigatoriamente** informado para o devido registro na ata da sala;
- Reserve tempo suficiente para o preenchimento da sua folha de respostas. O preenchimento é de sua responsabilidade e **não será permitida a troca da folha de respostas em caso de erro cometido por você**;
- Para fins de avaliação, serão levadas em consideração apenas as marcações realizadas na folha de respostas;
- A FGV coletará as impressões digitais dos candidatos na folha de respostas;
- Os candidatos serão submetidos ao sistema de detecção de metais quando do ingresso e da saída de sanitários durante a realização das provas;
- **Boa sorte!**

## Língua Portuguesa

As questões desta prova, elaboradas a partir de pequenos textos cuja temática está relacionada com a sua futura atividade, pretendem verificar a sua capacidade de interpretar/compreender textos, e de redigir com correção e adequação.

1

O ex-presidente americano Thomas Jefferson declarou que “Fundamental é aplicar a lei a homens de todas as condições”.

O segmento sublinhado traz um verbo no infinitivo e, por isso, a oração em que esse segmento está inserido denomina-se reduzida de infinitivo.

A forma de oração desenvolvida adequada desse segmento é

- (A) que se aplicasse.
- (B) que a lei fosse aplicada.
- (C) a lei ser aplicada.
- (D) a aplicação da lei.
- (E) que se aplique.

2

Nosso grande escritor Machado de Assis escreveu em uma de suas crônicas: “Creio em poucas coisas, e uma das que entram no meu credo é a justiça, tanto a do céu como a da terra, assim a pública como a particular”.

Considerando os componentes desse pensamento, podemos afirmar que:

- (A) a afirmação mais importante do pensamento é a de que Machado crê integralmente na justiça.
- (B) os argumentos que defendem a afirmação inicial são “tanto a do céu como a da terra, assim a pública como a particular”.
- (C) a afirmação inicial do texto é fruto dos inúmeros estudos do autor na área jurídica.
- (D) a declaração de que a justiça entra no seu credo, mostra o caráter religioso da afirmação feita.
- (E) a expressão “tanto a do céu como a da terra” tem valor comparativo entre esses dois tipos de justiça.

3

“A Justiça é cega. E às vezes lenta e gananciosa. A figura de Thêmis, deusa grega da Justiça, costuma ser representada por uma mulher segurando uma balança em uma das mãos e uma espada em outra. A venda nos olhos veio só no século XIV, quando os alemães acharam que seria uma boa para representar a imparcialidade e ausência de preconceitos.”

Sobre essa imagem mitológica da Justiça, assinale a única afirmativa correta.

- (A) A justiça é cega porque às vezes comete injustiças.
- (B) A justiça é lenta porque demora a decidir as causas.
- (C) A balança indica o peso da culpa nos criminosos.
- (D) A espada mostra a violência das penas judiciais.
- (E) A venda nos olhos mostra a justiça como irresponsável.

4

Uma famosa série televisiva dos anos 90 tinha um protagonista que declarou o seguinte em um dos capítulos: “Como policial perdi muitos casos devido a truques jurídicos, mas eu acreditava no sistema. Como promotor perdi muitos casos para advogados corruptos, mas eu acreditava no sistema. Como juiz eu procurei seguir a lei ao pé da letra, porque eu acreditava no sistema... até eles destruírem minha família. Daí eu parei de acreditar no sistema e passei a acreditar na Justiça”.

Deduz-se dessa fala que, para esse personagem,

- (A) a crença no sistema foi uma boa decisão.
- (B) a família do protagonista foi destruída por agentes da lei.
- (C) a justiça e o sistema formam um só corpo.
- (D) o sistema não garante a justiça.
- (E) a justiça só é feita no plano religioso.

5

“A segurança pública é um direito humano fundamental, essencial à preservação da vida e à garantia de direitos. Portanto, independentemente de condição social, econômica, política, filosófica, a todo ser humano lhe é assegurado o direito de viver em segurança.”

Assinale a afirmação correta sobre o conteúdo desse texto.

- (A) A segurança pública é uma causa da existência dos direitos humanos.
- (B) Os direitos humanos diferem em função das condições sociais dos cidadãos.
- (C) Entre os direitos humanos fundamentais está a segurança de todos.
- (D) A segurança pública garante a todos o direito à vida.
- (E) Os direitos sociais, econômicos, políticos e filosóficos são garantidos pela segurança pública.

6

Um jurista conhecido disse: “O grande mal do Brasil tem sido o crime sem castigo. O que reduz a criminalidade é a certeza da punição”.

Esse pensamento está dividido em dois períodos, separados por um ponto. Em relação ao primeiro período, o segundo mostra a seguinte função:

- (A) explicar o que é um crime sem castigo.
- (B) indicar a consequência de os crimes ficarem impunes.
- (C) justificar a opinião dada anteriormente.
- (D) mostrar outro parecer independente do primeiro.
- (E) retificar uma falha do pensamento anterior.

**ATENÇÃO: o enunciado a seguir refere-se às duas próximas questões.**

O ex-ministro da Fazenda Roberto Campos afirmou: “Nossa Constituição é uma mistura de dicionário de utopias e regulamentação minuciosa do efêmero”.

7

Ao afirmar que nossa Constituição se mostra como um “dicionário de utopias”, o ex-ministro quer dizer que as leis

- (A) estão dispostas em ordem alfabética.
- (B) são de difícil entendimento pelos cidadãos.
- (C) tratam de fatos de difícil ocorrência.
- (D) mostram-se de impossível efetivação.
- (E) se fundamentam em princípios filosóficos.

**8**

Quando, no mesmo pensamento, o ex-ministro declara que nossa Constituição traz “uma regulamentação minuciosa do efêmero”, ele quer mostrar que nossas leis

- (A) se perdem em detalhes inúteis.
- (B) tratam de fatos de rara ocorrência.
- (C) exploram os temas de forma profunda.
- (D) indicam medidas sem aplicabilidade.
- (E) recomendam providências que não se tomam.

**9**

Observe as quatro frases a seguir:

1. Pequenas coisas só afetam as mentes pequenas.
2. Estupidez consiste em querer chegar a conclusões. Nós somos um fio e querere conhecer o pano todo.
3. Minha única razão para mencionar isto é que isto é irrelevante.
4. Se você pensa que é muito pequeno para fazer diferença, tente dormir em um quarto fechado com um mosquito.

Essas quatro frases estão relacionadas a um tema, que é:

- (A) a insignificância dos homens.
- (B) a impossibilidade do conhecimento.
- (C) os riscos da vida.
- (D) a presença do pecado.
- (E) a fraqueza humana.

**ATENÇÃO: o enunciado a seguir refere-se às duas próximas questões.**

“Discutir segurança pública e seus desafios em tempos de pandemia remete a alguns aspectos centrais. Por um lado, a redução sem precedentes da circulação de pessoas nas ruas, decorrente das medidas de isolamento social, levanta dúvidas sobre como serão afetados os índices de criminalidade — dentro e fora do ambiente doméstico. Por outro, cabe avaliar como a atuação policial tem se adaptado aos novos riscos representados pela exposição ao vírus. Afinal, trata-se de um serviço essencial que não pode parar.”

**10**

Sobre os componentes desse segmento textual, pode-se afirmar que

- (A) a frase “remete a alguns aspectos centrais” é explicitada no restante do texto.
- (B) “decorrente das medidas de isolamento social” mostra a consequência da redução de circulação de pessoas nas ruas.
- (C) “dentro e fora do ambiente doméstico” sugere que o número de crimes vai aumentar no interior das casas.
- (D) “novos riscos representados pela exposição ao vírus” sugere que a atuação policial não vai sofrer modificações.
- (E) “que não pode parar” indica a maior necessidade de policiamento durante a pandemia.

**11**

No texto, há uma série de ocorrências da preposição “de”; a frase em que essa preposição é solicitada por um termo anterior é

- (A) “em tempos de pandemia”.
- (B) “a redução sem precedentes da circulação de pessoas”.
- (C) “medidas de isolamento social”.
- (D) “os índices de criminalidade”.
- (E) “trata-se de um serviço essencial”.

**12**

“Algumas vezes o melhor meio de convencer alguém que está errado é deixá-lo seguir seu caminho”.

Abaixo foram propostas substituições para termos desse pensamento; a substituição adequada é:

- (A) “Algumas vezes” = “Frequentemente”.
- (B) “de convencer alguém” = “de convenção de alguém”.
- (C) “de convencer alguém” = “de convencimento a alguém”.
- (D) “que está errado” = de que está errado.
- (E) “deixa-lo seguir” = deixar-lhe a sequência.

**13**

A frase abaixo que mostra um erro quanto à colocação de um pronome pessoal é:

- (A) “Não são apenas nossos erros que nos arruinam, mas o modo como agimos depois de cometê-los”.
- (B) “Admita seus erros antes que alguém exagere-os”.
- (C) “Existe, sem dúvida, um remédio para cada culpa: reconhecê-la”;
- (D) “A maioria das pessoas gasta mais tempo e energia ao falar dos problemas do que ao enfrentá-los”.
- (E) “Aprendi com a primavera a deixar-me cortar e voltar sempre inteira”.

**ATENÇÃO: o enunciado a seguir refere-se às duas próximas questões.**

Numa reunião de estudos, foram sugeridas algumas medidas para a proteção dos agentes de segurança durante a pandemia, entre elas:

1. Garantir Equipamentos de Proteção Individual (EPIs) que protejam os profissionais da segurança pública e do sistema prisional.
2. Reforçar a estrutura de hospitais dedicados aos profissionais de segurança e priorizar a testagem destes.
3. Apoiar e fortalecer o trabalho das forças de segurança a partir da colaboração federativa entre União, Estados e Municípios.
4. Monitorar e reorientar o trabalho das forças de segurança para lidar com os novos problemas de segurança, bem como ter políticas claras de uso da força para lidar com novos desafios surgidos com a crise.
5. Estabelecer mecanismos seguros e confiáveis para o registro das mortes (garantindo insumos para testagem obrigatória e investigação de todas as mortes suspeitas).

**14**

Todas as medidas se iniciam com verbos no infinitivo; a substituição desses infinitivos por substantivos correspondentes, é inadequada no seguinte caso:

- (A) Garantir equipamentos / Garantização de equipamentos.
- (B) Reforçar a estrutura / Reforço da estrutura.
- (C) Apoiar e fortalecer o trabalho / Apoiamento e fortalecimento do trabalho.
- (D) Monitorar e reorientar o trabalho / Monitoração e reorientação do trabalho.
- (E) Estabelecer mecanismos seguros / Estabelecimento de mecanismos seguros.

15

As medidas de proteção citadas visam à proteção específica dos agentes de segurança pública; a proteção da medida destacada que está erradamente identificada é:

- (A) Medida 1 – proteção contra a contaminação da Covid.
- (B) Medida 2 – prioridade de testagem para os agentes.
- (C) Medida 3 – união das forças de segurança para maior proteção.
- (D) Medida 4 – readaptação das forças de segurança diante de novos desafios.
- (E) Medida 5 – garantia de registro confiável das mortes ocorridas entre a população durante a pandemia.

## Raciocínio Lógico-Matemático

16

Eva, Bia e Gal encontraram-se para almoçar e estavam com bolsas parecidas, mas com cores diferentes. Uma bolsa era cinza, outra era marrom e outra era preta.

Das afirmativas seguintes, **somente uma** é verdadeira:

- Eva está com a bolsa preta.
- Bia não está com a bolsa marrom.
- Gal não está com a bolsa preta.

É correto afirmar que

- (A) Eva tem a bolsa marrom.
- (B) Bia tem a bolsa preta.
- (C) Gal tem a bolsa marrom.
- (D) Eva tem a bolsa cinza.
- (E) Bia não tem a bolsa cinza.

17

A Secretaria de Segurança Pública do Estado do Amazonas registrou as ocorrências de roubo de veículos em Manaus nos últimos anos. No ano de 2019 foram 2440 ocorrências e no ano seguinte, 1880.

Nesse período, as ocorrências de roubo de veículos em Manaus diminuíram em cerca de

- (A) 14%.
- (B) 17%.
- (C) 20%.
- (D) 23%.
- (E) 26%.

18

Um encontro de família foi organizado por 5 casais. Cada um desses casais teve 4 filhos, todos casados e com 3 filhos cada um. Todas as pessoas citadas compareceram ao encontro.

O número de pessoas nesse encontro de família é

- (A) 70.
- (B) 80.
- (C) 90.
- (D) 100.
- (E) 110.

19

Para o novo cartão de crédito, Renato precisa cadastrar uma senha de 4 dígitos de 0 a 9. Como nasceu em 1998 decidiu que sua senha terá dois “noves” em qualquer posição, mais dois dígitos diferentes de 9 e diferentes entre si. Por exemplo, 0959 e 2399 são senhas que Renato pode escolher.

O número total de senhas que Renato poderá escolher

- (A) é menor que 300.
- (B) está entre 300 e 350.
- (C) está entre 351 e 400.
- (D) está entre 401 e 450.
- (E) é maior que 451.

20

Os alunos de uma turma estavam se preparando para um concurso. Constatou-se que: a terça parte do total de alunos torce pelo Manaus FC, a quarta parte do total de alunos torce pelo Nacional-AM, e os 35 alunos restantes torcem por outros clubes ou não são ligados em futebol.

O número de alunos dessa turma que torcem pelo Manaus FC é

- (A) 21.
- (B) 25.
- (C) 26.
- (D) 28.
- (E) 35.

21

O concurso para novos funcionários de um aeroporto internacional exigia que cada candidato falasse uma língua diferente do português. Os 38 candidatos aprovados foram divididos em 4 grupos de acordo com as línguas estrangeiras que falam:

Grupo 1 – candidatos que falam inglês e espanhol, apenas.

Grupo 2 – candidatos que falam inglês, apenas.

Grupo 3 – candidatos que falam espanhol, apenas.

Grupo 4 – candidatos que falam apenas alguma outra língua diferente do inglês e do espanhol.

Dessa arrumação constatou-se que:

- Os grupos 1, 2 e 3 possuem o mesmo número de pessoas.
- 2 pessoas falam apenas francês, 2 falam apenas alemão e 1 fala apenas italiano.

O número de candidatos que falam apenas uma língua além do português é igual a

- (A) 11.
- (B) 15.
- (C) 22.
- (D) 23.
- (E) 27.

22

Seis cartas estão em uma caixa; em cada uma delas está escrita uma das seis letras: A, B, C, D, E, F, e cada letra só aparece uma vez.

Retirando da caixa, simultaneamente e ao acaso, duas cartas, a probabilidade de que as cartas A ou C sejam sorteadas é

- (A)  $1/2$ .
- (B)  $2/5$ .
- (C)  $3/5$ .
- (D)  $7/15$ .
- (E)  $8/15$ .

**23**

Considere a afirmação:

“Hoje é sexta-feira e amanhã não trabalharei”.

A negação lógica dessa sentença é

- (A) Hoje não é sexta-feira e amanhã trabalharei.
- (B) Hoje não é sexta-feira ou amanhã trabalharei.
- (C) Hoje não é sexta-feira, então amanhã trabalharei.
- (D) Hoje é sexta-feira e amanhã trabalharei.
- (E) Hoje é sexta-feira ou amanhã não trabalharei.

**24**

Caminhando em um ritmo constante de 2 passos por segundo, Alexandre foi de sua casa ao colégio em 20 minutos.

Com passos iguais aos anteriores, caminhando ao ritmo constante de 3 passos por segundo, Alexandre percorrerá o trajeto de sua casa ao colégio em

- (A) 12 minutos.
- (B) 13 minutos e 20 segundos.
- (C) 15 minutos e 10 segundos.
- (D) 18 minutos e 30 segundos.
- (E) 30 minutos.

**25**

Sabe-se que a sentença “Patrícia é amazonense ou Marlene não nasceu em Manaus” é FALSA.

É correto concluir que

- (A) se Patrícia não é amazonense, então Marlene não nasceu em Manaus.
- (B) Patrícia não é amazonense e Marlene não nasceu em Manaus.
- (C) se Marlene nasceu em Manaus, então Patrícia é amazonense.
- (D) se Patrícia é amazonense, então Marlene não nasceu em Manaus.
- (E) Patrícia é amazonense e Marlene nasceu em Manaus.

**26**

Considere uma operação entre números inteiros maiores do que zero, representada pelo símbolo  $\&$  e definida como:

$a\&b = 3a + b$ , sendo  $a$  e  $b$  números inteiros positivos.

Considere também o conjunto  $C$  cujos elementos são os números inteiros  $x$ , maiores do que zero, tais que  $x\&2$  seja múltiplo de 4 e menor do que 40.

O número de elementos do conjunto  $C$  é igual a

- (A) 1.
- (B) 2.
- (C) 3.
- (D) 4.
- (E) 5.

**27**

Em um triângulo retângulo  $ABC$ , com ângulo reto no vértice  $A$ , a mediana  $AM$  relativa à hipotenusa mede  $3\text{cm}$  e o ângulo  $ABC$  mede  $75^\circ$ . A área do triângulo  $ABC$ , em centímetros quadrados, é:

- (A)  $\frac{9}{2}$ .
- (B)  $\frac{9\sqrt{3}}{2}$ .
- (C)  $\frac{9\sqrt{3}}{4}$ .
- (D)  $4\sqrt{3}$ .
- (E) 6.

**28**

Em um plano cartesiano, define-se a “distância do taxista” entre dois pontos  $P_1(x_1, y_1)$  e  $P_2(x_2, y_2)$ , representada por  $d(P_1, P_2)$ , como sendo  $d(P_1, P_2) = |x_1 - x_2| + |y_1 - y_2|$ .

Dados os pontos  $A(1, 6)$ ,  $B(2, 2)$  e  $C(4, 4)$ , é correto afirmar que

- (A)  $d(A, B) > d(A, C) > d(B, C)$ .
- (B)  $d(A, B) = d(A, C) > d(B, C)$ .
- (C)  $d(A, B) < d(A, C) = d(B, C)$ .
- (D)  $d(A, B) > d(A, C) = d(B, C)$ .
- (E)  $d(A, B) = d(A, C) = d(B, C)$ .

**29**

Os 9 números 1, 4, 7, 10, 13, 16, 19, 22, 25 são colocados, sem repetição, em uma tabela (matriz)  $3 \times 3$ , isto é, com 3 linhas e 3 colunas, de modo que a soma dos números de cada coluna seja sempre a mesma.

Essa soma dos elementos de cada coluna, que é sempre a mesma, é igual a

- (A) 37.
- (B) 38.
- (C) 39.
- (D) 40.
- (E) 41.

**30**

Laurindo pagou uma conta atrasada, com multa e juros, no valor total de R\$ 1470,00. Multa e juros corresponderam a 5% do valor original que Laurindo deveria pagar.

O valor original que Laurindo deveria pagar era

- (A) R\$ 1350,00.
- (B) R\$ 1396,50.
- (C) R\$ 1400,00.
- (D) R\$ 1422,50.
- (E) R\$ 1430,00.

## Geografia do Amazonas

31

A Hidrelétrica de Balbina foi construída no rio Uatumã, no estado do Amazonas, para fornecer energia para a cidade de Manaus, e foi inaugurada no final da década de 1980.

Sobre a produção energética e os impactos ambientais associados à Hidrelétrica Balbina, assinale V para a afirmativa verdadeira e F para a falsa.

- ( ) A capacidade instalada de geração de energia de Balbina é a maior entre as hidrelétricas da região amazônica.
- ( ) O enchimento do reservatório afogou florestas e formou uma paisagem fragmentada de ilhas isoladas.
- ( ) O aumento na acidez da água da represa, causado pela decomposição da vegetação, pode causar a corrosão das turbinas.

As afirmativas são, respectivamente,

- (A) F – V – F.
- (B) F – V – V.
- (C) V – F – F.
- (D) V – V – F.
- (E) F – F – V.

32

Em meados do século XVIII, durante o governo do Marquês de Pombal (1750-1777), a Coroa Portuguesa procurou estender a posse sobre os territórios não ocupados no continente americano, garantir a soberania sobre as áreas consideradas ocupadas, incentivar o crescimento econômico e aumentar a arrecadação colonial.

Nesse período, uma das principais ações da Coroa Portuguesa para garantir o controle do território amazônico consistiu

- (A) na criação das primeiras missões jesuítas no vale amazônico.
- (B) na expansão da monocultura da borracha para as zonas de fronteira.
- (C) na promoção de centros de mineração de ouro nas áreas das chapadas.
- (D) na edificação de fortificações em pontos estratégicos da bacia amazônica.
- (E) na compra de terras nas serranias para a exploração da pecuária intensiva.

33

Na Bacia Amazônica os rios se diferenciam, principalmente, em função da quantidade de sedimentos transportados e da composição química de suas águas, que, por sua vez, estão relacionadas com a geologia, a geomorfologia e com os solos das áreas drenadas.

Os rios que nascem no Planalto das Guianas, sobre rochas antigas e resistentes, ou na própria planície Amazônica, em áreas de baixíssima declividade e solos arenosos, ricos em matéria orgânica e extremamente pobres em nutrientes, são denominados

- (A) rios de águas brancas.
- (B) rios de águas pretas.
- (C) rios de águas claras.
- (D) rios de terra firme.
- (E) rios de várzea.

34

Sobre a relação entre o *boom* da borracha (1850-1912) e o povoamento da Amazônia, analise as afirmativas a seguir.

- I. Durante o período houve um aumento da população total da região amazônica.
- II. As frentes de exploração da borracha foram se deslocando para os altos vales dos afluentes do Amazonas.
- III. No período do *boom* da borracha houve um importante fluxo migratório de trabalhadores da Região Sul do país em direção à Amazônia.

Está correto o que se afirma em

- (A) I, apenas.
- (B) II, apenas.
- (C) III, apenas.
- (D) I e II, apenas.
- (E) I, II e III.

35

A exploração de produtos florestais não madeireiros é realizada na Amazônia desde os primórdios da ocupação humana e caracterizou os ciclos econômicos na região até a década de 1970.

Na atualidade, o principal produto extrativo do estado do Amazonas, em termos de valor da produção, é

- (A) a Carnaúba.
- (B) a Erva-Mate.
- (C) o Açaí (fruto).
- (D) a Borracha natural.
- (E) a Castanha-do-Pará.

36

Segundo o Instituto Socioambiental (ISA), na Amazônia Legal vivem 173 povos em 405 Terras Indígenas, que somam 1.085.890 quilômetros quadrados, ou 21,7% da região. Ainda de acordo com o ISA, as Terras Indígenas amazônicas sofrem pressões socioambientais resultantes de diversas atividades econômicas.

Ao longo do ano de 2020, aproximadamente 500 hectares de floresta foram devastados na Terra Indígena Yanomami, segundo o relatório produzido pela Hutukara Associação Yanomami e pela Associação Wanasseduume Ye'kwana. Esta supressão florestal se deve, majoritariamente,

- (A) ao garimpo ilegal.
- (B) à pecuária extensiva.
- (C) à exploração de petróleo.
- (D) aos projetos hidrelétricos.
- (E) ao manejo florestal comunitário.

**37**

De acordo com o boletim “Amazônia em Chamas”, publicado pelo Instituto de Pesquisa Ambiental da Amazônia (IPAM), entre 2019 e 2021, a perda de floresta na região ultrapassou os 10 mil km<sup>2</sup> ao ano.

Com relação ao desmatamento na Amazônia entre 2019 e 2021, assinale V para a afirmativa verdadeira e F para a falsa.

- ( ) As terras públicas apresentaram um aumento da área desmatada em relação ao triênio anterior.
- ( ) No conjunto da região observou-se uma queda do desmatamento em relação ao triênio anterior.
- ( ) Entre as terras públicas, as Terras Indígenas apresentaram os maiores percentuais de desmatamento no triênio.

As afirmativas são, respectivamente,

- (A) F – V – F.
- (B) F – V – V.
- (C) V – F – F.
- (D) V – V – F.
- (E) F – F – V.

**38**

O Bioma Amazônia corresponde a cerca de 49% do território brasileiro. É caracterizado pelo clima dominante quente e úmido, a predominância da fisionomia florestal e pelo próprio contexto da Bacia do rio Amazonas, que possui a maior rede hidrográfica do planeta.

Sobre a importância da conservação deste bioma, analise as afirmativas a seguir.

- I. O Bioma Amazônia contribui para o desenvolvimento da biotecnologia por seu estoque de material genético.
- II. O Bioma Amazônia contribui para acelerar o aquecimento global por seu estoque e sua capacidade de fixação de carbono.
- III. O Bioma Amazônia contribui para a manutenção das características do clima regional pela transferência de grandes quantidades de vapor d’água para a atmosfera.

Está correto o que se afirma em

- (A) I, apenas.
- (B) II, apenas.
- (C) III, apenas.
- (D) I e III, apenas.
- (E) I, II e III.

**39**

Entre as zonas de garimpo de ouro que se encontram em território amazônico, aquela que está situada na divisa entre os estados de Rondônia e Amazonas, na qual o ouro se encontra depositado em forma de sedimentos no canal fluvial, nos bancos de areia ou nas margens dos rios e onde a extração se desenvolve sobretudo por meio de balsas e dragas é conhecida como região aurífera

- (A) do Rio Madeira.
- (B) de Serra Pelada.
- (C) de Alta Floresta.
- (D) do Alto Rio Negro.
- (E) de Porto e Lacerda.

**40**

Leia o fragmento a seguir.

A distribuição espacial dos compartimentos do relevo é desigual ao longo do território brasileiro. No Estado do Amazonas, por exemplo, predominam compartimentos de \_\_\_\_\_ (70%) e de \_\_\_\_\_ (15%), e sua altimetria é majoritariamente inferior a 100 m, o que demonstra o caráter \_\_\_\_\_ da região.

Assinale a alternativa cujos itens completam corretamente as lacunas do fragmento acima.

- (A) planície – chapada – soerguido.
- (B) planície – planalto – desnudado.
- (C) tabuleiro – planície – desnudado.
- (D) depressão – chapada – soerguido.
- (E) depressão – planície – desnudado.

## História do Amazonas

**41**

Tendo em vista o processo de formação territorial do Brasil, analise as afirmativas a seguir.

- I. Durante a União Ibérica, a expedição de Pedro Teixeira (1637-1639) ajudou a Coroa portuguesa a tomar posse da região amazônica e a expandir as fronteiras assinaladas pelo Tratado de Tordesilhas (1494).
- II. Em meados do século XVIII, foi assinado o Tratado de Madri (1750) para definir os limites das possessões espanholas e lusas na América do Sul, com base no princípio do direito romano de propriedade (*uti possidetis, ita possideatis*).
- III. Em 1777, Espanha e Portugal firmam o tratado de Santo Ildefonso, que expandiu ainda mais o território português na América, mediante a compra do atual Estado do Acre, então pertencente ao vice-reino do Peru.

Está correto o que se afirma em

- (A) I, apenas.
- (B) I e II, apenas.
- (C) I e III, apenas.
- (D) II e III, apenas.
- (E) I, II e III.

**42**

Leia o trecho da entrevista do escritor manauense Márcio Souza comentando um trecho de seu História da Amazônia (2019):

“Um movimento de veículos de toda a sorte, um vaivém contínuo, que parecia mais um grande centro europeu do que uma cidade tropical”, disse um viajante europeu sobre a Belém do fim do século 19. “A mais refinada das civilizações chegou até o rio Negro”, teria afirmado outro, em referência ao Teatro Amazonas, erguido em Manaus. Entre 1870 e 1910, o extrativismo da borracha trouxe prosperidade e europeização para as grandes cidades amazônicas. Algo, obviamente, desfrutado apenas por uma minoria. Por debaixo da opulência, se encontrava “a mais criminosa organização do trabalho que ainda engendrou o mais desacomodado egoísmo”, conforme a descrição de Euclides da Cunha das condições dos seringueiros em ‘À Margem da História’, citado em ‘História da Amazônia’.”

(<https://www.nexojournal.com.br>)

Assinale a afirmativa que interpreta corretamente os impactos do desenvolvimento da economia gomífera indicados no texto.

- (A) O auge da borracha atraiu massas de trabalhadores, impactando o sistema rodoviário de Belém e Manaus.
- (B) O sistema de trabalho nos seringais era similar ao das indústrias europeias, com longas jornadas e baixos salários.
- (C) Os seringueiros estavam à margem da história, pois não se beneficiavam com o progresso industrial de Belém e Manaus.
- (D) A exportação do látex amazônico custeou o embelezamento urbano de Manaus, transformada em “Miami brasileira”.
- (E) A prosperidade da borracha permitiu reestruturar em estilo europeu as principais cidades da Amazônia.

**43**

A respeito da economia e sociedade dos ciclos da borracha, analise as afirmativas a seguir e assinale V para a afirmativa verdadeira e F para a falsa.

- ( ) A descoberta do processo de vulcanização da borracha ampliou as possibilidades de suas aplicações na indústria, por aumentar sua resistência e durabilidade.
- ( ) O regime de exploração dos seringueiros provocava um endividamento do seringueiro, que não tinha outra alternativa a não ser continuar a trabalhar em péssimas condições.
- ( ) As estradas de seringueiras eram construídas em forma de gota para que, ao fim da estrada, o seringueiro estivesse novamente próximo ao início.

As afirmativas são, de cima para baixo,

- (A) F – F – V.
- (B) F – V – V.
- (C) V – F – F.
- (D) V – V – F.
- (E) V – V – V.

**44**

O contato dos europeus com os ameríndios no início da época moderna criou a necessidade de “traduzir” as populações nativas para o universo mental ocidental.

A esse respeito, estabeleça a correspondência entre os vocábulos utilizados para identificar os povos indígenas e seus respectivos significados.

- |   |   |
|---|---|
| <ul style="list-style-type: none"> <li>1. Gentios</li> <li>2. Negros da Terra</li> <li>3. Tapuia</li> </ul> | <ul style="list-style-type: none"> <li>( ) Vocábulo em geral utilizado pelos senhores escravocratas para designar os índios de maneira genérica e diferenciá-los dos negros da Guiné (os africanos).</li> <li>( ) Vocábulo tupi utilizado pelos colonos europeus para classificar as comunidades indígenas que não falavam a “língua geral”.</li> <li>( ) Vocábulo em geral utilizado pelos missionários, como sinônimo de pagão, para indicar que os indígenas não eram cristãos.</li> </ul> |
|---|---|

Assinale a opção que indica a correspondência correta, de cima para baixo.

- (A) 1, 3 e 2.
- (B) 2, 3 e 1.
- (C) 3, 1 e 2.
- (D) 1, 2 e 3.
- (E) 2, 1 e 3.

**45**

As missões desempenharam um papel importante na ocupação territorial do vale amazônico durante o período colonial, mas as disputas entre elas exigiram uma intervenção da Coroa que, mediante cartas régias, fixou as áreas de atuação das principais ordens.

Assinale a afirmativa que relaciona corretamente a ordem religiosa à região em que atuou predominantemente.

- (A) Os mercedários instalaram aldeias missionárias no Baixo Amazonas, tendo como centro Gurupá.
- (B) Os capuchinhos ficaram com as missões do Urubu, Anibá, Uatumã e trechos do Baixo Amazonas.
- (C) Os carmelitas criaram fundaram missões e fazendas ao longo dos territórios dos rios Negro e Solimões.
- (D) Os jesuítas criaram as missões no “Cabo do Norte” (atual Amapá), instalando aldeamentos em Marajó e Norte do Rio Amazonas.
- (E) Os franciscanos de Santo Antônio ficaram com o sul do rio Amazonas até a fronteira com as possessões espanholas, abrangendo os rios Tocantins, Xingu e Madeira.



46

Em 23 de julho de 1924 eclodiu um movimento militar com a finalidade de depor o governo do Estado do Amazonas.

As afirmativas a seguir caracterizam corretamente a “Rebelião de 1924”, **à exceção de uma**. Assinale-a.

- (A) A rebelião foi causada pela desestruturação dos seringais e das casas aviadoras de Manaus e Belém promovida pela legislação fundiária dos interventores.
- (B) O levante foi liderado pelo Tenente Alfredo Augusto Ribeiro Júnior e contou com a participação de outros capitães e tenentes, originários do sul e do nordeste do Brasil.
- (C) As lideranças apresentavam propostas antioligárquicas, como o saneamento dos salários atrasados por meio da cobrança de um imposto denominado “Tributo da Redenção”.
- (D) Os revoltosos exigiam o afastamento do grupo político do governador Rego Monteiro, sendo apoiados pelo funcionalismo público e pelos opositoristas a esse governo.
- (E) A “Comuna de Manaus” foi sufocada por forças militares federais vindas de Belém, após um mês de seu início, aproximadamente.

47

Em ofício de 08 de agosto de 1836, o general Andreas, que organizava a repressão à revolta dos Cabanos, informou as autoridades da Corte:

“Não estou exagerando as crises a Vossa Excelência, ou esses códigos Criminais e do Processo não de [melhorar] ou ser substituídos por Leis úteis, em que todos vejam garantidos as nossas honras, nossas vidas e nossos bens; ou esta Província há de pertencer a Tapuios, e o resto do Brasil a negros.”

(Arquivo Público do Pará. Correspondência de Governo com a Corte. Códice: 1039 – Ministério da Justiça. Ofício de 8 de agosto de 1836)

É correto afirmar que, no documento, o general

- (A) demonstra o temor da elite com a reforma agrária liderada por Félix Clemente Malcher.
- (B) apela para as autoridades do governo de Lisboa enviarem reforços militares.
- (C) tranquiliza quanto à manutenção da ordem escravista, uma vez que inexistiam quilombos na região.
- (D) expõe a sua descrença na legislação criminal vigente no Império para conter as revoltas sociais.
- (E) omite a participação de indígenas destribalizados, que chegavam a um terço dos rebeldes.

48

Observe o cartaz a seguir, elaborado para estimular os “soldados da borracha”. O slogan da campanha, “Mais Borracha para a Vitória”, indicava a importância que a borracha adquiriu no período.



Os “soldados da borracha” eram

- (A) um contingente de mão de obra mobilizado durante a Primeira Guerra Mundial no Brasil para atender a indústria bélica dos Aliados contra os impérios centrais.
- (B) migrantes nordestinos recrutados durante o governo de Rodrigues Alves, para acelerar a extração de borracha nos seringais da Amazônia e exportar para Europa em guerra.
- (C) trabalhadores brasileiros, comparados a soldados pela campanha de povoamento da Amazônia, região considerada um vazio populacional pelo governo dos militares.
- (D) homens recrutados na região nordeste entre 1943 e 1945 que, sob a patente de soldados, migraram em direção à Amazônia para trabalhar nos seringais.
- (E) seringueiros custeados pelos Estados Unidos, preocupados com a alta do preço do látex que provinha de suas colônias do sudeste asiático, então dominadas pelo Japão.

49

Assinale a opção que indica corretamente uma característica da Zona Franca de Manaus.

- (A) As empresas operam com uma regulamentação cambial mais flexível do que a vigente no território nacional.
- (B) Os acionistas das empresas recebem garantia de sigilo bancário e anonimato.
- (C) As empresas instaladas na zona franca recebem incentivos fiscais e tarifas alfandegárias reduzidas.
- (D) As atividades industriais estão isentas de controle de órgãos reguladores nacionais.
- (E) As montadoras atuam em território internacionalizado, por isso estão isentas de impostos locais.

50

Assinale a alternativa que indica corretamente etapas da expedição de Francisco de Orellana (1542).

- (A) Saiu do Peru, navegou o rio Napo e percorreu o Amazonas até a foz, de onde seguiu para Nova Cádiz.
- (B) Partiu de Quito, percorreu o rio Solimões e chegou em Belém, de onde prosseguiu para São Luiz.
- (C) Partiu de Cameté, percorreu o Amazonas, e chegou em Quito, no Peru, em busca de prata.
- (D) Começou em São Luiz, de onde chegou em Gurupá e percorreu um trecho do Amazonas.
- (E) Partiu de Santa Fé de Bogotá, percorreu o rio Negro e voltou para Quito.

## Noções de Informática

51

Considere uma planilha do MS Excel 2010 que contém:






- na célula A1, o valor 1;
- na célula B1, a fórmula “=A1+1”

Dado que a célula B1 foi copiada e colada na região C1:AZ1, assinale o valor exibido na célula AA1.

- (A) 1
- (B) 2
- (C) 26
- (D) 27
- (E) 52

52

Em relação ao MS Word 2010, assinale a opção que indica o ícone da função que habilita a exibição de marcas de parágrafo e outros símbolos de formatação ocultos.

- (A) 
- (B) 
- (C) 
- (D) 
- (E) 

53

No Windows 10, a utilização da ferramenta administrativa intitulada *Defender Firewall* volta-se para aspectos referentes

- (A) à segurança do computador.
- (B) ao controle das contas dos usuários.
- (C) ao gerenciamento de memória.
- (D) ao gerenciamento do sistema de arquivos.
- (E) às políticas de backup e recuperação pós falhas.

54

No contexto das planilhas eletrônicas, assinale o efeito da operação de mesclagem.

- (A) Aplica nas células selecionadas um formato que combina os formatos originais de cada célula.
- (B) Desenha as linhas de grade que separam as células selecionadas.
- (C) Ordena as células selecionadas em ordem crescente ou decrescente.
- (D) Une as células selecionadas numa célula maior, exibindo um único valor.
- (E) Uniformiza a formatação das células selecionadas.

55

Maria preparou um documento por meio do MS Word 2010, e pretende enviá-lo para vários colegas da sua turma da faculdade. O referido documento contém texto, imagens e tabelas, e Maria sabe que seus colegas usam diferentes equipamentos, com diferentes aplicativos. Sendo assim, Maria deve salvar seu documento, usando o comando “Salvar como” do Word, com um tipo de arquivo preferencialmente acessível a todos.

Assinale o tipo de arquivo mais adequado nesse caso.

- (A) .csv
- (B) .docx
- (C) .pdf
- (D) .txt
- (E) .xps

56

Os componentes do LibreOffice 4.2 que correspondem funcionalmente aos componentes Excel, Word e PowerPoint do Microsoft Office são, na ordem,

- (A) Base, eM e ShowTime.
- (B) Calc, Writer e Impress.
- (C) Lotus, Doc e Visio.
- (D) Math, Write e Presentation.
- (E) WorkSheet, Text e Slide.

57

Maria quer incluir uma citação no documento Word que está preparando. O texto obtido da Internet, com cerca de três parágrafos, deve ser colado e adotar a mesma formatação usada no trecho no qual será exibido.

Assinale a opção que Maria deve utilizar ao colar o texto da citação por meio do comando *Colar* na guia *Página inicial*.

- (A) Colar especial/Formatação HTML.
- (B) Colar especial/Texto não formatado.
- (C) Manter Formatação Original.
- (D) Manter Somente Texto.
- (E) Mesclar Formatação.

**58**

Analise as afirmativas sobre a *Lixeira* do Windows 10.

- I. Os arquivos são deletados definitivamente após 30 dias de permanência na *Lixeira*.
- II. Arquivos deletados de um *pen drive* não são armazenados na *Lixeira*.
- III. A *Lixeira* tem uma capacidade de armazenagem limitada, que pode ser estendida se necessário.

Está correto o que se afirma em

- (A) I, somente.
- (B) II, somente.
- (C) III, somente.
- (D) I e II, somente.
- (E) II e III, somente.

**59**

Considere uma pesquisa no Google a partir do texto de busca mostrado a seguir.

Brazil -brasil

Nesse cenário, imagine a presença de cinco páginas hipotéticas da Internet, cada uma com o respectivo conteúdo mostrado no quadro abaixo.

Página	Conteúdo
1	O Brasil tem mais de 200 milhões de habitantes.
2	Brazil (- Brasil) population: over 200,000,000.
3	Brasil já foi Brazil.
4	Brasil, brasileiro.
5	Brazil, Russia, India, China, South Africa.

Assinale quantas dessas páginas estariam incluídas no resultado da busca.

- (A) Zero.
- (B) Uma.
- (C) Duas.
- (D) Três.
- (E) Quatro.

**60**

Em computadores de mesa e notebooks, as operações *copiar*, *colar* e *recortar* são amplamente disseminadas e empregadas pela maioria dos aplicativos, em especial aqueles destinados à edição de textos. Como essas operações são de uso frequente, há atalhos de teclado que permitem comandá-las com rapidez.

No Windows, os atalhos para essas operações são, na ordem,

- (A) Ctrl-C, Ctrl-L e Ctrl-R.
- (B) Ctrl-C, Ctrl-V e Ctrl-X.
- (C) Ctrl-V, Ctrl-X e Ctrl-V.
- (D) Ctrl-Y, Ctrl-V e Ctrl-X.
- (E) Ctrl-Y, Ctrl-V e Ctrl-Z.

Realização

