



SSP-AM SECRETARIA DE SEGURANÇA PÚBLICA DO AMAZONAS

TARDE

ASSISTENTE OPERACIONAL

NÍVEL MÉDIO TIPO 2 – VERDE



SUA PROVA

- As questões objetivas têm cinco alternativas de resposta (A, B, C, D, E) e somente uma delas está correta;
- Além deste caderno contendo sessenta questões objetivas, você receberá do fiscal de prova a folha de respostas.



TEMPO

- Você dispõe de **3 horas e 30 minutos** para a realização da prova, já incluído o tempo para a marcação da folha de respostas;
- **2 horas** após o início da prova é possível retirar-se da sala, sem levar o caderno de prova;
- A partir dos **15 minutos** anteriores ao término da prova é possível retirar-se da sala **levando o caderno de provas**.



NÃO SERÁ PERMITIDO

- Qualquer tipo de comunicação entre os candidatos durante a aplicação da prova;
- Anotar informações relativas às respostas em qualquer outro meio que não seja o caderno de prova;
- Levantar da cadeira sem autorização do fiscal de sala;
- Usar o sanitário ao término da prova, após deixar a sala.



INFORMAÇÕES GERAIS

- Verifique se seu caderno está completo, sem repetição de questões ou falhas. Caso contrário, notifique imediatamente o fiscal da sala, para que sejam tomadas as devidas providências;
- Confira seus dados pessoais, especialmente nome, número de inscrição e documento de identidade e leia atentamente as instruções para preencher a folha de respostas;
- Use somente caneta esferográfica, fabricada em material transparente, com tinta preta ou azul;
- Assine seu nome apenas no(s) espaço(s) reservado(s);
- Confira seu cargo, cor e tipo do caderno de provas. Caso tenha recebido caderno de cargo ou cor ou tipo **diferente** do impresso em sua folha de respostas, o fiscal deve ser **obrigatoriamente** informado para o devido registro na ata da sala;
- Reserve tempo suficiente para o preenchimento da sua folha de respostas. O preenchimento é de sua responsabilidade e **não será permitida a troca da folha de respostas em caso de erro cometido por você**;
- Para fins de avaliação, serão levadas em consideração apenas as marcações realizadas na folha de respostas;
- A FGV coletará as impressões digitais dos candidatos na folha de respostas;
- Os candidatos serão submetidos ao sistema de detecção de metais quando do ingresso e da saída de sanitários durante a realização das provas;
- **Boa sorte!**

Língua Portuguesa

As questões desta prova, elaboradas a partir de pequenos textos cuja temática está relacionada com a sua futura atividade, pretendem verificar a sua capacidade de interpretar/compreender textos, e de redigir com correção e adequação.

ATENÇÃO: o enunciado a seguir refere-se às duas próximas questões.

O ex-ministro da Fazenda Roberto Campos afirmou: “Nossa Constituição é uma mistura de dicionário de utopias e regulamentação minuciosa do efêmero”.

1

Ao afirmar que nossa Constituição se mostra como um “dicionário de utopias”, o ex-ministro quer dizer que as leis

- (A) estão dispostas em ordem alfabética.
- (B) são de difícil entendimento pelos cidadãos.
- (C) tratam de fatos de difícil ocorrência.
- (D) mostram-se de impossível efetivação.
- (E) se fundamentam em princípios filosóficos.

2

Quando, no mesmo pensamento, o ex-ministro declara que nossa Constituição traz “uma regulamentação minuciosa do efêmero”, ele quer mostrar que nossas leis

- (A) se perdem em detalhes inúteis.
- (B) tratam de fatos de rara ocorrência.
- (C) exploram os temas de forma profunda.
- (D) indicam medidas sem aplicabilidade.
- (E) recomendam providências que não se tomam.

3

“A segurança pública é um direito humano fundamental, essencial à preservação da vida e à garantia de direitos. Portanto, independentemente de condição social, econômica, política, filosófica, a todo ser humano lhe é assegurado o direito de viver em segurança.”

Assinale a afirmação correta sobre o conteúdo desse texto.

- (A) A segurança pública é uma causa da existência dos direitos humanos.
- (B) Os direitos humanos diferem em função das condições sociais dos cidadãos.
- (C) Entre os direitos humanos fundamentais está a segurança de todos.
- (D) A segurança pública garante a todos o direito à vida.
- (E) Os direitos sociais, econômicos, políticos e filosóficos são garantidos pela segurança pública.

4

Um jurista conhecido disse: “O grande mal do Brasil tem sido o crime sem castigo. O que reduz a criminalidade é a certeza da punição”.

Esse pensamento está dividido em dois períodos, separados por um ponto. Em relação ao primeiro período, o segundo mostra a seguinte função:

- (A) explicar o que é um crime sem castigo.
- (B) indicar a consequência de os crimes ficarem impunes.
- (C) justificar a opinião dada anteriormente.
- (D) mostrar outro parecer independente do primeiro.
- (E) retificar uma falha do pensamento anterior.

5

Uma famosa série televisiva dos anos 90 tinha um protagonista que declarou o seguinte em um dos capítulos: “Como policial perdi muitos casos devido a truques jurídicos, mas eu acreditava no sistema. Como promotor perdi muitos casos para advogados corruptos, mas eu acreditava no sistema. Como juiz eu procurei seguir a lei ao pé da letra, porque eu acreditava no sistema... até eles destruírem minha família. Daí eu parei de acreditar no sistema e passei a acreditar na Justiça”.

Deduz-se dessa fala que, para esse personagem,

- (A) a crença no sistema foi uma boa decisão.
- (B) a família do protagonista foi destruída por agentes da lei.
- (C) a justiça e o sistema formam um só corpo.
- (D) o sistema não garante a justiça.
- (E) a justiça só é feita no plano religioso.

6

“A Justiça é cega. E às vezes lenta e gananciosa. A figura de Thêmis, deusa grega da Justiça, costuma ser representada por uma mulher segurando uma balança em uma das mãos e uma espada em outra. A venda nos olhos veio só no século XIV, quando os alemães acharam que seria uma boa para representar a imparcialidade e ausência de preconceitos.”

Sobre essa imagem mitológica da Justiça, assinale a única afirmativa correta.

- (A) A justiça é cega porque às vezes comete injustiças.
- (B) A justiça é lenta porque demora a decidir as causas.
- (C) A balança indica o peso da culpa nos criminosos.
- (D) A espada mostra a violência das penas judiciais.
- (E) A venda nos olhos mostra a justiça como irresponsável.

7

O ex-presidente americano Thomas Jefferson declarou que “Fundamental é aplicar a lei a homens de todas as condições”.

O segmento sublinhado traz um verbo no infinitivo e, por isso, a oração em que esse segmento está inserido denomina-se reduzida de infinitivo.

A forma de oração desenvolvida adequada desse segmento é

- (A) que se aplicasse.
- (B) que a lei fosse aplicada.
- (C) a lei ser aplicada.
- (D) a aplicação da lei.
- (E) que se aplique.

8

Nosso grande escritor Machado de Assis escreveu em uma de suas crônicas: “Creio em poucas coisas, e uma das que entram no meu credo é a justiça, tanto a do céu como a da terra, assim a pública como a particular”.

Considerando os componentes desse pensamento, podemos afirmar que:

- (A) a afirmação mais importante do pensamento é a de que Machado crê integralmente na justiça.
- (B) os argumentos que defendem a afirmação inicial são “tanto a do céu como a da terra, assim a pública como a particular”.
- (C) a afirmação inicial do texto é fruto dos inúmeros estudos do autor na área jurídica.
- (D) a declaração de que a justiça entra no seu credo, mostra o caráter religioso da afirmação feita.
- (E) a expressão “tanto a do céu como a da terra” tem valor comparativo entre esses dois tipos de justiça.

ATENÇÃO: o enunciado a seguir refere-se às duas próximas questões.

Numa reunião de estudos, foram sugeridas algumas medidas para a proteção dos agentes de segurança durante a pandemia, entre elas:

1. Garantir Equipamentos de Proteção Individual (EPIs) que protejam os profissionais da segurança pública e do sistema prisional.
2. Reforçar a estrutura de hospitais dedicados aos profissionais de segurança e priorizar a testagem destes.
3. Apoiar e fortalecer o trabalho das forças de segurança a partir da colaboração federativa entre União, Estados e Municípios.
4. Monitorar e reorientar o trabalho das forças de segurança para lidar com os novos problemas de segurança, bem como ter políticas claras de uso da força para lidar com novos desafios surgidos com a crise.
5. Estabelecer mecanismos seguros e confiáveis para o registro das mortes (garantindo insumos para testagem obrigatória e investigação de todas as mortes suspeitas).

9

Todas as medidas se iniciam com verbos no infinitivo; a substituição desses infinitivos por substantivos correspondentes, é inadequada no seguinte caso:

- (A) Garantir equipamentos / Garantização de equipamentos.
- (B) Reforçar a estrutura / Reforço da estrutura.
- (C) Apoiar e fortalecer o trabalho / Apoiamento e fortalecimento do trabalho.
- (D) Monitorar e reorientar o trabalho / Monitoração e reorientação do trabalho.
- (E) Estabelecer mecanismos seguros / Estabelecimento de mecanismos seguros.

10

As medidas de proteção citadas visam à proteção específica dos agentes de segurança pública; a proteção da medida destacada que está erradamente identificada é:

- (A) Medida 1 – proteção contra a contaminação da Covid.
- (B) Medida 2 – prioridade de testagem para os agentes.
- (C) Medida 3 – união das forças de segurança para maior proteção.
- (D) Medida 4 – readaptação das forças de segurança diante de novos desafios.
- (E) Medida 5 – garantia de registro confiável das mortes ocorridas entre a população durante a pandemia.

11

Observe as quatro frases a seguir:

1. Pequenas coisas só afetam as mentes pequenas.
2. Estupidez consiste em querer chegar a conclusões. Nós somos um fio e quer conhecer o pano todo.
3. Minha única razão para mencionar isto é que isto é irrelevante.
4. Se você pensa que é muito pequeno para fazer diferença, tente dormir em um quarto fechado com um mosquito.

Essas quatro frases estão relacionadas a um tema, que é:

- (A) a insignificância dos homens.
- (B) a impossibilidade do conhecimento.
- (C) os riscos da vida.
- (D) a presença do pecado.
- (E) a fraqueza humana.

ATENÇÃO: o enunciado a seguir refere-se às duas próximas questões.

“Discutir segurança pública e seus desafios em tempos de pandemia remete a alguns aspectos centrais. Por um lado, a redução sem precedentes da circulação de pessoas nas ruas, decorrente das medidas de isolamento social, levanta dúvidas sobre como serão afetados os índices de criminalidade — dentro e fora do ambiente doméstico. Por outro, cabe avaliar como a atuação policial tem se adaptado aos novos riscos representados pela exposição ao vírus. Afinal, trata-se de um serviço essencial que não pode parar.”

12

Sobre os componentes desse segmento textual, pode-se afirmar que

- (A) a frase “remete a alguns aspectos centrais” é explicitada no restante do texto.
- (B) “decorrente das medidas de isolamento social” mostra a consequência da redução de circulação de pessoas nas ruas.
- (C) “dentro e fora do ambiente doméstico” sugere que o número de crimes vai aumentar no interior das casas.
- (D) “novos riscos representados pela exposição ao vírus” sugere que a atuação policial não vai sofrer modificações.
- (E) “que não pode parar” indica a maior necessidade de policiamento durante a pandemia.

13

No texto, há uma série de ocorrências da preposição “de”; a frase em que essa preposição é solicitada por um termo anterior é

- (A) “em tempos de pandemia”.
- (B) “a redução sem precedentes da circulação de pessoas”.
- (C) “medidas de isolamento social”.
- (D) “os índices de criminalidade”.
- (E) “trata-se de um serviço essencial”.

14

“Algumas vezes o melhor meio de convencer alguém que está errado é deixá-lo seguir seu caminho”.

Abaixo foram propostas substituições para termos desse pensamento; a substituição adequada é:

- (A) “Algumas vezes” = “Frequentemente”.
- (B) “de convencer alguém” = “de convencção de alguém”.
- (C) “de convencer alguém” = “de convencimento a alguém”.
- (D) “que está errado” = de que está errado.
- (E) “deixa-lo seguir” = deixar-lhe a sequência.

15

A frase abaixo que mostra um erro quanto à colocação de um pronome pessoal é:

- (A) “Não são apenas nossos erros que nos arruinam, mas o modo como agimos depois de cometê-los”.
- (B) “Admita seus erros antes que alguém exagere-os”.
- (C) “Existe, sem dúvida, um remédio para cada culpa: reconhecê-la”;
- (D) “A maioria das pessoas gasta mais tempo e energia ao falar dos problemas do que ao enfrentá-los”.
- (E) “Aprendi com a primavera a deixar-me cortar e voltar sempre inteira”.

Raciocínio Lógico-Matemático

16

Considere a afirmação:

“Hoje é sexta-feira e amanhã não trabalharei”.

A negação lógica dessa sentença é

- (A) Hoje não é sexta-feira e amanhã trabalharei.
- (B) Hoje não é sexta-feira ou amanhã trabalharei.
- (C) Hoje não é sexta-feira, então amanhã trabalharei.
- (D) Hoje é sexta-feira e amanhã trabalharei.
- (E) Hoje é sexta-feira ou amanhã não trabalharei.

17

Seis cartas estão em uma caixa; em cada uma delas está escrita uma das seis letras: A, B, C, D, E, F, e cada letra só aparece uma vez.

Retirando da caixa, simultaneamente e ao acaso, duas cartas, a probabilidade de que as cartas A ou C sejam sorteadas é

- (A) $1/2$.
- (B) $2/5$.
- (C) $3/5$.
- (D) $7/15$.
- (E) $8/15$.

18

Os alunos de uma turma estavam se preparando para um concurso. Constatou-se que: a terça parte do total de alunos torce pelo Manaus FC, a quarta parte do total de alunos torce pelo Nacional-AM, e os 35 alunos restantes torcem por outros clubes ou não são ligados em futebol.

O número de alunos dessa turma que torcem pelo Manaus FC é

- (A) 21.
- (B) 25.
- (C) 26.
- (D) 28.
- (E) 35.

19

O concurso para novos funcionários de um aeroporto internacional exigia que cada candidato falasse uma língua diferente do português. Os 38 candidatos aprovados foram divididos em 4 grupos de acordo com as línguas estrangeiras que falam:

Grupo 1 – candidatos que falam inglês e espanhol, apenas.

Grupo 2 – candidatos que falam inglês, apenas.

Grupo 3 – candidatos que falam espanhol, apenas.

Grupo 4 – candidatos que falam apenas alguma outra língua diferente do inglês e do espanhol.

Dessa arrumação constatou-se que:

- Os grupos 1, 2 e 3 possuem o mesmo número de pessoas.
- 2 pessoas falam apenas francês, 2 falam apenas alemão e 1 fala apenas italiano.

O número de candidatos que falam apenas uma língua além do português é igual a

- (A) 11.
- (B) 15.
- (C) 22
- (D) 23.
- (E) 27.

20

Para o novo cartão de crédito, Renato precisa cadastrar uma senha de 4 dígitos de 0 a 9. Como nasceu em 1998 decidiu que sua senha terá dois “noves” em qualquer posição, mais dois dígitos diferentes de 9 e diferentes entre si. Por exemplo, 0959 e 2399 são senhas que Renato pode escolher.

O número total de senhas que Renato poderá escolher

- (A) é menor que 300.
- (B) está entre 300 e 350.
- (C) está entre 351 e 400.
- (D) está entre 401 e 450.
- (E) é maior que 451.

21

Um encontro de família foi organizado por 5 casais. Cada um desses casais teve 4 filhos, todos casados e com 3 filhos cada um. Todas as pessoas citadas compareceram ao encontro.

O número de pessoas nesse encontro de família é

- (A) 70.
- (B) 80.
- (C) 90.
- (D) 100.
- (E) 110.

22

Eva, Bia e Gal encontraram-se para almoçar e estavam com bolsas parecidas, mas com cores diferentes. Uma bolsa era cinza, outra era marrom e outra era preta.

Das afirmativas seguintes, **somente uma** é verdadeira:

- Eva está com a bolsa preta.
- Bia não está com a bolsa marrom.
- Gal não está com a bolsa preta.

É correto afirmar que

- (A) Eva tem a bolsa marrom.
- (B) Bia tem a bolsa preta.
- (C) Gal tem a bolsa marrom.
- (D) Eva tem a bolsa cinza.
- (E) Bia não tem a bolsa cinza.

23

A Secretaria de Segurança Pública do Estado do Amazonas registrou as ocorrências de roubo de veículos em Manaus nos últimos anos. No ano de 2019 foram 2440 ocorrências e no ano seguinte, 1880.

Nesse período, as ocorrências de roubo de veículos em Manaus diminuíram em cerca de

- (A) 14%.
- (B) 17%.
- (C) 20%.
- (D) 23%.
- (E) 26%.

24

Os 9 números 1, 4, 7, 10, 13, 16, 19, 22, 25 são colocados, sem repetição, em uma tabela (matriz) 3×3 , isto é, com 3 linhas e 3 colunas, de modo que a soma dos números de cada coluna seja sempre a mesma.

Essa soma dos elementos de cada coluna, que é sempre a mesma, é igual a

- (A) 37.
- (B) 38.
- (C) 39.
- (D) 40.
- (E) 41.

25

Considere uma operação entre números inteiros maiores do que zero, representada pelo símbolo $\&$ e definida como:

$$a \& b = 3a + b, \text{ sendo } a \text{ e } b \text{ números inteiros positivos.}$$

Considere também o conjunto C cujos elementos são os números inteiros x , maiores do que zero, tais que $x \& 2$ seja múltiplo de 4 e menor do que 40.

O número de elementos do conjunto C é igual a

- (A) 1.
- (B) 2.
- (C) 3.
- (D) 4.
- (E) 5.

26

Sabe-se que a sentença “Patrícia é amazonense ou Marlene não nasceu em Manaus” é FALSA.

É correto concluir que

- (A) se Patrícia não é amazonense, então Marlene não nasceu em Manaus.
- (B) Patrícia não é amazonense e Marlene não nasceu em Manaus.
- (C) se Marlene nasceu em Manaus, então Patrícia é amazonense.
- (D) se Patrícia é amazonense, então Marlene não nasceu em Manaus.
- (E) Patrícia é amazonense e Marlene nasceu em Manaus.

27

Laurindo pagou uma conta atrasada, com multa e juros, no valor total de R\$ 1470,00. Multa e juros corresponderam a 5% do valor original que Laurindo deveria pagar.

O valor original que Laurindo deveria pagar era

- (A) R\$ 1350,00.
- (B) R\$ 1396,50.
- (C) R\$ 1400,00.
- (D) R\$ 1422,50.
- (E) R\$ 1430,00.

28

Caminhando em um ritmo constante de 2 passos por segundo, Alexandre foi de sua casa ao colégio em 20 minutos.

Com passos iguais aos anteriores, caminhando ao ritmo constante de 3 passos por segundo, Alexandre percorrerá o trajeto de sua casa ao colégio em

- (A) 12 minutos.
- (B) 13 minutos e 20 segundos.
- (C) 15 minutos e 10 segundos.
- (D) 18 minutos e 30 segundos.
- (E) 30 minutos.

29

Em um plano cartesiano, define-se a “distância do taxista” entre dois pontos $P_1(x_1, y_1)$ e $P_2(x_2, y_2)$, representada por $d(P_1, P_2)$, como sendo $d(P_1, P_2) = |x_1 - x_2| + |y_1 - y_2|$.

Dados os pontos $A(1, 6)$, $B(2, 2)$ e $C(4, 4)$, é correto afirmar que

- (A) $d(A, B) > d(A, C) > d(B, C)$.
- (B) $d(A, B) = d(A, C) > d(B, C)$.
- (C) $d(A, B) < d(A, C) = d(B, C)$.
- (D) $d(A, B) > d(A, C) = d(B, C)$.
- (E) $d(A, B) = d(A, C) = d(B, C)$.

30

Em um triângulo retângulo ABC , com ângulo reto no vértice A , a mediana AM relativa à hipotenusa mede 3cm e o ângulo ABC mede 75° . A área do triângulo ABC , em centímetros quadrados, é:

- (A) $\frac{9}{2}$.
- (B) $\frac{9\sqrt{3}}{2}$.
- (C) $\frac{9\sqrt{3}}{4}$.
- (D) $4\sqrt{3}$.
- (E) 6.

Geografia do Amazonas

31

O Bioma Amazônia corresponde a cerca de 49% do território brasileiro. É caracterizado pelo clima dominante quente e úmido, a predominância da fisionomia florestal e pelo próprio contexto da Bacia do rio Amazonas, que possui a maior rede hidrográfica do planeta.

Sobre a importância da conservação deste bioma, analise as afirmativas a seguir.

- I. O Bioma Amazônia contribui para o desenvolvimento da biotecnologia por seu estoque de material genético.
- II. O Bioma Amazônia contribui para acelerar o aquecimento global por seu estoque e sua capacidade de fixação de carbono.
- III. O Bioma Amazônia contribui para a manutenção das características do clima regional pela transferência de grandes quantidades de vapor d'água para a atmosfera.

Está correto o que se afirma em

- (A) I, apenas.
- (B) II, apenas.
- (C) III, apenas.
- (D) I e III, apenas.
- (E) I, II e III.

32

Na Bacia Amazônica os rios se diferenciam, principalmente, em função da quantidade de sedimentos transportados e da composição química de suas águas, que, por sua vez, estão relacionadas com a geologia, a geomorfologia e com os solos das áreas drenadas.

Os rios que nascem no Planalto das Guianas, sobre rochas antigas e resistentes, ou na própria planície Amazônica, em áreas de baixíssima declividade e solos arenosos, ricos em matéria orgânica e extremamente pobres em nutrientes, são denominados

- (A) rios de águas brancas.
- (B) rios de águas pretas.
- (C) rios de águas claras.
- (D) rios de terra firme.
- (E) rios de várzea.

33

Em meados do século XVIII, durante o governo do Marquês de Pombal (1750-1777), a Coroa Portuguesa procurou estender a posse sobre os territórios não ocupados no continente americano, garantir a soberania sobre as áreas consideradas ocupadas, incentivar o crescimento econômico e aumentar a arrecadação colonial.

Nesse período, uma das principais ações da Coroa Portuguesa para garantir o controle do território amazônico consistiu

- (A) na criação das primeiras missões jesuíticas no vale amazônico.
- (B) na expansão da monocultura da borracha para as zonas de fronteira.
- (C) na promoção de centros de mineração de ouro nas áreas das chapadas.
- (D) na edificação de fortificações em pontos estratégicos da bacia amazônica.
- (E) na compra de terras nas serranias para a exploração da pecuária intensiva.

34

Leia o fragmento a seguir.

A distribuição espacial dos compartimentos do relevo é desigual ao longo do território brasileiro. No Estado do Amazonas, por exemplo, predominam compartimentos de _____ (70%) e de _____ (15%), e sua altimetria é majoritariamente inferior a 100 m, o que demonstra o caráter _____ da região.

Assinale a alternativa cujos itens completam corretamente as lacunas do fragmento acima.

- (A) planície – chapada – soerguido.
- (B) planície – planalto – desnudado.
- (C) tabuleiro – planície – desnudado.
- (D) depressão – chapada – soerguido.
- (E) depressão – planície – desnudado.

35

Entre as zonas de garimpo de ouro que se encontram em território amazônico, aquela que está situada na divisa entre os estados de Rondônia e Amazonas, na qual o ouro se encontra depositado em forma de sedimentos no canal fluvial, nos bancos de areia ou nas margens dos rios e onde a extração se desenvolve sobretudo por meio de balsas e dragas é conhecida como região aurífera

- (A) do Rio Madeira.
- (B) de Serra Pelada.
- (C) de Alta Floresta.
- (D) do Alto Rio Negro.
- (E) de Porto e Lacerda.

36

Sobre a relação entre o *boom* da borracha (1850-1912) e o povoamento da Amazônia, analise as afirmativas a seguir.

- I. Durante o período houve um aumento da população total da região amazônica.
- II. As frentes de exploração da borracha foram se deslocando para os altos vales dos afluentes do Amazonas.
- III. No período do *boom* da borracha houve um importante fluxo migratório de trabalhadores da Região Sul do país em direção à Amazônia.

Está correto o que se afirma em

- (A) I, apenas.
- (B) II, apenas.
- (C) III, apenas.
- (D) I e II, apenas.
- (E) I, II e III.

37

A exploração de produtos florestais não madeireiros é realizada na Amazônia desde os primórdios da ocupação humana e caracterizou os ciclos econômicos na região até a década de 1970.

Na atualidade, o principal produto extrativo do estado do Amazonas, em termos de valor da produção, é

- (A) a Castanha-do-Pará.
- (B) a Erva-Mate.
- (C) o Açaí (fruto).
- (D) a Borracha natural.
- (E) a Castanha-do-Pará.

38

De acordo com o boletim “Amazônia em Chamas”, publicado pelo Instituto de Pesquisa Ambiental da Amazônia (IPAM), entre 2019 e 2021, a perda de floresta na região ultrapassou os 10 mil km² ao ano.

Com relação ao desmatamento na Amazônia entre 2019 e 2021, assinale V para a afirmativa verdadeira e F para a falsa.

- () As terras públicas apresentaram um aumento da área desmatada em relação ao triênio anterior.
- () No conjunto da região observou-se uma queda do desmatamento em relação ao triênio anterior.
- () Entre as terras públicas, as Terras Indígenas apresentaram os maiores percentuais de desmatamento no triênio.

As afirmativas são, respectivamente,

- (A) F – V – F.
- (B) F – V – V.
- (C) V – F – F.
- (D) V – V – F.
- (E) F – F – V.

39

A Hidrelétrica de Balbina foi construída no rio Uatumã, no estado do Amazonas, para fornecer energia para a cidade de Manaus, e foi inaugurada no final da década de 1980.

Sobre a produção energética e os impactos ambientais associados à Hidrelétrica Balbina, assinale V para a afirmativa verdadeira e F para a falsa.

- () A capacidade instalada de geração de energia de Balbina é a maior entre as hidrelétricas da região amazônica.
- () O enchimento do reservatório afogou florestas e formou uma paisagem fragmentada de ilhas isoladas.
- () O aumento na acidez da água da represa, causado pela decomposição da vegetação, pode causar a corrosão das turbinas.

As afirmativas são, respectivamente,

- (A) F – V – F.
- (B) F – V – V.
- (C) V – F – F.
- (D) V – V – F.
- (E) F – F – V.

40

Segundo o Instituto Socioambiental (ISA), na Amazônia Legal vivem 173 povos em 405 Terras Indígenas, que somam 1.085.890 quilômetros quadrados, ou 21,7% da região. Ainda de acordo com o ISA, as Terras Indígenas amazônicas sofrem pressões socioambientais resultantes de diversas atividades econômicas.

Ao longo do ano de 2020, aproximadamente 500 hectares de floresta foram devastados na Terra Indígena Yanomami, segundo o relatório produzido pela Hutukara Associação Yanomami e pela Associação Wanasseduume Ye'kwana. Esta supressão florestal se deve, majoritariamente,

- (A) ao garimpo ilegal.
- (B) à pecuária extensiva.
- (C) à exploração de petróleo.
- (D) aos projetos hidrelétricos.
- (E) ao manejo florestal comunitário.

História do Amazonas

41

As missões desempenharam um papel importante na ocupação territorial do vale amazônico durante o período colonial, mas as disputas entre elas exigiram uma intervenção da Coroa que, mediante cartas régias, fixou as áreas de atuação das principais ordens.

Assinale a afirmativa que relaciona corretamente a ordem religiosa à região em que atuou predominantemente.

- (A) Os mercedários instalaram aldeias missionárias no Baixo Amazonas, tendo como centro Gurupá.
- (B) Os capuchinhos ficaram com as missões do Urubu, Anibá, Uatumã e trechos do Baixo Amazonas.
- (C) Os carmelitas criaram fundaram missões e fazendas ao longo dos territórios dos rios Negro e Solimões.
- (D) Os jesuítas criaram as missões no “Cabo do Norte” (atual Amapá), instalando aldeamentos em Marajó e Norte do Rio Amazonas.
- (E) Os franciscanos de Santo Antônio ficaram com o sul do rio Amazonas até a fronteira com as possessões espanholas, abrangendo os rios Tocantins, Xingu e Madeira.

42

O contato dos europeus com os ameríndios no início da época moderna criou a necessidade de “traduzir” as populações nativas para o universo mental ocidental.

A esse respeito, estabeleça a correspondência entre os vocábulos utilizados para identificar os povos indígenas e seus respectivos significados.

- | | |
|---|---|
| <ul style="list-style-type: none"> 1. Gentios 2. Negros da Terra 3. Tapuia | <ul style="list-style-type: none"> () Vocábulo em geral utilizado pelos senhores escravocratas para designar os índios de maneira genérica e diferenciá-los dos negros da Guiné (os africanos). () Vocábulo tupi utilizado pelos colonos europeus para classificar as comunidades indígenas que não falavam a “língua geral”. () Vocábulo em geral utilizado pelos missionários, como sinônimo de pagão, para indicar que os indígenas não eram cristãos. |
|---|---|

Assinale a opção que indica a correspondência correta, de cima para baixo.

- (A) 1, 3 e 2.
- (B) 2, 3 e 1.
- (C) 3, 1 e 2.
- (D) 1, 2 e 3.
- (E) 2, 1 e 3.

43

Em ofício de 08 de agosto de 1836, o general Andreas, que organizava a repressão à revolta dos Cabanos, informou as autoridades da Corte:

“Não estou exagerando as crises a Vossa Excelência, ou esses códigos Criminais e do Processo não de [melhorar] ou ser substituídos por Leis úteis, em que todos vejam garantidos as nossas honras, nossas vidas e nossos bens; ou esta Província há de pertencer a Tapuios, e o resto do Brasil a negros.”

(Arquivo Público do Pará. Correspondência de Governo com a Corte. Códice: 1039 – Ministério da Justiça. Ofício de 8 de agosto de 1836)

É correto afirmar que, no documento, o general

- (A) demonstra o temor da elite com a reforma agrária liderada por Félix Clemente Malcher.
- (B) apela para as autoridades do governo de Lisboa enviarem reforços militares.
- (C) tranquiliza quanto à manutenção da ordem escravista, uma vez que inexistiam quilombos na região.
- (D) expõe a sua descrença na legislação criminal vigente no Império para conter as revoltas sociais.
- (E) omite a participação de indígenas destribalizados, que chegavam a um terço dos rebeldes.

44

Assinale a alternativa que indica corretamente etapas da expedição de Francisco de Orellana (1542).

- (A) Saiu do Peru, navegou o rio Napo e percorreu o Amazonas até a foz, de onde seguiu para Nova Cádiz.
- (B) Partiu de Quito, percorreu o rio Solimões e chegou em Belém, de onde prosseguiu para São Luiz.
- (C) Partiu de Cameté, percorreu o Amazonas, e chegou em Quito, no Peru, em busca de prata.
- (D) Começou em São Luiz, de onde chegou em Gurupá e percorreu um trecho do Amazonas.
- (E) Partiu de Santa Fé de Bogotá, percorreu o rio Negro e voltou para Quito.

45

Tendo em vista o processo de formação territorial do Brasil, analise as afirmativas a seguir.

- I. Durante a União Ibérica, a expedição de Pedro Teixeira (1637-1639) ajudou a Coroa portuguesa a tomar posse da região amazônica e a expandir as fronteiras assinaladas pelo Tratado de Tordesilhas (1494).
- II. Em meados do século XVIII, foi assinado o Tratado de Madri (1750) para definir os limites das possessões espanholas e lusas na América do Sul, com base no princípio do direito romano de propriedade (*uti possidetis, ita possideatis*).
- III. Em 1777, Espanha e Portugal firmam o tratado de Santo Ildefonso, que expandiu ainda mais o território português na América, mediante a compra do atual Estado do Acre, então pertencente ao vice-reino do Peru.

Está correto o que se afirma em

- (A) I, apenas.
- (B) I e II, apenas.
- (C) I e III, apenas.
- (D) II e III, apenas.
- (E) I, II e III.

46

Observe o cartaz a seguir, elaborado para estimular os “soldados da borracha”. O slogan da campanha, “Mais Borracha para a Vitória”, indicava a importância que a borracha adquiriu no período.



Os “soldados da borracha” eram

- (A) um contingente de mão de obra mobilizado durante a Primeira Guerra Mundial no Brasil para atender a indústria bélica dos Aliados contra os impérios centrais.
- (B) migrantes nordestinos recrutados durante o governo de Rodrigues Alves, para acelerar a extração de borracha nos seringais da Amazônia e exportar para Europa em guerra.
- (C) trabalhadores brasileiros, comparados a soldados pela campanha de povoamento da Amazônia, região considerada um vazio populacional pelo governo dos militares.
- (D) homens recrutados na região nordeste entre 1943 e 1945 que, sob a patente de soldados, migraram em direção à Amazônia para trabalhar nos seringais.
- (E) seringueiros custeados pelos Estados Unidos, preocupados com a alta do preço do látex que provinha de suas colônias do sudeste asiático, então dominadas pelo Japão.

47

A respeito da economia e sociedade dos ciclos da borracha, analise as afirmativas a seguir e assinale V para a afirmativa verdadeira e F para a falsa.

- () A descoberta do processo de vulcanização da borracha ampliou as possibilidades de suas aplicações na indústria, por aumentar sua resistência e durabilidade.
- () O regime de exploração dos seringueiros provocava um endividamento do seringueiro, que não tinha outra alternativa a não ser continuar a trabalhar em péssimas condições.
- () As estradas de seringueiras eram construídas em forma de gota para que, ao fim da estrada, o seringueiro estivesse novamente próximo ao início.

As afirmativas são, de cima para baixo,

- (A) F – F – V.
- (B) F – V – V.
- (C) V – F – F.
- (D) V – V – F.
- (E) V – V – V.

48

Assinale a opção que indica corretamente uma característica da Zona Franca de Manaus.

- (A) As empresas operam com uma regulamentação cambial mais flexível do que a vigente no território nacional.
- (B) Os acionistas das empresas recebem garantia de sigilo bancário e anonimato.
- (C) As empresas instaladas na zona franca recebem incentivos fiscais e tarifas alfandegárias reduzidas.
- (D) As atividades industriais estão isentas de controle de órgãos reguladores nacionais.
- (E) As montadoras atuam em território internacionalizado, por isso estão isentas de impostos locais.

49

Em 23 de julho de 1924 eclodiu um movimento militar com a finalidade de depor o governo do Estado do Amazonas.

As afirmativas a seguir caracterizam corretamente a “Rebelião de 1924”, **à exceção de uma**. Assinale-a.

- (A) A rebelião foi causada pela desestruturação dos seringais e das casas aviadoras de Manaus e Belém promovida pela legislação fundiária dos interventores.
- (B) O levante foi liderado pelo Tenente Alfredo Augusto Ribeiro Júnior e contou com a participação de outros capitães e tenentes, originários do sul e do nordeste do Brasil.
- (C) As lideranças apresentavam propostas antioligárquicas, como o saneamento dos salários atrasados por meio da cobrança de um imposto denominado “Tributo da Redenção”.
- (D) Os revoltosos exigiam o afastamento do grupo político do governador Rego Monteiro, sendo apoiados pelo funcionalismo público e pelos opositores a esse governo.
- (E) A “Comuna de Manaus” foi sufocada por forças militares federais vindas de Belém, após um mês de seu início, aproximadamente.

50

Leia o trecho da entrevista do escritor manauense Márcio Souza comentando um trecho de seu História da Amazônia (2019):

“Um movimento de veículos de toda a sorte, um vaivém contínuo, que parecia mais um grande centro europeu do que uma cidade tropical”, disse um viajante europeu sobre a Belém do fim do século 19. “A mais refinada das civilizações chegou até o rio Negro”, teria afirmado outro, em referência ao Teatro Amazonas, erguido em Manaus. Entre 1870 e 1910, o extrativismo da borracha trouxe prosperidade e europeização para as grandes cidades amazônicas. Algo, obviamente, desfrutado apenas por uma minoria. Por debaixo da opulência, se encontrava “a mais criminosa organização do trabalho que ainda engendrou o mais desaçamado egoísmo”, conforme a descrição de Euclides da Cunha das condições dos seringueiros em ‘À Margem da História’, citado em ‘História da Amazônia’.”

(<https://www.nexojournal.com.br>)

Assinale a afirmativa que interpreta corretamente os impactos do desenvolvimento da economia gomífera indicados no texto.

- (A) O auge da borracha atraiu massas de trabalhadores, impactando o sistema rodoviário de Belém e Manaus.
- (B) O sistema de trabalho nos seringais era similar ao das indústrias europeias, com longas jornadas e baixos salários.
- (C) Os seringueiros estavam à margem da história, pois não se beneficiavam com o progresso industrial de Belém e Manaus.
- (D) A exportação do látex amazônico custeou o embelezamento urbano de Manaus, transformada em “Miami brasileira”.
- (E) A prosperidade da borracha permitiu reestruturar em estilo europeu as principais cidades da Amazônia.

Noções de Informática

51

Analise as afirmativas sobre a *Lixeira* do Windows 10.

- I. Os arquivos são deletados definitivamente após 30 dias de permanência na *Lixeira*.
- II. Arquivos deletados de um *pen drive* não são armazenados na *Lixeira*.
- III. A *Lixeira* tem uma capacidade de armazenagem limitada, que pode ser estendida se necessário.

Está correto o que se afirma em

- (A) I, somente.
- (B) II, somente.
- (C) III, somente.
- (D) I e II, somente.
- (E) II e III, somente.

52

Em computadores de mesa e notebooks, as operações *copiar*, *colar* e *recortar* são amplamente disseminadas e empregadas pela maioria dos aplicativos, em especial aqueles destinados à edição de textos. Como essas operações são de uso frequente, há atalhos de teclado que permitem comandá-las com rapidez.

No Windows, os atalhos para essas operações são, na ordem,

- (A) Ctrl-C, Ctrl-L e Ctrl-R.
- (B) Ctrl-C, Ctrl-V e Ctrl-X.
- (C) Ctrl-V, Ctrl-X e Ctrl-V.
- (D) Ctrl-Y, Ctrl-V e Ctrl-X.
- (E) Ctrl-Y, Ctrl-V e Ctrl-Z.

53

Os componentes do LibreOffice 4.2 que correspondem funcionalmente aos componentes Excel, Word e PowerPoint do Microsoft Office são, na ordem,

- (A) Base, eM e ShowTime.
- (B) Calc, Writer e Impress.
- (C) Lotus, Doc e Visio.
- (D) Math, Write e Presentation.
- (E) WorkSheet, Text e Slide.

54


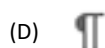
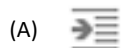
Maria preparou um documento por meio do MS Word 2010, e pretende enviá-lo para vários colegas da sua turma da faculdade. O referido documento contém texto, imagens e tabelas, e Maria sabe que seus colegas usam diferentes equipamentos, com diferentes aplicativos. Sendo assim, Maria deve salvar seu documento, usando o comando “Salvar como” do Word, com um tipo de arquivo preferencialmente acessível a todos.

Assinale o tipo de arquivo mais adequado nesse caso.

- (A) .csv
- (B) .docx
- (C) .pdf
- (D) .txt
- (E) .xps

55

Em relação ao MS Word 2010, assinale a opção que indica o ícone da função que habilita a exibição de marcas de parágrafo e outros símbolos de formação ocultos.



56

Considere uma pesquisa no Google a partir do texto de busca mostrado a seguir.

Brazil -brasil

Nesse cenário, imagine a presença de cinco páginas hipotéticas da Internet, cada uma com o respectivo conteúdo mostrado no quadro abaixo.

Página	Conteúdo
1	O Brasil tem mais de 200 milhões de habitantes.
2	Brazil (- Brasil) population: over 200,000,000.
3	Brasil já foi Brazil.
4	Brasil, brasileiro.
5	Brazil, Russia, India, China, South Africa.

Assinale quantas dessas páginas estariam incluídas no resultado da busca.

- (A) Zero.
 (B) Uma.
 (C) Duas.
 (D) Três.
 (E) Quatro.

57

No Windows 10, a utilização da ferramenta administrativa intitulada *Defender Firewall* volta-se para aspectos referentes

- (A) à segurança do computador.
 (B) ao controle das contas dos usuários.
 (C) ao gerenciamento de memória.
 (D) ao gerenciamento do sistema de arquivos.
 (E) às políticas de backup e recuperação pós falhas.

58

No contexto das planilhas eletrônicas, assinale o efeito da operação de mesclagem.

- (A) Aplica nas células selecionadas um formato que combina os formatos originais de cada célula.
 (B) Desenha as linhas de grade que separam as células selecionadas.
 (C) Ordena as células selecionadas em ordem crescente ou decrescente.
 (D) Une as células selecionadas numa célula maior, exibindo um único valor.
 (E) Uniformiza a formatação das células selecionadas.

59

Maria quer incluir uma citação no documento Word que está preparando. O texto obtido da Internet, com cerca de três parágrafos, deve ser colado e adotar a mesma formatação usada no trecho no qual será exibido.

Assinale a opção que Maria deve utilizar ao colar o texto da citação por meio do comando *Colar* na guia *Página inicial*.

- (A) Colar especial/Formato HTML.
 (B) Colar especial/Texto não formatado.
 (C) Manter Formatação Original.
 (D) Manter Somente Texto.
 (E) Mesclar Formatação.

60

Considere uma planilha do MS Excel 2010 que contém:

- na célula A1, o valor 1;
- na célula B1, a fórmula “=A1+1”

Dado que a célula B1 foi copiada e colada na região C1:AZ1, assinale o valor exibido na célula AA1.

- (A) 1
 (B) 2
 (C) 26
 (D) 27
 (E) 52

Realização

